



Kwisboekje

Antwoorden

WEGSTREEPCATEGORIE:



### Hoofdsponsors:



GEZONDHEIDSCENTRUM  
SINT ANTHONIS

### Sponsors:



### Mediapartner:




Kwizzut 2015 is mede mogelijk gemaakt door MFA Oelbroeck, 't Dorpshuus, Biblioplus en de Gemeente Sint Anthonis. Tevens grote dank aan iedereen die Kwizzut op enigerlei wijze met zoveel enthousiasme heeft geholpen.



## Lees onderstaande informatie goed door voordat je aan de kwis begint.

### Wanneer wordt een antwoord goed gerekend?

Simpel: als het antwoord goed is. Daarna gelden de volgende geboden:

- Vul de antwoorden in, in de grijze kaders van het vragenboekje.
- Schrijf duidelijk. Aan niet of slecht leesbare antwoorden worden geen punten toegekend.
- Spel correct. Als dit symbool  bij het antwoord vermeld staat, letten wij zeer scherp op de spelling. Staat het symbool in de lichtblauwe balk, dan geldt dit voor de gehele vraag (alle deelantwoorden).  
*Niet goed gespeld = antwoord wordt fout gerekend!*

### Wegstreepcategorie

Wij werken met een wegstreepcategorie. De punten van die categorie tellen niet mee voor de einduitslag. Je moet als team zelf kiezen welke categorie je wegstreepcategorie is. Wij adviseren eerst alle categorieën te maken om vervolgens te beslissen welke categorie wordt weggestreept. Geef de wegstreepcategorie aan op de voorzijde van het boekje. Let op: als je geen categorie wegstreept, dan doen wij het...en kiezen wij de categorie waarin jouw team de meeste punten heeft gescoord. Let op: de geheime opdracht kan niet worden weggestreept. In elke categorie zijn honderd punten te behalen.

### Geheime opdracht

De geheime opdracht mag dit jaar niet ontbreken! Dit is categorie 13. Ieder team moet voor deze geheime opdracht één teamlid naar 't Dorpshuus in Ledeacker sturen. Dit teamlid:

- moet exact om 20.30 uur aanwezig zijn in 't Dorpshuus (te laat aanwezig? Jullie team krijgt 0 punten voor deze categorie);
- moet écht in zijn/haar eentje komen!
- mag zijn/haar mobiele telefoon niet meenemen (ook geen tablets of iets van dien aard);
- komt in sporttenu!!!
- neemt de Omstreeks van 16 of 23 december 2015 mee;
- zorgt ervoor dat hij/zij zijn/haar teamnummer en teamnaam weet!
- is rond 21.30-21.45 uur weer klaar met de opdracht.

Wij verzoeken de deelnemers aan de geheime opdracht zoveel mogelijk met de fiets te komen om gevaarlijke verkeerssituaties en parkeerproblemen te voorkomen.

Let op: de geheime opdracht kan niet worden weggestreept!

We vertellen nu natuurlijk niet wat de geheime opdracht is.

**Tip:** heel benieuwd of jij je schoolgeld terug moet halen!

Vervolg speluitleg op de volgende pagina.



Vervolg speluitleg van de vorige pagina.

### **Hé, er zitten kruiden, touwtjes, een ballon en een USB-stick in mijn envelop!**

Klopt, deze heb je nodig bij diverse vragen.

### **Categorie 'Schuupe'**

Bij de categorie 'Schuupe' moet je op pad. Denk hierbij aan de verkeersregels en de geldende fatsoensnormen. En..... 'Glaasje op, laat je rijden!'

### **Hoe en wanneer moet het originele vragenboekje weer worden ingeleverd?**

Stop alle bladzijden van het originele boekje (dus geen kopie) op genummerde volgorde in de bijgeleverde snelhechter en vervolgens in de genummerde envelop. Ook de USB-stick en de touwtjes moeten in de envelop worden ingeleverd. De bladzijden niet in de juiste volgorde inleveren betekent puntenaftrek. Lever de envelop in bij MFA Oelbroeck, tussen 23.00 uur en uiterlijk 23.30 uur.

### **Foto's maken**

Elk team maakt tijdens het beantwoorden van de vragen of het maken van de opdrachten zelf foto's. Een aantal van deze foto's wordt gebruikt tijdens de feestavond op 16 januari, waarop de uitslag van Kwizzut bekend wordt gemaakt. Zet vijf gemaakte foto's op de bijgeleverde USB-stick.

### **Hoe laat is het nu eigenlijk precies?**

De 'aftelklok' op onze site [www.kwizzut.nu](http://www.kwizzut.nu) is leidend voor het uiterlijke tijdstip van inleveren van het vragenboekje.

### **Wanneer weet ik of mijn team heeft gewonnen?**

Op zaterdagavond 16 januari 2016 wordt de uitslag van Kwizzut 2015 in de Activiahall bekend gemaakt. Op die avond worden ook de prijzen uitgereikt en is er een afsluitende feestavond.

### **Reglement**

Meer informatie over Kwizzut 2015 is te vinden in het reglement dat op de website [www.kwizzut.nu](http://www.kwizzut.nu) staat.

### **Noodnummer**

Alleen in noodgevallen is de organisatie op 27 december 2015 tussen 18.00 uur en 23.30 uur bereikbaar op

**06-22622470.**



### 1.01 IN MEMORIAM

Op 23 juni 2015 overleed Thé Lau, hij werd 62 jaar oud. Naast muzikant was hij tekstdichter/-schrijver. Een aantal keren behaalde zijn muziek de top 40.

Eerder dit jaar stierf een andere beroemde muzikant. Deze behaalde met zijn liedjes een eerste én een tweede plek in de top 40 in hetzelfde jaar. Wie wordt hier bedoeld?

A Demis Roussos

ABC

Wat is de sterfdatum van deze persoon?

In welk jaar stond hij met twee nummers op de eerste en tweede plaats?

B 25 januari 2015

C 1973

Wat is de titel van het nummer dat de eerste plaats haalde?

D My Friend The Wind of Schönes Mädchen aus Arcadia

ABC

\* Ook mogelijk: A: Rutger Gunnarsson (ABBA), B: 30 april 2015, C: 1979, D: Chiquitita

### 1.02 LET'S BOOGIE

Welke plaats pretendeert, elk jaar, het grootste BOOGIE WOOGIE festival van de wereld te organiseren?

A La Roquebrou

### 1.03 HIP

Medio 2010 begonnen ze samen achter een tafel in een A'damse discotheek. In 2012 kwam hun eerste single uit en in datzelfde jaar bereikte zij hun eerste top 40 hit. Hun werk combineert geluiden uit diverse stijlen. In 2015 staan zij op op festivalpodia als Paaspop en de Nijmeegse Zomerfeesten.

Hoe noemt het trio - dat hier wordt bedoeld - zich?

A Yellow Claw

ABC

### 1.04 BEROEMDE PASJES

Wat is de oorspronkelijk Franse naam van deze klassieke danspositie? Omcirkel het juiste antwoord.



A mauresque

B épaulé-jeté

C arabesque

D pas de bourré

**1.05 IEDER Z'N DANS**

Schrijf bij onderstaande dansen het land van oorsprong. Kies uit Griekenland, Cuba, Zuid India, Argentinië, Frankrijk, Andalucië en de Verenigde Staten.

A Tango: Argentinië

B Bharata natyam: Zuid India

C Flamenco: Andalucië

D Cancan: Frankrijk

E Sirtaki: Griekenland

F Break dance: Verenigde Staten

G Salsa: Cuba

**1.06 GEÏNSPIREERD**

ABC

Hieronder zie je een Duitse gravure die de inspiratie vormde voor een beroemde opera. Wat is de titel van de opera (A) en wie is de componist (B)?



A De vliegende Hollander

B Richard Wagner


**1.07** LOKAAL

Wat hebben onderstaande mannen gemeen?

Theo Kroot, Sjaak van Kempen, Tinie Kersten, Jo de Jong, Theo Willems

**A** Zij zijn allen erelid van Muziekvereniging Sint Cecilia

Welke woorden passen bij deze mannen? Zet de de juiste hierboven genoemde naam achter ieder woord.

**B1** Viool: Jo de Jong

**B2** Vaandeldrager: Theo Willems

**B3** Ouverture Oelbroeck: Sjaak van Kempen

**B4** Saxofoon: Tinie Kersten

**B5** Papier: Theo Kroot

Wie is dit (C1)? En van welke band is hij de drummer (C2)?

**C1** Willem Thijssen



**C2** Super Soakers




**1.08 MUZIEK VAN ALLE TIJDEN**


Jaarlijks verschijnt er een nieuwe top-2000-hitlijst.

Onderstaande titels stonden in de hitlijst van 2014. Vermeld in volgorde van goed naar beter het nummer op de ranglijst, de titel en de artiestennaam.

*Ren Lenny Ren – The day before you came – Zing voor me – I'm not so tough – Old and Wise – Let's go crazy – Alive & Kicking – Avond*

Ranglijstnummer	Titel	Artiest
<b>A</b> 1410	Let's go crazy	Prince
1276	Zing voor me	Lange Frans en Thé Lau
759	I'm not so tough	Ilse de Lange
514	Alive and Kicking	Simple minds
428	Ren Lenny Ren	Acda en de Munnik
133	The day before you came	Abba
28	Old and Wise	The Alan Parsons Project
5	Avond	Boudewijn de Groot

*Autobahn – New Years Day – Perfect Day – Summer is over– Oude Maasweg – Magic - In Nije Dei – Rocking in a free world*

Ranglijstnummer	Titel	Artiest
<b>B</b> 1785	Summer is over	Dusty Springfield
1027	Magic	Coldplay
705	Autobahn	Kraftwerk
615	In Nije Dei	De Kast
412	New Years Day	U2
358	Rocking in a free world	Neal Young
125	Oude Maasweg	The amazing stroopwafels
92	Perfect Day	Lou Reed





Vervolg van vraag 1.08

Moves like Jagger - België – Skyfall – Johnny B Good – Words – Thinking out Loud – Love of my live – Als je wint

Ranglijstnummer	Titel	Artiest
C 1989	Als je wint	Herman Brood en Henny Vrienten
1375	Moves like Jagger	Maroon 5 en Christina Aguilera
897	België	Het goede doel
847	Johnny B Good	Chuck Berry
792	Words	BeeGees
328	Thinking out Loud	Ed Sheeran
93	Skyfall	Adèle
69	Love of my live	Queen



## 1.09 MUZIEK EN RECLAME

**Gebruik de bijgeleverde USB-stick, ga naar Categorie Muziek, vraag 9.**

Welke muziek hoor je? Geef de titel, de (originele) artiesten en vermeld in welke reclamespot elk lied wordt gebruikt.

**A1** Titel: *Broad Daylight*

Artiest: *Gabriël Ríos*

Reclame: *Appelsientje*

**A2** Titel: *I'm too sexy*

Artiest: *Right Said Fred*

Reclame: *VVN: veilig verkeer Nederland*

**A3** Titel: *Welcome Home*

Artiest: *Radical Face*

Reclame: *Nikon*

**A4** Titel: *Morning has broken*

Artiest: *Cat Stevens*

Reclame: *WWF*

**A5** Titel: *Happy*

Artiest: *C2C*

Reclame: *Citroën / Zalando*



Vervolg van vraag 1.09

### Ga naar <http://youtu.be/zoapfttBUus>

Waarvoor wordt in deze spot aandacht gevraagd (B1) en welke drie kerstliedjes herken je in deze spot (B2)?

B1 *Opvoedlijn.be*

B2 *Stille nacht*

*Jingle bells*

*De herdertjes lagen bij nachte*

### 1.10 KERKELIJK BOUWWERK

Wanneer werd het Vollebregt orgel in de kerk van Sint Anthonis gebouwd?

*1854 / 1855*

**2.01 PROCUREUR GENERAAL?**

Een eetbaar onderdeel van de voorkant van een bekend gedomesticeerd dier heet 'procureur'. Welk dier is dit?

A varken

In Amerika wordt procureur gebruikt voor de Amerikaanse BBQ. Hoe heet dit product in Amerika?

B Pullet Pork

ABC

In Italië wordt ditzelfde product voor een zeer bekende versnapering gebruikt. Hoe heet dit Italiaanse gerecht?

C Coppaham

ABC

**2.02 POIS(S)ON**

In een ver land in Azië eet men als delicatessen een giftige vis. Hoe heet deze vis?

A Kogelvis

Wat is de naam van het gif in deze vis?

B Tetrodotoxine

ABC

Noem vier plekken waar het gif zich in deze vis bevindt.

C1 Ogen

C3 Organen

C2 Ingewanden

C4 Bloed

**2.03 DAT SMAAKT ALS EEN JUTE ZAK**

Wanneer een wijn jute-achtig smaakt dan drinken we hem niet op. Hoe noemt men deze smaak in de volksmond?

A Kurksmaak

Wat is de oorzaak van deze afwijkende smaak?

B Het bleken en desinfecteren van kurken

**2.04** BLADGROEN

Welk gewas wordt hier op dit veld grenzend aan de gemeente Sint Anthonis verbouwd?

Schorseneren

**2.05** BLOEMEN OP HET MENU

Wat is de Nederlandse naam van onderstaande eetbare bloemen?



A Pinda



B Goudsbloem



C Lavendel



D Aardbeïmelde



E Bergmotbloem



### 2.06 HET IS TOCH SUPER?

Heel Amerika en langzamerhand ook verschillende landen in Europa zijn in de ban van Superfood. Een van de nieuwste producten die in vele gerechten gebruikt worden staat zelfs op door fameuze filmsterren gedragen T-shirts onder de titel 'Oh Kale Yeah'. Welk product is dit?

Boerenkool

### 2.07 SMERIG CULINAIR

In een goed vegetarisch restaurant wordt voor sommige gerechten een specerij gebruikt dat naar zwavel, uien, truffel en aarde ruikt. Het is een onooglijk bruin spul dat heel erg stinkt. Toch blijkt het een hele aantrekkelijke specerij te zijn. Wat is de Nederlandse naam van dit product?

Duivelsdrek

### 2.08 NEERGESCHOTEN

Duurzaamheid is het toverwoord dat veel gebruikt wordt door de culinaire pers. Er is een restaurant in Nederland dat deze nieuwe manier van denken voor niet alledaagse producten heel letterlijk vertaalt. Spreeuwen die geschoten worden in kersenboomgaarden worden opgeraapt en verwerkt tot heerlijke gerechten. Dit geldt eveneens voor zwanen die tegenwoordig ook al geschoten mogen worden. Wat is de naam van dit restaurant?

De Pronckheer

### 2.09 IN DE MEDIA

Restaurant Bloemenhof te Sint Anthonis heeft in zes verschillende bladen gestaan. Noem er vijf.

A Ariadne wonen

D Bedrijvig Land van Cuijk

B Lekker

E Prat Op Magazine

C VT Wonen

### 2.10 MEN NEME...

Hoe heet het gerecht dat uit de onderstaande ingrediënten bestaat?

100 gram preiwit, 100 gram gesnipperde wortel, 20 aardappelbolletjes (zelf boren), 750 gram gepelde, ontpitte en kleingesneden tomaten, Bouquet garni, 1 knoflookteentje, zout, peper, 1,5 liter bouillon, 250 gram aardappelsnijdsel, 60-80 gram boter, kervel

A Solferino (soep)

Waarnaar is dit gerecht vernoemd?

B De veldslag tussen Frankrijk en Oostenrijk in 1859 (slag bij Solferino)

**3.01** SCHUUPE 2015

In welke straat vind je deze huisnummers 15?



**A** Lange Loop



**B** Monseigneur Bekkersstraat



**C** Rondveld

**3.02** BEELDSCHOON...

Op de gevel van welk huisadres is dit kunstwerk te vinden?



Randweg 49

**3.03 HET DURP UUT!**

Zowel met de fiets als met de auto kunt u hier Ledeacker uit rijden. Wat is het adres van het huis dat u op de achtergrond ziet?



Hoenderstraat 4

**3.04 BEDRIJVIGHEID**

Bij welk bedrijf (A) hoort onderstaande informatie en op welk adres (B) is dit bedrijf gevestigd?



A verheijen Hoveniersbedrijf

ABC

B Zandkant 1b

**VRAAG C:**

Maak een foto van het gehele reclamebord bij dit bedrijf en zet die op de USB-stick o.v.v.:

**'Schuupe antwoord 4c'****3.05 EEN ECHT FIETSPAD?**

Welke straten worden met elkaar verbonden door dit "Fiets"-pad?



A Den Hoek en Rondveld

Waarom staat het woord Fiets tussen aanhalingstekens?

B Fiets is het dialect van ondermelk, zo herinnert dit "Fiets"pad ons aan de oude melkfabriek die hier dicht bij stond.



## 3.06 ENERGIEK!



Op dit dak liggen 25 zonnepanelen. Op welk adres is dit?

A Dorpsstraat 15 in Ledeacker



Welk adres hoort bij deze foto?

B Den Hil 9 in Sint Anthonis



En welk adres hoort bij deze foto?

C Vrijstraat 1 in Ledeacker

Hoeveel zonnepanelen zijn er totaal op deze drie adressen?

D  $25 + 18 + 46 = 89$



### 3.07 MET DE BUS!



Hiernaast zie je een bushalte-bord.

#### **VRAAG A:**

Maak een foto van dit gehele bord, waarbij de halte-naam duidelijk zichtbaar is.

Zet deze foto op de USB Stick o.v.v.:

### 'Schuupe antwoord 7a'

#### **VRAAG B:**

Maak eveneens een foto van één halte eerder, ook hier moet de halte-naam duidelijk leesbaar zijn. Zet deze foto op de stick o.v.v.:

### 'Schuupe antwoord 7b'

*\* vraag 7a en 7b zijn komen te vervallen.*

Van waar naar waar rijdt deze bus?

**C** Boxmeer-via Sint Anthonis-Wilbertoord óf Boxmeer-via Wilbertoord-Sint Anthonis

#### **Kijk op het bus-tijden-bordje!**

Als je met deze bus reist en je wilt uiterlijk om 14.15 uur in Mill bij Fitland zijn om sportief bezig te zijn, hoe laat moet je dan (uiterlijk) in Stevensbeek Centrum de bus nemen om op tijd te zijn?

**D** 13.42 uur

Stel dat je woont in Sint Tunnis en stel dat er 's zondags nog steeds om 10.00 uur een mis in de kerk van 't Leker is, hoe laat moet je dan (uiterlijk) vanaf de Brink in Sint Tunnis de bus nemen, om op tijd in 't Leker in de kerk te zitten?

**E** vrijdag om 17.46 uur

*\* Ook goed geteld: Deze bus rijdt niet op zondag.*

### 3.08 WEET JIJ HOEVEEL?



Bij welk adres staat deze kruik?

**A** Noordkant 29

Wat is de inhoud van deze kruik in liters?

**B** 1.000 liter

**3.09 STREEKGESCHIEDENIS**

Wat zie je op deze foto?

**A** Een molensteen

**VRAAG B:**

Maak hier een nieuwe foto van, met daarop zichtbaar het informatiebordje dat er bij hoort. Zet deze op de USB-Stick o.v.v.:

**'Schuupe antwoord 9b'**

Wat gebeurde er in 1935 volgens de informatie op dit bordje?

**C** Toen is de Sinttunnisse molen afgebroken

**3.10 DAT SPREEKT BOEKDELEN!**

De organisatie van Kwizzut is zeer verheugd dat de bibliotheek in Sint Anthonis deze avond – zondag 27 december 2015 - de deuren voor Kwizzut heeft opengesteld.

Opdracht:

Ga naar de bieb (gebruik de ingang aan de zijde van de bieb). In de bieb wordt de vraag middels een A3-tje bekend gemaakt. Noteer het antwoord op deze vraag hieronder.

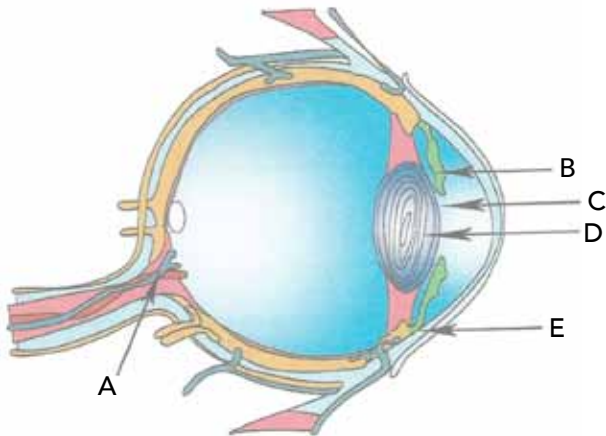
15 óf 16 informatiedragers



#### 4.01 IK ZIE, IK ZIE WAT JIJ NIET ZIET

Hieronder staat een dwarsdoorsnede van het menselijk oog. Plaats de juiste benamingen bij de pijlen in het schema. Gebruik de volgende woorden:

HOORNVLIES - KRISTALLENS - IRIS - PUPIL - OPTISCHE ZENUW



A Optische zenuw

B Iris

C Pupil

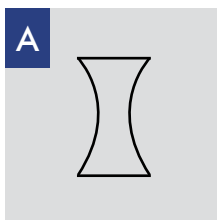
D Kristallens

E Hoornvlies

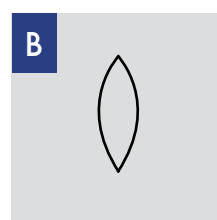
#### 4.02 TEKEN JE LENS

We blijven nog even bij thema 'optica', oftewel waarneming. Teken hier de vijf type lenzen:

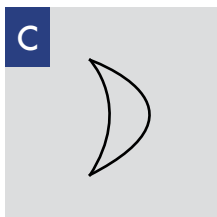
Tweezijdig concaaf symmetrisch:



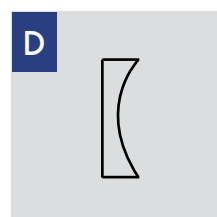
Tweezijdig convex symmetrisch:



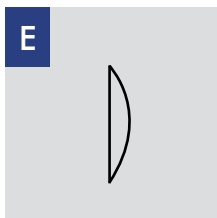
Convergerende meniscus:



Plan concaaf:



Plan convex:



#### 4.03 VERNIETIGEND

In Italië is in 2013 voor het eerst een bacterie ontdekt, die sindsdien meer dan een miljoen olijfbomen heeft aangetast en in hele streken de olijfoogst heeft vernietigd.

Wat is de Latijnse naam van deze bacterie?

*Xylella Fastidiosa*

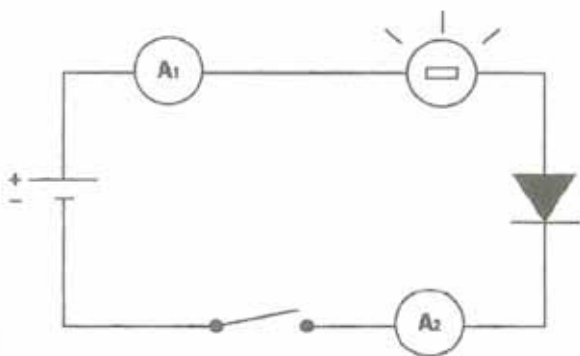


**4.04 SYMBOLISCH**

Hieronder staan tien elektriciteitssymbolen. Zet achter elk symbool de juiste betekenis.

<b>A</b>		Ampèremeter	<b>F</b>		Lamp
<b>B</b>		voltmeter	<b>G</b>		Diode
<b>C</b>		Wattmeter	<b>H</b>		Massa
<b>D</b>		Batterij	<b>I</b>		Aarde
<b>E</b>		Weerstand	<b>J</b>		Open en gesloten schakeling

**4.05 GESTROOMLIJND**

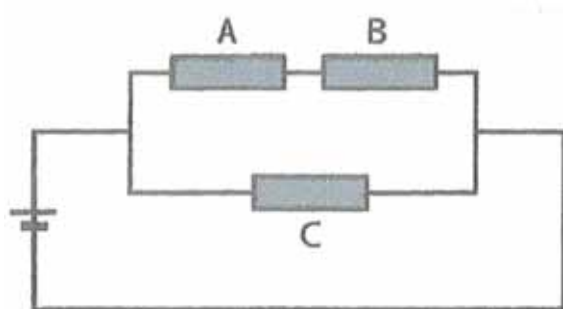


De ampèremeter A1 meet een stroom van 2A, welke stroom meet de ampèremeter A2?

- A** 2 Ampère
- B** 0 Ampère

Als we de draden van de diode omgekeerd aansluiten, wat is dan de stroom gemeten door ampèremeter A1?

**4.06 WEERSTAND**

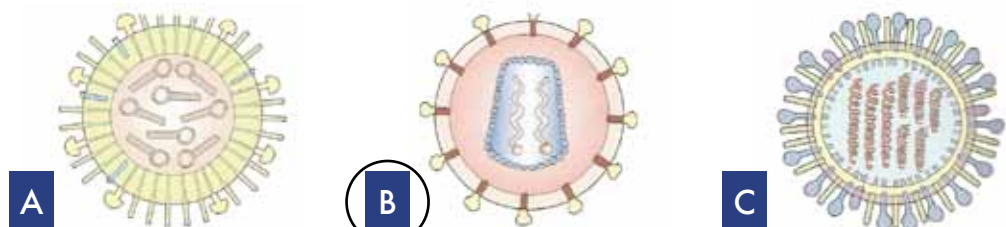


Zie de elektrische schakeling hiernaast. Weerstand A en C bedragen 10 Ohm, weerstand B bedraagt 20 Ohm. De weerstand van de draden is verwaarloosbaar. De aangesloten spanning bedraagt 24 Volt. Hoeveel stroom gaat er door weerstand B?

0,8 Ampère

**4.07 VIRUS**

Welke van de figuren hiernaast geeft het HIV-virus weer? Omcirkel het juiste antwoord.





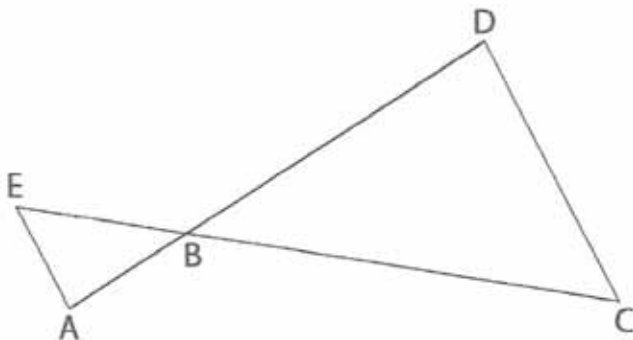
#### 4.08 DE SCHIJF VAN VIJF

Hieronder staan 15 voedingsmiddelen genoemd. Bepaal welke voedingsstof (koolhydraten, vetten of eiwitten) het meeste voorkomt in ieder voedingsmiddel en plaats ze in het goede rijtje.

AARDAPPEL - AVOCADO - BIEFSTUK - BOTER - BROOD - DRUIF - EI - HAM - KABELJAUW - KARAMEL - NOTEN - OLIENOOT - OLIJFOLIE - RIJST - SPAGHETTI

Koolhydraten:		Vetten:		Eiwitten:	
A1	Karamel	B1	Avocado	C1	Ei
A2	Brood	B2	Boter	C2	Kabeljauw
A3	Aardappel	B3	Pinda	C3	Ham
A4	Druif	B4	Olijfolie	C4	Biefstuk
A5	Rijst	B5	Noten		
A6	Spaghetti				

#### 4.09 REKENWONDER



Lijnstuk AE en lijnstuk CD lopen evenwijdig.  
Lijnstuk AE is 4 cm lang. Lijnstuk CD is 10 cm lang.  
Lijnstuk AD is 22 cm lang.

Hoe lang is lijnstuk BD?

15,714

#### 4.10 IN DE KNOOP

In de envelop vind je een zakje met vijf stukjes touw.

We willen dat je hier de volgende vier scheepsknopen van maakt. Let daarbij op dat je de juiste kleur touw gebruikt voor de juiste knoop (zie hieronder aangegeven).

Nog een aandachtspunt: zorg dat je de knopen strak genoeg aantrekt, zodat ze er goed in blijven zitten!

1. Platte knoop: Rood
2. Boerenknoop: Wit
3. Dubbele schootsteek: Blauw + bindtouw
4. Paalsteek: Geel

Als je ze klaar hebt, stop je ze weer terug in het zakje en in de envelop. Succes!



### 5.01 JE SUIS CHARLIE

Op 7 januari vielen in Parijs doden en gewonden bij een aanslag op het satirische weekblad Charlie Hebdo. Hoeveel journalisten kwamen hierbij om het leven (A)?

De CH-cartoonist van de Mohammed kwam bij de aanslag niet om het leven, wat is zijn naam (B)?



A 8

B Renald Luzier



### 5.02 IN HET NIEUWS

Het Achtuurjournaal werd 'overvallen' door een man uit Zoetermeer. Hij beweerde gegijzeld te zijn door zwaarbewapende mannen en dat een groot aantal hackers klaar stond voor een cyberaanval. Om hoeveel hackers zou het gaan (A)?

In de brief van de man stond een schrijffout, hoe werd het woord 'live-uitzending' geschreven (B)?

A 98

B Lieve uitzending



### 5.03 HART VOOR WATER

Op 18 maart waren de Waterschapsverkiezingen 2015 voor Waterschap Aa & Maas. Welke drie mensen uit de gemeente Sint Anthonis stonden op verkiezingslijsten (A)?

Hoeveel mensen uit de gemeente Sint Anthonis maken deel uit van het huidige Dagelijks Bestuur van Aa & Maas (B)?

A1 Erik Geene

B 1

A2 Jeroen van Acquóij

A3 John Heckathorn



### 5.04 IN DE PISTE



Circus Herman Renz ging in 2015 failliet. Renz stond voor 'Ras Echte Nederlandse Zwervers'. Vóór de tweede wereldoorlog gebruikte het circus ook een andere naam. Welke naam was dit (A)? En waar stond deze afkorting voor (B)?

A Circus Arena

B Arnold en Anna



### 5.05 BETER EEN GOEDE BUUR DAN EEN VERRE VRIEND

Sinds kort heeft Sint Anthonis een nieuwe held, hij redde het leven van zijn buurman door met behulp van een riem kordaat op te treden. Wat is de exacte naam van deze held?

Abdiraman Hussein Mohmud



### 5.06 VERJAARD! OF TOCH NIET?




In november 2015 verjaarde de laatste overval van een reeks zeer gewelddadige en bloederige overvallen die in de jaren tachtig in een Europees land plaatsvonden. De daders zijn tot op dit moment nooit gepakt. Men heeft onlangs nog geprobeerd deze verjaringstermijn op te rekken. Hoe werd deze groep daders in de volksmond genoemd (A)? En hoeveel dodelijke slachtoffers maakten deze daders uiteindelijk (B)?

A Bende van Nijvel



B 28

### 5.07 3 x 11



Carnavalsvereniging De Hanen bestond in 2015 maar liefst 33 jaar. Opgericht in 1983 in de Breijenburg door drie enthousiaste carnavalsvierders. Wie waren de grondleggers van deze vereniging?

Herman van Duren

Gert-Jan Bardoel

Hent Baltussen





### 5.08 DE KRAAN WEER OPEN!



Op 3 augustus 2015 ging het gruwelijk mis bij het inhijzen van de nieuwe Koningin Julianabrug. Twee kranen en het brugdek vielen op panden aan de Hooftstraat. Wonder boven wonder vielen er geen gewonden.

Voor welke horecazaak stond door het ongeval enige tijd het voortbestaan onder druk (A)?

Op welke datum kon deze horecazaak na de berging de deuren weer openen (B)?

A *Café Ciao*

B *16 oktober 2015*

### 5.09 WISKUNDEKNOBBEL

Jaarlijks doen leerlingen uit het voortgezet onderwijs (Havo 5 of Havo-vwo 5/6) mee aan de Wiskunde-A-lympiade door in teamverband uitdagende problemen aan te pakken. Vier meiden van het Elzendaalcollege wonnen de wedstrijd dit jaar, welke twee meiden uit Sint Anthonis maakten deel uit van dit team?

*Maud Korsten*

*Floor Vrijdag*

### 5.10 EINDE VAN EEN TIJDPERK

Na 37 jaargangen kwam er dit jaar een einde aan het 'Klökske' van Sint Anthonis. Het parochieblad werd jarenlang vrijwel huis-aan-huis rondgebracht. Hoeveel uitgaven van 't Klökske zijn exact uitgebracht (A)? Welke twee personen waren 37 jaar lang betrokken bij de tot standkoming van het blad (B)?

A *898*

B1 *Jac. van Kempen*

ABC  
~~~~~

B2 *Nellie van Sambeek*

ABC  
~~~~~



### 6.01 HANGEN IN DE BOCHT

Het WK zijspancross wordt verreden over een aantal wedstrijden. Hoeveel wedstrijden stonden er in 2015 op het programma?

A 16 wedstrijden

Wie waren de winnaars van de wedstrijd die in Nederland werd verreden?

B Etiënne Bax en Kaspar Stupedis

Wie is de bakkenist op deze foto?

C Robbie Bax



### 6.02 BALLETTJE TRAPPEN OP HOGER NIVEAU

Dit seizoen speelt sv DSV 1 in de vierde klasse. Op welke datum stelde het team van Kees van den Heuvel promotie zeker?

A 17 mei 2015

Welk seizoen speelde DSV voor het laatst in de vierde klasse?

B 1978-1979

### 6.03 ZO VADER, ZO ZOON?

Bij welke club maakte deze speler zijn debuut in het betaald voetbal?



A FC Barcelona

En hoe heet de vader van deze voetballer?

B Johan Cruïjff

## 6.04 TALENT UIT DE BUURT

Dit jaar vond het WK beachvolleybal plaats in Nederland. Wat is de naam van deze oud-Activiaspeelster in het blauwe shirt (A), met wie is zij getrouwd (B) en hoeveel kinderen heeft dit echtpaar (C)?



A Elke Wijnhoven

B Richard Schuil

C 1

## 6.05 GEVLOERD

Welke beenworp in judo wordt hieronder uitgevoerd?



Uchi Mata

## 6.06 TEMPOSPelletJE

Deze dame is driemaal Nederlands kampioen geweest. Hoe heet onze plaatselijke club (A) voor de jeugd van de discipline die deze dame uitvoert en hoe heet deze dame op de foto (B)?



A Jeugdclub BC Sint Anthonis

B Judith Meulendijks

6.07 KEN DE CLUB

Hieronder staan enkele logo's van voetbalclubs. Wat zijn de namen van de clubs?



A Hercules Club de Futbol Alicante

B Genoa

C Norwich City

6.08 KLEINE JONGENS WORDEN GROOT



Hier zie je een foto met daarop jonge personen. Twee van deze personen zijn bekende sporters. Wat is de naam van de linkse jongen met de Ajax-sjaal (A)? En wat is de naam van de jongen uiterst rechts op de foto (B)?

A Richard Krajicek

B Michael Boogerd

6.09 NICKNAMES

Welke sporters horen bij de volgende bijnamen?

A Le professeur: Arsene Wegner / Laurent Fignon / Alain Prost

B Monsieur Chrono: Jacques Anquetile

C Zwarte Panter: Frans de Munck / Lev Yashin

6.10 STRIKE!

Hieronder zie je een scorevel van een bowlingwedstrijd. Wat zijn de totaalscores bij de onderdelen A t/m C?

1	2	3	4	5	6	7	8	9	10	Total Score
45	3	X	3	52	0	X	X	53	23	A
X	X	X	X	X	X	X	X	X	XXX	B
23	01	62	71	-2	7-	26	32	5-	72	C

A 155

B 300

C 66



### 7.01 KILOMETERS VOOR HET GOEDE DOEL



Ter gelegenheid van welke loop wordt hier een sponsorbedrag van € 7056 bekend gemaakt?

Scholen wandelen voor water, Namelok

### 7.02 ONDERGRONDS



Hoe heet de - door de gemeente Sint Anthonis veelvuldig toegepaste - techniek die op onderstaande foto zichtbaar is?

Riool-relining

### 7.03 GEHEKT



Waarom zijn afgelopen jaar dergelijke hekwerken in de Staatsbossen geplaatst?

Om wildcrossers te ontmoedigen



## 7.04 KUNSTIG PLEKJE



Op welke locatie werd onderstaande foto gemaakt tijdens de Open Galerieroute 2015?

*Atelier Maartje van Duijnhoven, Nullen, Ledeacker*

## 7.05 AFSCHIEDSWOORDJE



Van wie nam burgemeester Marleen Sijbers op deze foto afscheid?

*Gemeentesecretaris Simon Middelkamp*

## 7.06 GESCHIJT



In 2015 werd er gedemonstreerd in het gemeentehuis. Maar waartegen?

*De komst van MACE*



### 7.07 VRUUGER



Waar vinden we onderstaande ruimte?

Heemhuus, Sint Anthonis

### 7.08 BACK TO SINTTUNNIS



Bij onderstaande gelegenheid waren afgelopen jaar twee mensen uit Engeland overgekomen. Wat zijn hun namen?

Bill Lawrence

John Trappes Lomax

### 7.09 BOODSCHAPPEN



Deze dorpswinkel stond vroeger aan de Dorpsstraat in Ledeacker. Van welke familie was deze dorpswinkel toentertijd?

Familie van Duijnhoven



7.10

## MOOI TEAM



Wie staan er op deze foto uit 1960?

Henk van Gelder

Toon Hermans

Theo Verbeek

Piet van Els

Ben van de Vorle

Piet van de Bungelaar

Jan van Goch

Piet Weijmans

Louis van Loosbroek

Huub van de Bungelaar





## 8.01 SOCIALE ZORG IN DE WIJK

Sinds 1 januari 2015 is er veel veranderd in zorgland. De overheid ziet graag de oude vertrouwde wijkverpleegkundige terug.



Hoe heet de sociaal verpleegkundige die sinds juli 2015 werkzaam is binnen de gemeente Sint Anthonis?

A *Marieke Tax*

ABC

Hoe oud is ze?

Waar woont ze?

B *26 jaar*

C *Mill*

## 8.02 TEAM VOOR HET DORP

Sinds de verandering in de zorg vormen zich binnen de gemeenten steeds vaker sociale wijkteams. In Sint Anthonis wordt het sociale wijkteam het Dorpsteam genoemd.

Welke drie organisaties waren betrokken bij de pilot van het Dorpsteam?

A1 *RMC*

A2 *Radius*

A3 *Mee*

Hoe heet de jongerenwerker?

B *Kees Hoogenboom*

ABC

Wat is de naam van de senior consulent die betrokken was bij de start van de pilot?

C *Mario van Wijk*

ABC

## 8.03 KINDSTERREN

In de jaren '80 en begin jaren '90 zond de Tros een muziekprogramma uit waarin kinderen populaire Engelstalige liedjes zongen maar dan met een Nederlandse tekst. In totaal zijn er twee series van enkele afleveringen van gemaakt. Over welk TV-programma hebben we het?

A *Ministars*

Wie waren de presentatoren van de eerste en de tweede serie?

B1 *Tom Mulder*

B2 *Martijn Krabbé*



### 8.04 BESTSELLERS

Hieronder zie je vier afbeeldingen van de hoofdpersoon uit een bekend jeugdboek.  
Noem de titel (A) en auteur (B) van ieder boek.



A Koen kampioen op Aruba

B Fred Diks



A Mathilda

B Roald Dahl



A De Vijf als detectives

B Enid Blyton



A Koning van Katoren

B Jan Terlouw

### 8.05 BEKENDE DEUNTJES

Hieronder zie je steeds een gedeelte van een tekst van de tv-tune van een bekende kinder tv serie.  
Uit welke tv-serie komt de tekst?

*Er zijn beren in alle maten  
En ook beren die kunnen praten*

A Bolke de Beer

*Hij leidt een vrolijk leven  
Hij luistert nooit naar raad*

B Swiebertje

*Dun, dik of rond  
Kort, vierkant, lang*

C Barbapapa



### 8.06 OPSLAAN ALS...

De revolutie van dataopslag is snel gegaan. Wat zie je op onderstaande afbeelding (A)? Hoeveel MB kan er op (B) en waar diende het schuifje linksonder voor (C)?



A Floppydisk

B 1.44 MB

C Om schrijven te blokkeren / schrijfbeveiliging

### 8.07 OVER DE KOP

Wat is de naam van de attractie (A) op onderstaande foto's en in welk pretpark (B) staat het?



A Python

B De Efteling



A Apollo

B Slagharen



A vliegende Hollander

B Avonturenpark Hellendoorn



### 8.08 'HEEFT IE EEN HOED OF EEN PET OP?'

Wat zijn de namen van deze twee personages uit het alombekende spelletje 'wie is het?'



A *Sam*



B *Anne*

### 8.09 DIGITAAL VOETBAL

Elk jaar verschijnt er een nieuw Fifa spel. Eerst alleen voor de PC, maar de spellen komen nu voor iedere gamecomputer op de markt. Uit welk jaar komen onderstaande spellen?



A *2003*



B *2009*



C *1999*

### 8.10 KRAAK DE CODE

Het is een soort speelgoed waarbij kleine kunststof mozaïeksteentjes op een kunststof grondplaat gedrukt worden. Hieronder drie gedeeltelijke codes die corresponderen met een item van dit speelgoed. Wat zijn de namen die bij de codes horen?

MC ...28

A *Toetanchamon*

MC ...32

B *Slot Neuschwanstein*

MC ...62

C *Eiffeltoren*



### 9.01 KONING OF KONINGIN?

Welke vrouw uit Sint Anthonis wordt in 2015 koning genoemd?  
Vermeld voornaam, getrouwde achternaam én meisjesachternaam!

A *Maria van Erp-Weerts*

ABC

Vanaf welke datum in 2015 (B) wordt zij zo genoemd?  
En vanaf welke datum in welk jaar (C) was dat met dezelfde vrouw ook al het geval?

B *7 juni 2015*

C *26 juni 2011*

### 9.02 DE HAND PLAT OP HET HART MET DE PALM NAAR BUITEN GEKEERD

Welke Europese koning van welk land bedacht bovenstaande groet?

A *Zog I Scanderbeg III koning van Albanië*

ABC

Op welke wijze verscheen deze koning in het openbaar om aan aanslagen te ontkomen?

B *Hij werd vergezeld door zijn moeder, omdat het tegen de erecode gold om iemand in het bijzijn van zijn moeder te doden*

In welke tijdsperiode was hij koning?

C *van 1928 tot 1939/1946*

### 9.03 FAWZIA, SORAYA, FARAH...

Welke Aziatische heerser was achtereenvolgens met bovenstaande drie vrouwen getrouwd?

A *Mohammad Reza Pahlavi*

ABC

In welk land (B) stierf hij in ballingschap en op welke datum in welk jaar was dat (C)?

B *Egypte*

C *27 juli 1980*

Welke gijzeling van 444 dagen in dit Aziatisch land heeft hiermee te maken?

D *Gijzeling van de Amerikaanse ambassade in Iran (Teheran)*



## 9.04 CARNAVALSVERENIGINGEN D'N UUTLAOT EN DE HANEN

C.V. D'n Uutlaat heeft één jaar een prins gehad die niet woonachtig was in het dorp Sint Anthonis. Wie was dat en in welk jaar was dat ?

**A** Harrie Hebben in 1978

Waarom waren de 11<sup>e</sup> en de 22<sup>e</sup> prins van C.V. D'n Uutlaat geen jubileumprinsen?

**B** Eerst was er elke vijf jaar een jubileum. Pas vanaf het 33<sup>e</sup> jaar van het bestaan van D'n Uutlaat was er elke 11 jaar een jubileum.

Bij C.V. De Hanen wordt jaarlijks de man, vrouw of vereniging van het jaar gekozen. Er was één jaar dat er twee mannen gekozen werden en één jaar dat er twee vrouwen gekozen werden. Wie waren dat en in welke jaren was dat?

**C1** Namen mannen: Pastor Cor Hoefs en Cor Bus / Mark de Kleijnen en Gijs Bus

**C2** Namen vrouwen: Anna en Gina van Duijnhoven

**C3** Jaartal mannen: 1996 / 2013

**C4** Jaartal vrouwen: 2000



Wie is dit (hiernaast op de foto), in welk jaar had hij Blauw Bloed en waarom?

**D1** Naam: Bas Knapen

**D2** Jaartal: 1992

**D3** Waarom: Jeugdprins C.V. De Hanen

## 9.05 HOEDENPARADE

Prinses Beatrix stond erom bekend tijdens Prinsjesdag altijd goed voor de dag te komen met een bijzondere hoed op. Het is echter niet verplicht om met Prinsjesdag een hoed te dragen, het is wel een gebruik geworden en het valt op als vrouwen géén hoed dragen bij de troonrede.

Waarom wordt Erica Terpstra met deze hoedendragerij in verband gebracht?

**A** Zij was in 1977 het eerste kamerlid dat een hoed droeg

Welk kamerlid (B) liet met haar hoeden-creatie weten het niet eens te zijn met het beleid van het kabinet in 2006? Wat droeg zij toen op haar hoed (C)?

**B** Krista van Velzen

**C** Straaljagers



## 9.06 HOEDDRAGERS

Wie zitten er op onderstaande afbeelding onder de hoed (A)?  
En waarom hebben zij 'blauw bloed', oftewel wat is hun volledige titel (B)?



A1 Catherine (Kate) Middleton

ABC

B1 Hertogin van Cambridge, gemalin van prins William, de oudste zoon van de Britse kroonprins Charles

A2 Charlene Wittstock

ABC

B2 Prinses van Monaco

A3 Koningin Mathilde d'Udekem d'Acoz

ABC

B3 Koningin van België

A4 Al-Waleed bin Talal

ABC

B4 Prins in Saudi Arabië



### 9.07 MUZIKAAL BLOED

Wat hebben Ali B, rapper Bollebof, Daphne Deckers, Fouradi, Lange Frans, Guus Meeuwis, Kraantje Pappie, Gers Pardoel en Jack Poels met elkaar gemeen?

**A** Zij schreven samen het koningslied

11 april van welk jaartal heeft met bovenstaande vraag te maken?

**B** 2013

Wat gebeurde er op bovenstaande datum?

**C** Toen werd het koningslied ingezongen

### 9.08 KONINGSKINDEREN?

ABC

Naast Nederland zijn er in Europa nog een aantal koningshuizen.  
Noem vijf Europese koninkrijken (zonder Nederland) (A). Noem van deze landen de huidige vorst of vorstin (voor- en achternaam) (B) en noem de naam van de te verwachten troonopvolger (C).

**A1** België

**B1** Koning Filip

**C1** Elisabeth

**A2** Denemarken

**B2** Koningin Margrethe

**C2** Frederik van Denemarken (1968) en HKH Kroonprinses Mary (1972)

**A3** Groot Brittanië

**B3** Koningin Elizabeth II

**C3** Prins Charles of Wales ("The Prince Charles")

**A4** Noorwegen

**B4** Harald V van Noorwegen

**C4** Haakon Magnus

**A5** Spanje

**B5** Koning Felipe VI

**C5** Leonor

\* 6<sup>e</sup> koninkrijk: A6: Zweden, B6: Koning Karel XVI Gustav, C6: Victoria Ingrid Alice Désirée





## 9.09 DRIE 'KONINGEN'

Jaarlijks wordt op 6 januari het drie koningenfeest gevierd. Kinderen lopen verkleed met een kroon langs de deuren en zingen het drie-koningenlied. Ook in Sint Anthonis wordt dit jaarlijks gedaan. Er wordt geld opgehaald voor het goede doel.

Kent u deze drie koningen? Zet bij de foto de namen van de kinderen die u denkt te herkennen.



Maud van Duijnhoven

Imke van Duijnhoven

Daye Traoré

## 9.10 NIE GENOEG GEHAD!

"Ik hai nog goed wa gelust, maar ik durfde nie. Ik schamde mien eige as ik langer zou eete as de kunnegin".

Welke Sint Tunnisse vrouw deed deze uitspraak?

A Nel van Dinter

ABC

Bij welke gelegenheid was dat?

B De lunch ter viering van 500 jaar Sint Tunnis / 500 jaar parochie

En in welk jaar?

C 1977



### 10.01 IEDER VOGELTJE ZINGT ZOALS HET GEBEKT IS

De Vogelbescherming Nederland organiseert jaarlijks de Nationale Tuinvogeltelling. Deze telling laat een top 10 zien van de meest getelde vogels in de tuin op 17 en 18 januari 2015. Doel is het beheren van de vogelstand in Nederland.

Op de usb-stick staan vijf vogelgeluiden uit de top 10 van de vogeltelling 2015. Noteer in onderstaande lijst welke vogel je bij ieder geluid hoort.

A Merel

D Pimpelmees

B Roodborst

E Huismus, heggemus, grasmus of mus

C Spreeuw

### 10.02 NATUUR IN BEELD

Onder de naam Planet Earth bracht o.a. de BBC een serie natuurdocumentaires uit waarvan het materiaal later gebruikt werd in een film. Wat zijn de titels van de twee Nederlandse films die onlangs in hetzelfde genre zijn verschenen?

A1 De Nieuwe Wildernis

A2 Holland - Natuur in de Delta

Welke filmregisseur was verantwoordelijk voor een Nederlandse documentaire die door menig recensist als voorganger van beide films wordt gezien?

B Meerdere filmregisseurs mogelijk

En hoe heet deze (bioscoop)documentaire van vraag B?

C Meerdere (bioscoop)documentaires mogelijk

### 10.03 KRUIDENKENNIS

"Natuurlijk" komt ook tot z'n recht in het buitengebied van St. Anthonis. In de 'Moe'stuijn' van de Boergonische Tuin wordt op biologische wijze groente, fruit en kruiden gezaaid, bewerkt en geoogst. Welke gedroogde kruid zitten in de vier zakjes bijgeleverd in deze Kwizzut-envelop?

A Rozemarijn

C Bonenkruid

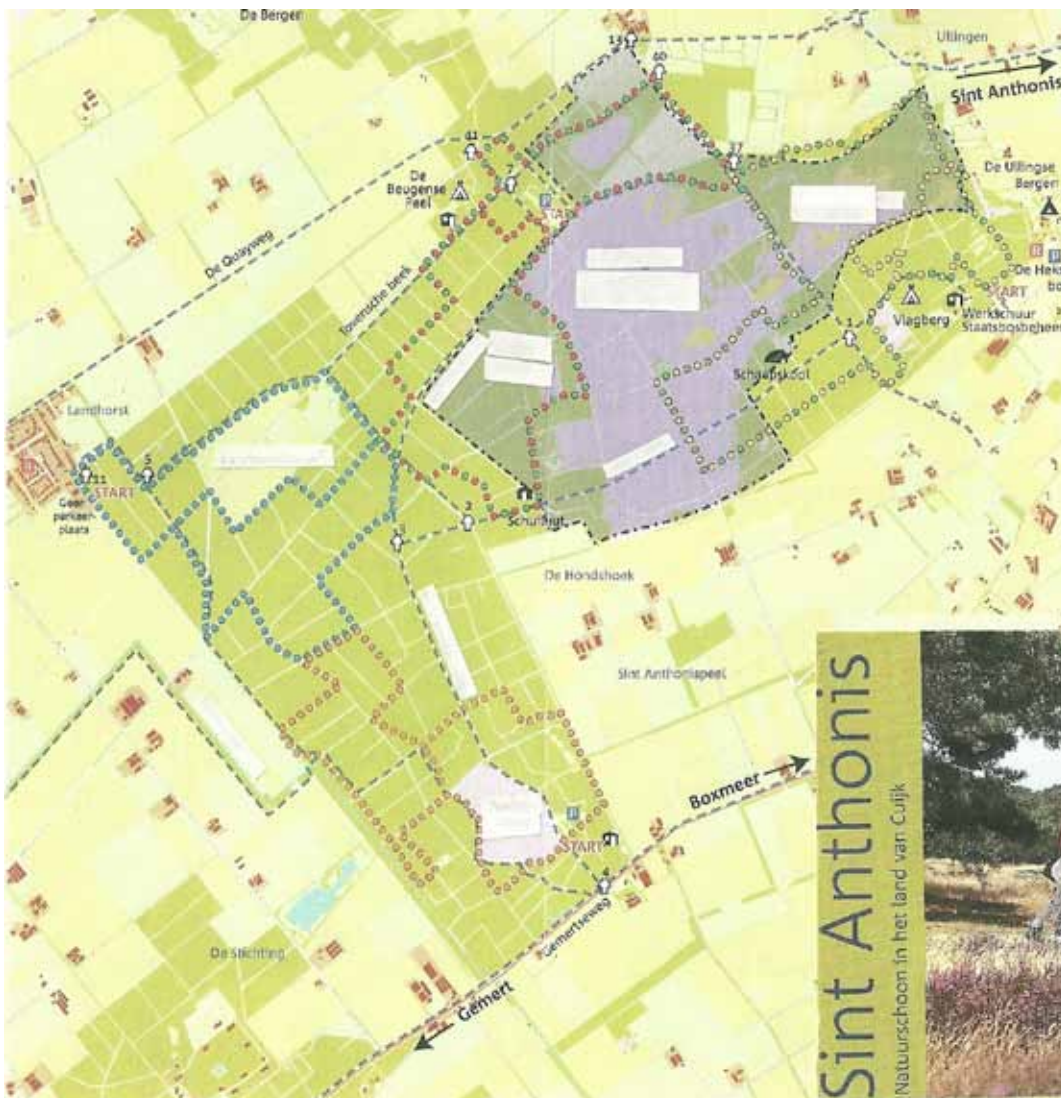
B Salieblad

D Koriander of ketoembar



## 10.04 BOSWANDELING

De natuur in onze achtertuin! De Staatsbossen! Een natuurgebied van plm. 1.000 ha bestaande uit heide, bos en zandverstuivingen. In dit gebied heeft Staatsbosbeheer vijf wandelroutes uitgezet. Kun jij aan de hand van onderstaande kaartroute aangeven wat de namen van de wandelroutes zijn en wat het aantal kilometer per route is (= lange route)?



- |          |   |                             |
|----------|---|-----------------------------|
| <b>A</b> | Naam gele route: <i>Ullingse Bergen Route</i> | Lengte: <i>6,6 of 7 km.</i> |
| <b>B</b> | Naam groene route: <i>Bos en Heide route</i>  | Lengte: <i>14 km.</i>       |
| <b>C</b> | Naam blauwe route: <i>Landhorstroute</i>      | Lengte: <i>5,5 of 6 km.</i> |
| <b>D</b> | Naam oranje route: <i>Peelvenroute</i>        | Lengte: <i>6,4 of 6 km.</i> |
| <b>E</b> | Naam rode route: <i>visdelroute</i>           | Lengte: <i>7,6 of 8 km.</i> |



### 10.05 OP JACHT

De *lepus europaeus* is een beschermd dier in Nederland.

In welke periode van het jaar (noem de begin en einddatum) mag de jacht op dit dier toch plaatsvinden?

A Haas: 15 oktober t/m 31 december

En op welke moment van de dag mag de jacht op dit dier dan plaatsvinden?

B Tussen zonsopgang en zonsondergang / overdag

### 10.06 KENNIS VAN ZAKEN

Welke beroep oefenden dhr. de Louw, dhr. W. Raaymakers en mevr. Heykoop minimaal één keer in het jaar 2015 uit in Sint Anthonis?

A Keurmeester of jurylid (bij Paardenfokdag)

Benoem per persoon voor welke categorie/soort ze dit beroep tijdens dit evenement uitoefenen.

B1 Dhr. de Louw: Haflingers / 4-5 jarige merries

B2 Dhr. W. Raaymakers: Trekpaarden / 2 jarige merries

B3 Mevr. Heykoop: Irish cob / tinker / dressuur

### 10.07 GROW UP

In het kader van zijn/haar levensverwachting: wie is dan in het onderstaand rijtje het laatst volwassen? Omcirkel het juiste antwoord.

A De mens

B De neushoorn

C De chimpansee

D De ijsbeer

### 10.08 STERFGEVAL

Een archipel in de Stille Oceaan, ter hoogte van de evenaar, kwam medio 2012 in het nieuws door het overlijden van een uniek, eenzaam dier. Wat is de latijnse benaming van dit dier?

A *Chelonoidis (nigra/niger) abingdoni* / pinta island tortoise / *Geochelone (nigra/niger) abingdoni* / *Chelonoidis niger elephantopus*

Wat was zijn/haar bijnaam?

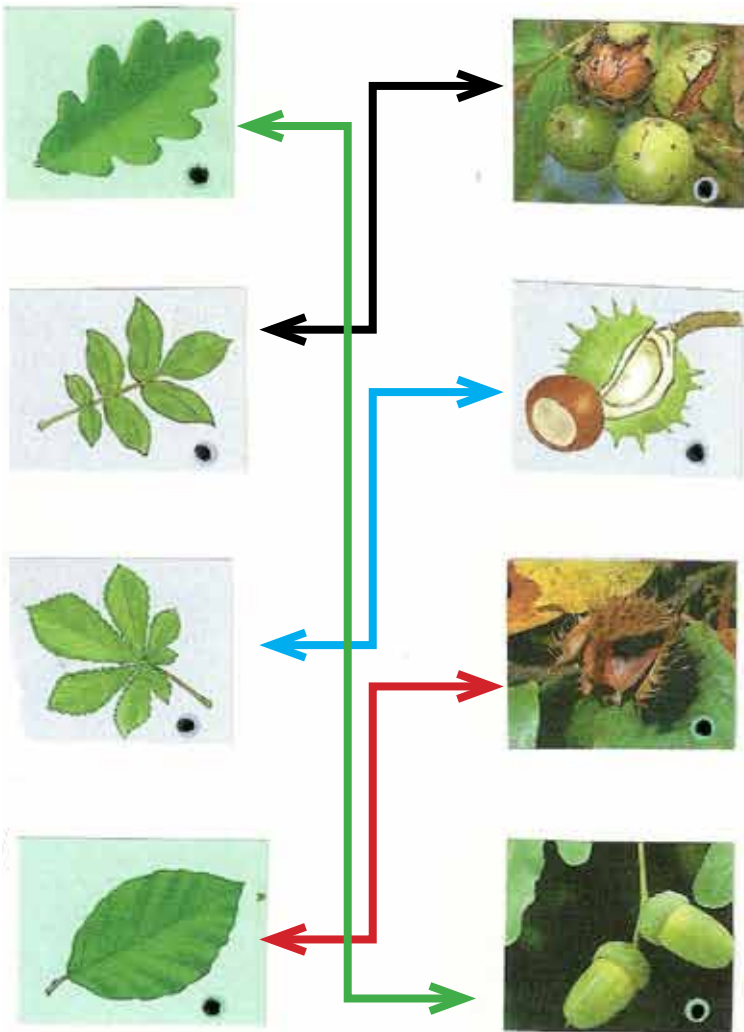
B Lonesome George / Eenzame George



## 10.09 LIJNTJES TREKKEN

Herfst, herfst wat heb je te koop? Honderdduizend bladeren op een hoop...

Tijdens een stevige herfstwandeling in de regio kwamen we onderstaande bladeren tegen. Bepaal per blad welke vrucht erbij hoort. Verbind ze aan elkaar en gebruik daarbij voor elke verbindingslijn een andere kleur.



## 10.10 LICHT, LICHTER, LICHTST

Hoe noemt men het zicht waarbij je naast zichtbaar licht ook ultraviolet en infrarood licht ziet?

**A** Hyperspectraal superzicht / hyperspectraal visie

Over de ogen van welk dier hebben we het dan?

**B** Bidsprinkhaankreeft / mantis garnaal



### 11.01 WOORDZOEKEN

G	E	M	E	R	T	O	V
I	B	E	R	L	S	I	N
O	A	V	N	S	R	G	E
O	K	S	I	P	O	B	G
L	E	D	N	A	H	E	U
P	L	E	V	H	N	D	E
O	E	I	S	R	E	E	B
E	R	P	M	N	V	K	N

Lezend in alle mogelijke richtingen zijn de namen van 14 Oost-Brabantse plaatsen te vinden. Sommige letters vormen een onderdeel van twee namen.

Schrijf hieronder de gevonden plaatsnamen in alfabetische volgorde op.

A1 Bakel

A8 Mill

A2 Beers

A9 Oploo

A3 Beugen

A10 Oss

A4 Erp

A11 Uden

A5 Gemert

A12 Velp

A6 Handel

A13 Venhorst

A7 Haps

A14 Vianen

De overgebleven letters vormen samen de naam van vijftiende plaats en dat is:

B Vierlingsbeek

### 11.02 MET DE SCHOP?

Het oudste kanaal van Frankrijk is het Canal du Midi. In welk jaar is men begonnen met de aanleg van het kanaal (A)? Wat is de naam van de bouwer (B)? En hoeveel sluizen telt dit kanaal (C)?

A 1666

B Pierre Paul Riquet

C 64



### 11.03 VLAGGENPARADE



Dit is de vlag van Albanië. Deze vlag heeft één kleur en een wapen/embleem. De kleur(en) van het wapen tellen we dus niet mee.

Welke Europese landen hebben twee kleuren in hun vlag en eveneens een wapen of embleem? Noem er drie.

**A** *Liechtenstein / Malta / Portugal / San Marino / Spanje*

Welke Europese landen hebben drie kleuren en een wapen of embleem? Noem er drie.

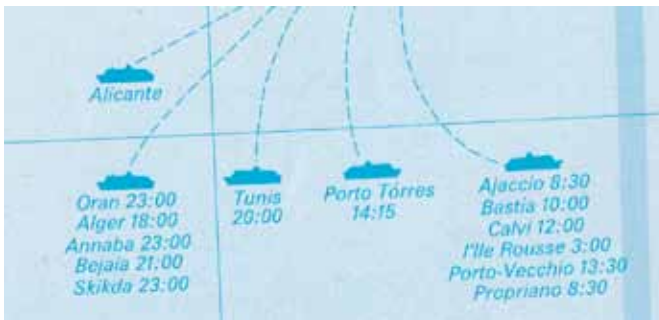
**B** *Kroatië / Moldavië / Servië / Slowakije / Slovenië*

Welke Europese landen hebben in hun vlag een vlakverdeling met diagonale lijnen? Noem er drie.

**C** *Bosnië Herzegovina / Tsjechië / Macedonië / UK*

### 11.04 SCHIPPER MAG IK OVERVAREN?

Vanuit welke haven vertrekken de onderstaande veerboten?



**A** *Marseille*



**B** *Bari*



**C** *Göteborg*



**11.05** VLUCHTROUTE

Waar vliegen we naar toe? Noteer de betreffende steden.

Een van de naoorlogse presidenten van Frankrijk was? .....

**A** Parijs

Aan die losliggende ..... heb ik al twee keer mijn teen gestoten.

**B** Berlijn

Je krijgt op je ..... als je weer te laat thuiskomt.

**C** Zürich

**11.06** WHICH CITY?

Op deze kaart van de oostkust van Noord Amerika ziet u tien plaatsen aangegeven. Welke zijn dat?



**A** Québec

**B** Montreal

**C** Boston

**D** New York

**E** Washington

**F** Detroit

**G** Chicago

**H** Dallas

**I** New Orleans

**J** Miami

**11.07** AAN DE STERRENHEMEL



Deze foto heeft te maken met een gebeurtenis eerder dit jaar. Welke gebeurtenis (A)? En op welke datum vond deze plaats (B)?

**A** Maansverduistering

**B** 28 september 2015





### 11.08 KNOWLEDGE



In dit gebouwencomplex vindt tegenwoordig wetenschappelijk onderzoek plaats naar eco-systemen. Waar bevinden zich deze gebouwen (A)? En wat was de oorspronkelijke bestemming (B)?

A *Arizona*

B *Biosphere 2*

### 11.09 HOOGTEMETERS

De benamingen 'Ullingse Bergen' en recreatiecentrum 'De Bergen' doen vermoeden dat dit de hoogst gelegen gedeelten van onze gemeente zijn. Dit is echter niet zo!

Waar bevindt zich het hoogst gelegen deel van onze 10.000 bunder landelijk schoon (A)? En waar bevindt zich het laagste deel (B)?

A *Bunthorst / Grote Slink*

B *Wanroijse Broek*

### 11.10 BEKENDEN IN DE STRAAT

In onze dorpen zijn verschillende straten vernoemd naar oud dorpsgenoten, bijvoorbeeld: Pastoor v.d. Vaartweg, Dr. Verbeecklaan, Jan de Kosterhof, Wim Verschurenstraat.

Van bovenstaande vier voorbeelden is er één die er eigenlijk niet bijhoort. Welk voorbeeld is dat (A) en waarom hoort deze niet in het rijtje thuis (B)?

A *Jan de Kosterhof*

B *Betreft een bijnaam*

**12.01 TEAM SELFIE**

Maak een selfie van zoveel mogelijk (maar minstens vijf) teamleden.

Op deze foto moet de Kwizzut-Ballon opgeblazen eveneens in beeld worden gebracht. Deze ballon vind je in de envelop.

Zet deze foto op de USB Stick onder de naam:

**'TeamSelfie [teamnr]'** (vul je eigen teamnummer hier in)

Voor deze opdracht geldt: géén foto, géén punten!

Succes!

**12.02 FOTO-OPDRACHT: STAAT HET ER OP?!**

Van elk team wordt één teamlid stipt om 22.00 uur verwacht op de plaats die hoort bij de volgende gps-coördinaten:

**Breedtegraad: 51.62677869999999**

**Lengtegraad: 5.881016100000011**

Voor deze opdracht is het belangrijk dat je een fotocamera/telefoon bij je hebt. Je hebt ter plaatse 30 seconden de tijd om een foto te maken van iets waar je dan wel achter komt.

Zet deze foto op de USB Stick onder de naam:

**'Foto-opdracht 22.00 uur [teamnr]'** (vul je eigen teamnummer hier in)

Ook voor deze opdracht geldt: géén foto, géén punten!

Succes!

**12.03 FILM-OPDRACHT: 'WALK IN FRIDGE'**

Bekijk het filmpje 'Walk In Fridge' op de USB-stick. Speel dit met je team zo goed mogelijk na!

Maak er je eigen filmpje van en sla het resultaat op de USB-stick op onder de naam:

**'Resultaat Walk In Fridge [teamnr]'** (vul je eigen teamnummer hier in)

Wederom geldt: géén filmpje, géén punten!

Dit wordt weer lachen! Veel plezier!



TEAMNUMMER

TEAMNAAM

NAAM

### 13.01 WELK TELEVISIESPELLETJE ZIE JE HIER?

A Avro's Sterrenslag

F Ranking the Stars

B Waku Waku

G Hints

C Met het mes op tafel

H De slimste mens

D Fort Boyard

I Expeditie Robinson

E Wie ben ik

J Honeymoon Quiz

### 13.02 WELKE FILM(SERIE) ZIE JE HIER?

A The Godfather

F A few good men

B Psycho

G Spetters

C It

H Lion King

D Scream

I Jurassic Park (3)

E Casablanca

J Star wars

### 13.03 WELK POLITIEK FIGUUR ZIE JE HIER?

A Thatcher

F Janmaat

B Merkel

G Franco

C Den Uijl

H Assad

D Berlusconi

I Mitterand

E Castro

J Reagan


**13.04 WELKE SPORTER ZIE JE HIER?**

A	Mc Enroe	F	Jordan
B	van Lange	G	Woods
C	Senna	H	Sauerbreij
D	Tyson	I	Zonderland
E	Bolt	J	Romario

**13.05 WELKE PRESENTATOR ZIE JE HIER?**

A	Martin Gaus	F	Rolf Wouters
B	Hans van der Togt	G	Maartje van Wegen
C	Ron Brandsteder	H	Hans Kazan
D	Henny Stoel	I	Jaap van Meekren
E	Frank Masmeijer	J	Willem Ruis

**13.06 WELKE TELEVISIESERIE ZIE JE HIER?**

A	Dallas	F	Swiebertje
B	Baywatch	G	Twin Peaks
C	Medisch Centrum West	H	Love Boat
D	Sex and the City	I	Zonnetje in huis
E	Airwolf	J	Zeg 'ns Aaa

**13.07 WELKE ARTIEST/BAND ZIE JE HIER?**

A	Beyoncé	F	Status Quo
B	Metallica	G	The Kinks
C	Dennie Christian	H	Public Enemy
D	De 3J's	I	BB King
E	Pink	J	Daft Punk

**13.08 WELK NIEUWSMOMENT ZIE JE HIER?****A** JFK Dallas**B** Koning Willem-Alexander**C** Paus gekozen**D** Plein van de vrede**E** Brand volendam**F** vuurwerkramp Enschede**G** Ongeluk Diana**H** 9/11 Bush**I** Bréivik**J** Lewinsky**13.09 EVEN NAAR DE RECLAME! WELK MERK ZIE JE?****A** KPN**B** Reaal**C** Rolo**D** O.B.**E** Bavaria**F** Gouden Gids**G** Fiat**H** Calvé**I** Heinz**J** Centraal Beheer Achmea**13.10 WELKE KINDERSERIE ZIE JE HIER?****A** Alfred J. Kwak**B** Teletubbies**C** Troetelberen**D** De Berenboot**E** Pokémon**F** Mega Mindy**G** Buurman en Buurman**H** Freggels**I** Snorkels**J** Klassewerk