



Kwisboekje

Antwoorden

WEGSTREEPCATEGORIE:



Hoofdsponsors:



Sponsors:



Mediapartner:




Kwizzut 2014 is mede mogelijk gemaakt door dorpsraden van Sint Anthonis en Ledeacker, MFA Oelbroeck en de Gemeente Sint Anthonis. Tevens grote dank aan iedereen die Kwizzut op enigerlei wijze met zoveel enthousiasme heeft geholpen.



Lees onderstaande informatie goed door voordat je aan de kwis begint.

Wanneer wordt een antwoord goed gerekend?

Simpel: als het antwoord goed is. Daarna gelden de volgende geboden:

- Vul de antwoorden in, in de grijze kaders van het vragenboekje.
- Schrijf duidelijk. Aan niet of slecht leesbare antwoorden worden geen punten toegekend.
- Spel correct. Als dit symbool  bij het antwoord vermeld staat, letten wij zeer scherp op de spelling. Staat het symbool in de lichtblauwe balk, dan geldt dit voor de gehele vraag (alle deelantwoorden). *Niet goed gespeld = antwoord wordt fout gerekend!*
- Let op wat betreft spelling: de 'lange ij' geldt in de gehele kwis als één letter!

Wegstreepcategorie

Wij werken met een wegstreepcategorie. De punten van die categorie tellen niet mee voor de einduitslag. Je moet als team zelf kiezen welke categorie je wegstreepcategorie is. Wij adviseren eerst alle categorieën te maken om vervolgens te beslissen welke categorie wordt weggestreept. Geef de wegstreepcategorie aan op de voorzijde van het boekje. Let op: als je geen categorie wegstreept, dan doen wij het...en kiezen wij de categorie waarin jouw team de meeste punten heeft gescoord. Let op: de geheime opdracht kan niet worden weggestreept.

In elke categorie zijn honderd punten te behalen met uitzondering van de volgende categorieën:

- Schuupe 125 punten
- Muziek 125 punten

Geheime opdracht

Categorie 12 is een geheime opdracht. Ieder team moet voor deze geheime opdracht één teamlid naar de Lekerse kerk sturen. Dit teamlid:

- moet exact om 21.00 uur voor de kerk staan (Te laat aanwezig? Jullie team krijgt 0 punten voor deze categorie);
- moet echt in z'n eentje, ofwel alleen komen;
- mag zijn/haar mobiele telefoon niet meenemen (ook geen tablets of iets van dien aard);
- neemt het volgende mee: stevig elastiek, wasknijper, plankje of stevig karton (afmeting plm. 25x30 cm), de Omstreeks van 17 óf 24 december 2014 en de bladzijden die bij categorie 12 in het kwisboekje horen (pagina 61 en 62); vul hier teamnummer, teamnaam en deelnemersnaam alvast op in;
- is rond 21.30-21.45 uur weer klaar met de opdracht;

Wij verzoeken de deelnemers aan de geheime opdracht met de fiets te komen op de aangegeven locatie om gevaarlijke verkeerssituaties en parkeerproblemen te voorkomen.

Let op: de geheime opdracht kan niet worden weggestreept!

We vertellen nu natuurlijk niet wat de geheime opdracht is.

Tip: 'Stuur iemand uit je team die op de hoogte is van Alpha en Omega'.

Vervolg speluitleg op de volgende pagina.



Vervolg speluitleg van de vorige pagina.

Hé, er zitten snoepjes en een USB-stick in mijn envelop!

Klopt, deze heb je nodig bij diverse vragen.

Categorie 'Schuupe'

Bij de categorie 'Schuupe' moet je op pad. Denk hierbij aan de verkeersregels en de geldende fatsoensnormen. En..... 'Glasje op, laat je rijden!'

Hoe en wanneer moet het originele vragenboekje weer worden ingeleverd?

Stop alle bladzijden van het originele boekje (dus geen kopie) op genummerde volgorde in de bijgeleverde snelhechter en vervolgens in de genummerde envelop. Ook de USB-stick moet in de envelop worden ingeleverd. Niet in de juiste volgorde inleveren betekent puntenaftrek. Lever de envelop in bij MFA Oelbroeck, tussen 23.00 uur en 23.30 uur.

Foto's maken

Elk team maakt tijdens het beantwoorden van de vragen of het maken van de opdrachten zelf foto's. Een aantal van deze foto's wordt gebruikt tijdens de feestavond op 17 januari, waarop de uitslag van Kwizzut bekend wordt gemaakt. Zet vijf gemaakte foto's op de bijgeleverde USB-stick.

Hoe laat is het nu eigenlijk precies?

De 'aftelklok' op onze site www.kwizzut.nu is leidend voor het uiterlijke tijdstip van inleveren van het vragenboekje.

Wanneer weet ik of mijn team heeft gewonnen?

Op zaterdagavond 17 januari 2015 wordt de uitslag van Kwizzut 2014 in MFA Oelbroeck bekend gemaakt. Op die avond worden ook de prijzen uitgereikt en is er een afsluitende feestavond.

Reglement

Meer informatie over Kwizzut 2014 is te vinden in het reglement dat op de website www.kwizzut.nu staat.

Noodnummer

Alleen in noodgevallen is de organisatie op 27 december 2014 tussen 18.00 uur en 23.30 uur bereikbaar op

06-22622470.

**1.01** ALTIJD OP JE HOEDE BIJ PERSCONFERENTIES

In welke plaats (A) staat het gemeentehuis waar minister Kamp een persconferentie gaf die zoveel tumult teweeg bracht dat de ME op moest treden en op welke datum (B) vond deze persconferentie plaats?

A Loppersum

B 17 januari 2014

1.02 KNORRETJE

Hoe heet dit varken (A), waarom haalde dit varken het nieuws (B) en op welke datum (C) was dat?



A Jabba

B Hij was wandelend aangetroffen in Enschede

C 16 februari 2014

1.03 HET ZAL JE MAAR GEBEUREN

In april 2014 verdronk een man uit Dalfsen. Hoe oud was deze man (A) en tijdens welke werkzaamheden verdronk hij (B)?

A 52

B Hij verdronk tijdens het grasmaaien



1.04 GEBOUWELIJK

Prinses Beatrix verhuisde in 2014. Waar woont zij nu?

A Paleis Drakensteyn

Welke paleizen (1) zie je hier en in welk jaar (2) zijn ze gebouwd?



B1 Paleis Huis ten Bosch

C1 Paleis Het Loo

D1 Paleis Noordeinde

B2 1645

C2 1865

D2 1533

1.05 VIND DE JUISTE WOORDEN MAAR EENS

Vul op de dikgedrukte **rode** puntjes de ontbrekende letters, cijfers in. Elk puntje staat voor één letter of cijfer.

Zwarte shirts en lange haren, dat was het beeld dat op 1 juni het Goffert park in Nijmegen domineerde. Het was namelijk tijd voor de vijfde editie van het hardrock-festival Fortarock.

Zo'n 25.000 bezoekers konden tijdens deze editie genieten van klinkende namen als Trivium, Slayer, Alter Bridge en Moonkings met Adje Vandenberg.

De legendarische band Iron Maiden sloot de dag af.

1.06 NIET KOMISCH BEDOELD

Op de dag dat deze vrouw haar man en beste vriend verloor, zegt zij tegen de wereld dat zij hoopt dat hij wordt herinnerd als de man die miljoenen mensen ontelbare keren liet lachen.

Over welke man (A) gaat het hier en op welke datum in 2014 (B) overleed hij?

A Robin Williams



B 12 augustus

**1.07 ECHT WEL BIJZONDER**

Op 1 maart, 7 juni en 16 oktober 2014 gebeurde er iets van dezelfde orde in Nederland. Over welke bijzondere gebeurtenissen hebben wij het hier?

1 MAART Wereldrecord poppen achter de piano: 16 kinderen aan één vleugel

7 JUNI Wereldrecord reanimeren: halfuur 750 poppen

16 OKTOBER Wereldrecord pannenkoeken stapelen: 242 pannenkoeken, 91,2 cm hoog

1.08 WE MOETEN HET TOCH OOK EVEN OVER HET WEER HEBBEN

In welke plaats (A) viel in 2014 in één maand 234,5 mm water, in welke maand (B) was dat en welke twee dagen (C) waren de eerste twee tropische dagen van het jaar?

A Capelle (Noord-Brabant)

B Juli

C 18 en 19 juli 2014

1.09 EEN FEESTJE WAARD!

Welke 'vrouwenbeschermende' stichting werd in 1974 opgericht en viert dit jaar dus haar 40-jarig bestaan?

Stichting Blijf van mijn Lijf

1.10 VREEMDE VOGEL

Welke 'vogel' werd door Radio Veronica in 2014 van stal gehaald (A), ter ere waarvan gebeurde dit (B) en van welke datum tot en met welke datum (C) vond dit plaats?

A De Roepie Roepie Vogel

B Radio Veronica zendt de 80's top 750 uit

C van dinsdag 11 november t/m zaterdag 15 november



2.01 AANBIEDING OF NIET?

Vergelijk de prijzen uit de **GROTE** (Sinterklaas) speelgoedboeken van Intertoys en Toys2Play. Hieronder staan diverse soorten speelgoed afgebeeld. Benoem per speelgoed wat dit kost, zowel in het boek van Intertoys (1) als Toys2Play (2).



A1 6,99 euro

A2 6,99 euro



B1 11,99 euro

B2 11,99 euro



C1 29,99 euro (na 5 euro retour)

C2 34,99 euro



D1 21,99 euro

D2 21,99 euro



2.02 KWIZZUT WEL OF NIE

Denken & doen in quiz-vorm...

Voor de bollebozen onder ons: weten jullie (nog) over welke quiz we het hieronder hebben?
Noem per foto de naam van de quiz.



A Ren je rot



B SmartKidZ



C Mijn vader is de beste



D Klassewerk



E Beste Vrienden Quiz



2.03 LEESVOER (STILT DE LEESHONGER)



Onderstaande tekstgedeeltes komen uit (bekende) kinderboeken.
Noteer de titel van het boek (1) en de schrijver/schrijfster (2):

A. "Niets bijzonders aan de hand hier. De Engelsen zijn de grote aanval op Cherbourg begonnen, volgens Pim en Van Daan zijn we op 10 oktober zeker vrij".

A1 *Het Achterhuis*

A2 *Anne Frank*

B. "Ze ziet dat hij het moeilijk vindt om over zijn moeder te vertellen. "Caspers moeder is heel ernstig ziek, meneer", zegt ze. Ze ligt in het Antonie van Leeuwenhoek ziekenhuis.

B1 *Pijnstillers*

B2 *Carry Slee*

C. "Zo," zegt Mario, "en nu kunnen we stemmen". De tafeltjes worden weer op hun plek gezet en de meester zet iedereen aan het lezen.

C1 *Groep acht aan de macht*

C2 *Jacques Vriens*

2.04 ZOALS DE OUDEN ZONGEN, PIEPEN DE JONGEN



Kennen jullie onderstaande liedjes uit de oude Nederlandse doos nog?
Per lied staan twee steekwoorden weergegeven. Welke liedjes (titel) bedoelen we?

A. Ridder en triumfant

A *Hertog Jan lied*

B. Wind en Rosa

B *Alles in de wind*

C. Klimmen en liefje

C *Daar was laatst een meisje loos*

D. Drie en september

D *Drie kleine kleutertjes*

E. Zeven en Dat

E *De zevensprong*


2.05 OUDERWETS OF TOCH (REDELIJK) ACTUEEL?
ABC

De personen van onderstaande foto's hebben iets gemeen.

In welke serie of film spelen ze of welk televisieprogramma hebben ze gepresenteerd?


A Kabouter Plop

B iCarly

C Minoes

D Junior Songfestival



Vervolg van vraag 2.05.



E Harry Potter

2.06 IN DE BAN VAN VOETBALPLAATJES...



Voetbalplaatjes sparen is magisch, tijdloos, grenzenloos maar vooral ook een kassasucces voor de gewiekste ondernemer. Zo ook in de zomer van 2014.

Hieronder enkele spelers(plaatjes) van het WK 2014. Wie is de speler (1) en voor welk land (2) kwam hij uit?



A1 Thomas Vermaelen

A2 België



B1 Mario Balotelli

B2 Italië



C1 Keisuke Honda

C2 Japan



D1 David Luiz

D2 Brazilië



E1 Alvaro Arbeloa

E2 Spanje



2.07 PUZZELLEN MAAR!



Vul de omschreven woorden in en je krijgt een woord. Zet daarna de letters met de cijfers onderaan in de juiste volgorde en je krijgt een zin.

Thema van spaaractie Emté vanaf 5 oktober 2014.

S p r o o k j e s b o o m
16

Naam van Stichting die is ontstaan uit Gosser en S.K.B.M.

P e e l r a a m
13 26

In oktober 2015 de 61^e editie.

K i n d e r b o e k e n w e e k
1 17 12

De achternaam van één van de narren van het jeugdprinsenpaar van d'n Uutlaot.

V a n D u i j n h o v e n
29 28

De naam van een luchtkussen voor kinderen, te huur bij Rongen Aktief.

K i n d e r l a n d
9 15

Naam van de nieuwe (kinder)uitvoering van toneelvereniging Kakelbond.

S n e e u w a t j e e n d e z e v e n e r g e n
23 24 25 4 19

* Antwoord telt niet mee in puntentelling vanwege ontbreken vakje bij eerste woord ('sneeuwwatje')

Spel voor wii met dansen als basis.

J u s t d a n c e
6 11

Activiteit in januari voor enkele (kleine) wijze kinderen uit het oosten.

D r i e k o n i n g e n
3 21 20

Stond als linkerhand van de grote kindervriend volop in het nieuws.

Z w a r t e p i e t
5 2 27 22 7

Een vraag- en antwoordspel voor de hele familie.

P i m P a m P e t
18 14 10

K w i z z u t z e t t w e e d o r p e n
1 2 3 4 5 6 7 4 9 10 11 12 13 14 15 16 17 18 19 20

o p s t e l t e n
21 22 23 24 25 26 27 28 29

* Antwoord telt niet mee in puntentelling vanwege ontbreken vakje bij zesde omschrijving



2.08 MAAK ME GEK!



Door de jaren heen ontstaan er rages die uitgroeien tot een hype of soms zelfs tot massahysterie. Dit geldt in meerdere of mindere mate ook voor onderstaande rages in speelgoed. Weten jullie per omschrijving welke rage we bedoelen?

A. Elektronisch speeltje uit Japan, huisdier dat opgevoed moet worden.

A Tamagotchi

B. Het werd uitgebracht als game op de game-boy en is uitgegroeid tot de op één na succesvolste game-franchise ter wereld.

B Pokemon

C Een bal met een ring waarop je rechtop springbewegingen kunt maken.

C Lolobal

D. Soepele ronde holle plastic draadjes van ongeveer 80 cm lang om te knopen.

D Scoubidou

E. Elektronisch pluuche speelgoedproduct. Kruising tussen vier dieren, kan praten en heeft geen uitknop, maar kan wel slapen!

E Furby



2.09 JE BENT JONG EN JE WILT WAT...

ABC

In Sint Anthonis en Ledeacker worden veel activiteiten voor de jeugd georganiseerd. Hieronder een greep uit deze activiteiten. Welke activiteiten worden hier bedoeld?



A Try Out



B Bouweek Ledeacker



C Sint Maarten



D Kinder(rommel)markt



E Koningsdag

2.10 FRIS EN FRUITIG

ABC

We hebben in de Kwizzut-envelop één zakje gestopt. In dit zakje zitten vier 'mondverfrissende' snoepjes al dan niet met een smaaktoevoeging. Wij willen van elk van de snoepjes weten welk A-merk het is en welke smaak(variant). Natuurlijk mag er tijdens deze opdracht vrij gesproken, geroken en geproefd worden.



A Smint (dropsmaak / black mint)



B Stimorol Fusion Vanilla Mint



C Fisherman's Friend Original



D Antaflu (menthol)



3.01 OP ZOEK NAAR DE LOGO'S

ABC

Van welke voetbalclubs zijn deze logo's?



A Sporting Gijón



B FC Lisse



C KVC Westerlo



D SC Cambuur

3.02 OLYMPISCHE SPELEN 2014

Uit welke olympische sport van de winterspelen komen deze foto's?



A Biathlon



B IJshockey



C Schaatsen / shorttrack

3.03 BLESSURES

Op 29 juni 2014 was het opvallend dat er in het ziekenhuis in Apeldoorn vier dezelfde operaties naar aanleiding van een blessure uitgevoerd moesten worden. In alle gevallen was deze blessure op dezelfde wijze tot stand gekomen. Hoe (A) en wat was dit voor blessure (B)?

A Juichen na een doelpunt tijdens de WK-voetbalwedstrijd Nederland-Mexico

B Afgescheurde achillespees



3.04 SPORTVERSLAG

Voor wie was het goud bij dit commentaar (A):

"Daar gaat ze, daar gaat ze naar het goud, het stadion staat op z'n kop en hiiiieer komt de tijd. Goud! Goud!"

A *Ellen van Langen*

Wie vertelt dit verhaal (B):

"Ik ging laat naar mijn vriendinnetje in Hoorn. Ergens tussen elf en twaalf. Ik was op de provinciale weg Alkmaar-Hoorn. Hij kwam uit de richting Hoorn en wilde linksaf. Ik reed in een Audi 100 en hij in een Passaat. Hij heeft mij niet gezien of onvoldoende of verkeerd ingeschat, en gooide in één keer de auto naar links. Mijn snelheid was zo'n negentig kilometer per uur. Hij reed langzamer, want hij zal ongetwijfeld hebben afgeremd. Ik wilde rechtdoor en heb nog op het laatste moment in een reflexbeweging het stuur omgegooid. Dat was wel mijn redding, want hij knalde er vol in. Mijn veiligheidsriem was ingescheurd, zo hard was de klap"

"Mijn rechtervoorkant zat helemaal in elkaar, de motor was naar binnen gekomen. Ik hoor de radiator nog sissen. Zijn auto was iets kleiner en als een harmonica in elkaar gegaan. Politie erbij, uiteindelijk ook een ambulance. Ik kan me vaag op de achtergrond de sirenes herinneren. Ik was tien minuten bij bewustzijn om in een soort shockreflex naam, adres en telefoonnummer in één keer uit te geven. Toen viel ik weg en kwam ik bij op de Intensive Care. Daar heb ik 48 uur gelegen. Daarna een aantal dagen op zaal gelegen en na twee weken mocht ik naar huis."

B *André Selders (tegen wie Theo Koomen opbotste en verongelukte)*

3.05 SINT ANTHONIS / LEDEACKER

Wat hadden de volgende personen gemeen ten behoeve van het verenigingsleven van Sint Anthonis/Ledeacker (A)? Welke jaartallen horen daarbij (B)?

1. Theo Reusen
2. Oud-burgemeester Jos Verbeeten
3. Piet van de Weegh

A *(mede) (her) oprichten van een vereniging*

B1 *Jaartal: 1965 (TV Sint Tunnis)*

B2 *Jaartal: 2006 ('t Gilde)*

B3 *Jaartal: 1974 (CHT 't Cafeetje)*

3.06 WK VOETBAL 2014

ABC

A1 Neymar da Silva Santos Júnior

ABC

A2 Ángel Fabián di Mariá

Door wiens toedoen raakten bovenstaande voetballers geblesseerd?

B1 Voetballer 'A1' raakte geblesseerd door: Zúñiga

B2 Voetballer 'A2' raakte geblesseerd door: zichzelf

3.07 VOETBALVROUWEN

ABC

Noem de voornamen van deze vrouwen met de achternamen van de Nederlandse voetballers met wie zij megingen naar het WK Voetbal 2014 in Brazilië.



A Bernadien Robben



B Bouchra van Persie



C Virginia Braaf Wijnaldum



D Yolanthe Sneijder



3.08 SJOELEN

Sjoelen is gaaf, maar je moet wel de spelregels kennen natuurlijk. Het gaat er niet om alle stenen in de '4' te schuiven, maar juiste om ze zoveel mogelijk te verspreiden over de vakjes, want dan krijg je bonuspunten. Diegene met de meeste punten wint het spel.

De puntentelling dient als volgt te gebeuren:

in elk vak 1 schijf = 20 punten.

in elk vak 2 schijven = 40 punten.

in elk vak 3 schijven = 60 punten.

in elk vak 4 schijven = 80 punten.

in elk vak 5 schijven = 100 punten.

in elk vak 6 schijven = 120 punten.

in elk vak 7 schijven = 140 punten.

Bevinden zich buiten deze berekening nog schijven in een vak, dan tellen deze elk voor de punten van dat vak.

Koos en Maria sjoelen een potje, zij starten beiden met 30 stenen. Koos kent de regels niet en denkt zoveel mogelijk stenen in de vier te schuiven. Dit lukt met 16 stenen, daarnaast schuift hij in elk van de vakken 1 steen en in vak drie zelfs 2. Maria kent de regels wel, zij verdeelt 19 stenen ongeveer gelijk over de vier vakken, in vak twee zit één steen minder dan in de andere vakken.

Wie wint (A) en hoe groot is het verschil in punten tussen beide (B)?

A *Maria*

B *5 (Maria 88 en Koos 83)*

3.09 VOLLEYBAL

Dit weekend is opnieuw het internationale jeugdvolleybaltoernooi van Activia.

Voor de hoeveelste keer wordt dit georganiseerd (A), welke club won in 2013 de mini's 6 klasse (B) en in welk seizoen werd deze club voor het eerst landskampioen op het hoogste niveau (C)?

A *Zevende keer*

B *Meisjes: PVK Olymp Praha / Jongens: VC Menden*



C *PVK Olymp Praha: 1996-1997 / VC Menden: nooit*

3.10 WEET U HET NOG?

Welke Nederlandse voetbaltrainer was als eerste actief als bondscoach op een WK?

Johannes Christoffel van Mastenbroek (WK'38, bondscoach Indonesië)



**3.11 EEN BIJZONDERE RELATIE...**

Wat is de relatie tussen Gerrit Berrevoets en Willem van Hanegem?

Gerrit Berrevoets gaf Willem van Hanegem de eerste rode kaart in het betaalde voetbal

3.12 UIT DE BUURT

Welke sporter uit Gennep haalde met welke sport een Olympische gouden medaille (A), in welk jaar was dat (B) en waar vonden deze Spelen plaats (C)?

A *Mischa Latuhihin met volleybal*

ABC

B *1996*

C *Atlanta*

ABC



4.01 OCHTENDGYMNASTIEK

Bij welk evenement in 2014 hoort onderstaande foto?



Toneelvoorstelling 'Koppen Dicht' ter ere van 25-jarig jubileum Kakelbond

4.02 IS HET GLAS HALF VOL OF HALF LEEG?

In 2013 organiseerde de Heemkundekring een tentoonstelling over het uitgaansleven in Sint Anthonis. Welk café (A) zie je op onderstaande foto en wat is er nu op deze locatie gehuisvest (B)?



A Café Halfweg

B Nutreco SRC Halfweg

4.03 WIJZE JEUGD

Bij welke gelegenheid werd onderstaande foto gemaakt?



Politieke Jongerendag Metameer



4.04 HOE SCHRIEFDE GIJ OUW EIGE?

We zien hier een oude familiefoto.

Welke familie is dit (A) en wie staan er op de foto (van links naar rechts) (B)?



A *Familie Goossens*

ABC

B *Bovenste rij: Martien, Harry, Jan, (tante) Anna, Gonny Remmen, Tonny*

Onderste rij: Kees, Karel, Martha, Leo, Jan Mathias, Antoinette, Truus

4.05 KLINKT ALS MUZIEK IN DE OREN

Wie zien we op onderstaande foto (A) en bij welke gelegenheid in 2014 was dit (B)?



A *Johnny Romein / John van der Ree*

ABC

B *Sint Cecilia & Friends*



4.06 BROODJE...

Wie is deze man (A) en om welke reden bezocht hij Sint Anthonis (B)?



A Edwin Rutten

ABC

B Zomerluistersessie / overbrengen van zijn liefde voor klassieke muziek op basisschool Berg en Beek

4.07 IN VUUR EN VLAM

Een dramatische gebeurtenis.....op welke datum voltrok zich dit drama?



Dinsdag 10 september 2013

4.08 NIEUW TAPIJTJE

Voor welke gelegenheid in 2014 zijn zij dit op onderstaande foto aan het doen?



Reünie Motocross der Azen

ABC



4.09 VAN BOVENAF

Zie onderstaande luchtfoto! Wat is het volledige adres (straatnaam + huisnummer) van het huis linksonder?



Den Dries 22



4.10 HANDEN UIT DE MOUWEN

Een historisch bedrijfspand! Wat is de volledige naam van onderstaande fabriek (A) en in welk jaar is deze gebouwd (B)?



A De Eendracht

B 1907

4.11 KUNSTIG PAND

In Sint Anthonis staat onderstaande kunstenaarswoning te koop. Op welk adres staat deze woning?



Sambeeksedijk 13



4.12 SFEERVOL PAADJE

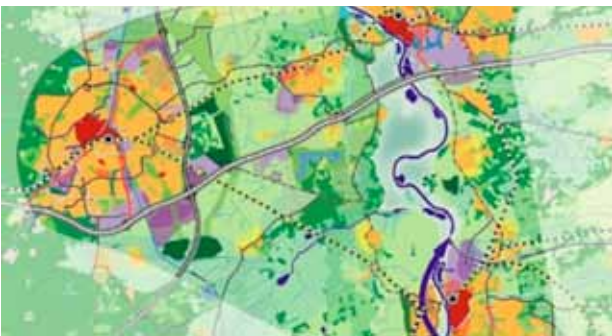
Welke straat is dit?



Pastoor Willemspad in Sint Anthonis

4.13 POLITIEK BEKEND?

Over welke visie gaat onderstaand 'plètje' (A) en welke politieke partij stemde tegen (B)?



A Structuurvisie Buitengebied

ABC

B CDA

4.14 TUINCENTRUM?

Wat? In Sinttunnis? Wat was hier aan de hand?



vernietigen wietplanten uit hennepantage in voormalige EDAH



5.01 ABCDE-PUZZEL

Hier zie je een soort reekspuzzel.

Welke letters komen in de vijf vakjes die gemarkeerd zijn met de rode cijfers?

A	B	C	D	E
C	A	D	BC	E
	CD	A		EC
DB		C	A	DE
1?	2?	3?	4?	5?

1 C

2 -

3 B

4 CD

5 AE

5.02 GELIJKE LETTERS ZIJN GELIJKE CIJFERS

Iedere letter staat voor een cijfer. Aan jullie de opdracht om bij de rode letters de bijbehorende cijfers te vinden! Vul de cijfers in de grijze vakjes in.

$$\begin{array}{r}
 \text{C} \\
 \times \\
 \text{BAC} \\
 \hline
 \text{EFHH}
 \end{array}
 +
 \begin{array}{r}
 \text{AEAH} \\
 + \\
 \text{ECAC} \\
 \hline
 \text{HDBE}
 \end{array}
 =
 \begin{array}{r}
 \text{GKAE} \\
 - \\
 \text{BABJ} \\
 \hline
 \text{JFKJ}
 \end{array}$$

A = 1

D = 0

G = 9

J = 6

B = 3

E = 2

H = 4

K = 7

C = 8

F = 5



5.03 NOG EEN SOMMETJE

In het zestientallig stelsel het volgende sommetje:

Hou zou je de uitkomst van $\mathbf{ff} - \mathbf{aa}$ opschrijven in het zestientallig stelsel (A) en in het tientallig stelsel (B)?

A 55

B 85

Nu in het tweetallige stelsel:

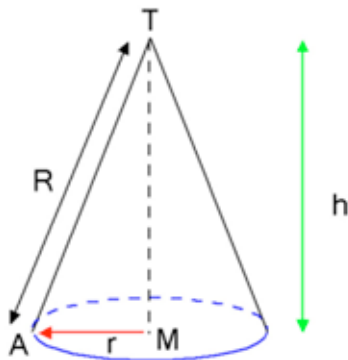
Hoeveel is in het tientallig stelsel (C) het volgende getal: $\mathbf{1010101}$? En hoeveel is dit in het zestientallig stelsel (D)?

C 85

D 55

5.04 NOG EVEN REKENEN

Hoeveel liter water zou er in deze kegel gaan, compleet gevuld, als R 50 cm is en $r = 30$ cm?



37,68 liter

5.05 RATTEN EN KATTEN

Er waren eens heel lang geleden in een ver land veel te veel ratten. De koning gaf het bevel dat elke kat moest helpen het probleem op te lossen. De wet van dit land stelde dat wanneer er meer dan 5000 katten in het land waren, een willekeurig gekozen aantal katten moesten worden verbannen, om het aantal katten op peil te houden. Er waren geen katten die meer dan 1500 ratten per jaar konden vangen, en er werden geen katten geboren dat jaar. Een rapport werd bijgehouden, en aan het einde van het jaar bleek dat elke kat een gelijk aantal ratten had gevangen, en het totaal was precies 1.111.111 ratten.

Hoeveel katten waren er in dit land?


4.649 katten



5.06 KUNST- EN PLAKWERK

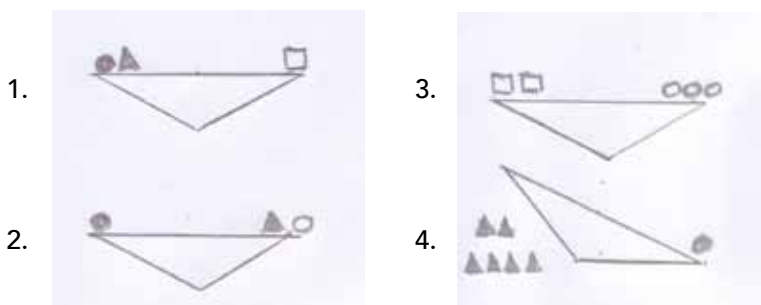
De afbeeldingen staan op twee verschillende kaarten: kaart A en Kaart B.
Zet iedere ruiter op zijn eigen plaats, plak op een vel papier en lever dit mee in.

Gebruik voor deze opdracht het bijgeleverde losse vel papier uit de envelop
(de laatste pagina van dit kwisboekje) en plak het 'antwoord' hieronder!



5.07 TEKENEN EN REKENEN

Hoeveel driehoekjes zijn er nodig om het balletje op de vierde weegschaal in evenwicht te brengen?



5 driehoekjes

5.08 PEPERMUNTJE?

Waar staan de letters van de pepermunt KING voor?

King In Niets Geëvenaard



5.09 WEEGPROBLEEM

Je hebt vijf stuivers - waarvan er eentje zwaarder is dan de andere vier - en een perfecte balansweegschaal met een vast draaipunt. Kun je - vóór het wegen - door maar eenmaal munten op de schaal te leggen, de zwaardere munt vinden? Hoe doe je dat? Ga er vanuit dat je de munten zo precies mogelijk kunt positioneren als jij wil.

* Antwoord telt niet mee in puntentelling

5.10 WAT NU WEER?

Wat is het bijzondere aan onderstaande zin (A), wie heeft hem bedacht (B) en hoe heet dit verschijnsel (C)?

Baas neem een racecar neem een saab

A De zin is zowel van links naar rechts als van rechts naar links gelezen hetzelfde

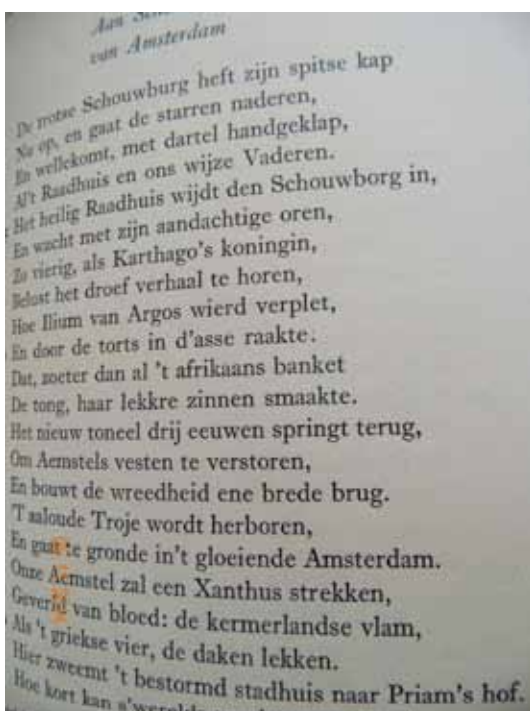
B Hugo Brandt Corstius



C Palindroom

5.11 LITERATUUR

Wie heeft dit geschreven (A), wanneer (B) en hoe heet dit (C)?



A Joost van den Vondel



B 1637

C Voorspel van Gijsbreght van Aemstel



**5.12** IN DE RATS

Wie zou er in de RATS zitten als dit zou gebeuren (A) en wat stelt het voor (B)?



A TARS

B Maquette (Peutz)

Knip de delen uit en plak ze hieronder weer aan elkaar.

Gebruik voor deze opdracht het bijgeleverde losse vel papier uit de envelop (de laatste pagina van dit kwisboekje) en plak het 'antwoord' hieronder!





6.01 ALTIJD MAAR DEMONSTREREN

Dit bord werd megedragen tijdens een demonstratie, die op vrijdag 14 november 2014 in Den Haag werd gehouden. Waartegen werd geprotesteerd?



Het leenstelsel

6.02 SINT TUNNIS EN 'T LEKER 1

Uit handen van burgemeester Marleen Sibbers ontving iemand tijdens de openbare raadsvergadering op maandag 23 september 2014 als dank een schets van kunstenaar Gerard Engels.

Wie (A) ontving de schets en waarom (B)?

A * Antwoord telt niet mee vanwege foutieve datum

ABC

B * Antwoord telt niet mee vanwege foutieve datum

6.03 VAN ALLES EN NOG WAT

Wie (1) noemde wie (2) en wanneer (3) in de tweede kamer een flapdrol?

A1 Jan Marijnissen

ABC

A2 Bert Koenders

ABC

A3 2009

Waarmee worstelt Zweden om politiek correct te handelen?

B vader Pippi Langkous mag geen 'negerkoning' meer worden genoemd

'Ik vind het onfatsoenlijk dat hij dat onderzoek vanuit de pers moet vernemen.'

Wie is 'ik' (1), wie is 'hij' (2) en wie (3) heeft onfatsoenlijk gehandeld?

C1 Jan Nagel

ABC

C2 Henk Krol

ABC

C3 Jet Bussemaker

ABC

**6.04** ALTIJD MAAR WEER BEZUINIGEN

De bibliotheken in Sint Anthonis en Wanroij blijven open ondanks forse bezuinigingen.

Hoeveel wordt er door de gemeente Sint Anthonis op de bibliotheek bezuinigd in 2015 (A), wat is het resterende budget van de gemeente Sint Anthonis voor de bibliotheek in 2015 (B)?

A 170.000 euro

B 120.000 euro

6.05 EMANCIPATIE

In welk jaar (A) werd voor het eerst een vrouw gekozen in de gemeenteraad van de voormalige gemeente Oploo CA en hoe heette zij (B)?

A 1962

B Mevrouw Miedema

**6.06** OOK EEN BEETJE GESCHIEDENIS

De eerste sociale wet in Nederland vloeide voort uit een onderzoek dat was ingesteld op initiatief van een lid van de Tweede Kamer. Hoe heette dit kamerlid (1), hoe noemde men de wet (2) en waar werd onderzoek naar gedaan (3)?

A1 van Houten



A2 Kinderwetje van van Houten

A3 Kinderarbeid

Wie sprak de historische woorden: 'We buigen niet naar links, we buigen niet naar rechts, we gaan rechtdoor'?

B Rita Verdonk



Van welke politicus werd gezegd dat hij leek op een teckel met een vette klui in z'n bek?

C Norbert Schmelzer



**6.07 MOET JE HOREN!**

Je vindt op de usb-stick een geluidsfragment van een oudejaarsconference. Er wordt gesproken over van Veen. In welk jaar was deze conference (A) en van wie (B) was deze? Wie was van Veen (C), over wie gesproken werd en wat was destijds zijn functie (D)?

A 1982**C** Chris van Veen**B** Wim Kan**D** voorzitter VNO**6.08 NOGMAALS DE BIBLIOTHEEK**

Het aantal leden van de bibliotheek in Sint Anthonis is in 2013 gegroeid. Met hoeveel procent (in 3 decimalen) is dit ledenaantal gegroeid?

1,004 %

6.09 TIK OP DE VINGERS

De gemeente Sint Anthonis is actief onder toezicht gesteld door de Provincie Noord-Brabant. Dit is het gevolg van het niet behalen van de taakstelling 'huisvesting van verblijfsgerechtigden'. Hoeveel verblijfsgerechtigden diende Sint Anthonis op 22 september 2014 volgens de Provincie in 2014 nog te huisvesten?

17

7.01 KUNST IN SINTTUNNIS

Op welk adres (straat + huisnummer) vind je dit kunstwerk (A) en waar komt het kunstwerk oorspronkelijk vandaan (B)?



A Hoefstraat 19

B Gymzaal Hoefstraat, later Hoefslag, gymzaal van de huishoudschool

7.02 KUKLEKUU, ZO KRAAIT DE HAAN

Waar vinden we deze haan (A) en wat is de exacte tekst die bij dit kunstwerk hoort (B)?



A Dorpsplein Ledeacker bij de kerk

B Op de akkers aan de Lede, werkt en rust de mens in vrede

7.03 TUIN OF PARK?

Op welk adres tref je deze kunstige beplanting aan?



Molenstraat 11, Sint Anthonis

7.04 WAT EN WAAR?

Dit is een deel van een tekst. Maak een foto van de gehele tekst (A), waarop duidelijk wordt waartoe het behoort. Zet de foto op de bijgeleverde USB stick en geef het de naam 'Schuupe, Vraag 4A'.

Wat is het adres waar je deze tekst kunt vinden (B)?



B Dorpsstraat 16, Ledeacker

7.05 PARKEREN

Waar vind je dit fietsenrek (A)? Er staan er twee op deze plek.

Hoeveel fietsen kunnen in deze twee rekken in totaal worden gestald (B)?



A Ingang Activiahall / De Link

B 40

7.06 KNAP DE KNAPPE KAPPER...

Op welk huisnummer in dit gebouw bevond zich vroeger Kapsalon Jori?



35

7.07 ONDER MOEDERS PARAPLU

Bij welk adres in Ledeacker staat dit beeld?



Stippent 8a

7.08 WAARHEEN...

Onder tegen deze lantaarnpaal staat nog een bordje. Welke tekst staat er op dat bord (A)?
Maak een foto van het bedoelde bordje (B). Zet de foto op de bijgeleverde USB stick onder de naam 'Schuupe, Vraag 8B'.



A Afgifte goederen

7.09 BUITEN SPELEN

Deze metalen voetbalgoaltjes vind je ergens in Sint Anthonis. Waar staat deze goal (A) en uit hoeveel buizen is deze goal opgebouwd (B)?



A Terrein oude Landbouwschool (Peter Zuidstraat)

B 29

**7.10 BOEKJE LEZEN?**

Vanavond - 27 december 2014 - is voor de gelegenheid de bibliotheek van Sint Anthonis geopend.

Opdracht: ga naar de bieb (gebruik de ingang aan de zijde van de bieb) en zoek deel 1 of deel 2 van het boek 'St. Tunnis op de foto'. Maak een selfie waarbij je op één van de banken in de bieb zit. Het boek moet duidelijk in beeld zijn. Zet de foto op de bijgeleverde USB stick en geef het de naam 'Schuupe, Vraag 10'.

7.11 ALWEER PARKEREN

Achter deze glasbakken zijn een aantal parkeerplaatsen gesitueerd (hier worden de parkeerplaatsen in het midden van het parkeerterrein bedoeld, dus niet de plaatsen aan de zijkanten). Hoeveel?




20


8.01 G-SLEUTELN

Hier onder zie je twee muziekstukken. Ga op zoek naar de dichtstbijzijnde piano en ontdek welke melodieën er achter verscholen gaan.

A



B



A Altijd is kortjakje ziek

ABC

B Hey Brother

ABC

8.02 ZOMER 2014

Wat hebben onderstaande artiesten/muzikanten in de zomer van 2014 gemeenschappelijk?

Niels Geusebroek, Jett Rebel, De Dijk, Chef's Special, Jacqueline Govaert en Stu Larsen.

Concert at Sea



8.03 LOGO'S LOGISCH TOCH?



Logo's van diverse bands: over welke bands hebben we het? Noteer de bandnamen onder het logo.



A Emerson & Lake Palmer



B Led Zeppelin



C Radiohead



D Queen



E Linkin Park



F Bon Jovi

8.04 HERKEN JE ZE NOG?



Vinyl is anno 2014 weer helemaal 'hot'. Onderstaande lp-hoezen dateren nog uit de 'goeie ouwe tijd' (enkelen staan nu stof te happen op zolder bij één van organisatoren van Kwizzut).


Zoals jullie zien is een gedeelte van de hoes weggepoetst. Geef per lp-hoes aan wie de band/artiest is (1) en de bijbehorende titel (2).



A1 Rob de Nijs



B1 Alan Parsons Project



C1 Yes

A2 Anna Paulowna

B2 Eye in the sky

C2 90125



Vervolg van vraag 8.04.



D1 Rolling Stones

D2 Sticky Fingers



E1 Level 42

E2 Level 42



F1 Mike Oldfield

F2 Crises

8.05 (INTER)NATIONAAL MUZIKAAL

Wie (1) zong(en) de hieronder staande tekst op een groot (inter)nationaal evenement, wat is de titel van het nummer (2) en om welk evenement ging het (3)?

A.

*Je bent een goed soldaat
Je kiest je veldslagen
Raapt jezelf op, stoft jezelf af
En klimt terug in het zadel*

*Je staat aan het front
Iedereen kijkt
Je weet dat het ernstig is, we komen dichterbij
Het is nog niet voorbij*

A1 Shakira

ABC

A2 Waka Waka

ABC

A3 WK Zuid Afrika 2010

ABC

B.

*Tranen op de snelweg
Water in mijn ogen
Deze regen zal ons niet veranderen
Wat heeft huilen voor zin*

*Ik kan wel zeggen, dat het me spijt
Maar ik wil niet liegen
Ik wil alleen maar weten of blijven
Beter is dan een afscheid*

B1 Common Linnets

ABC

B2 Calm after the storm

ABC

B3 Eurovisie Songfestival 2014

ABC



8.06 MUZIEK IN COMMERCIALS

ABC

Welke commercial hoort bij onderstaande titel/hit? Benoem de zanger(es)/band (1) en het bedrijf of product (2) waarvoor de de commercial gemaakt is.

- A. "Woman"
- B. "Anyone who had a heart"
- C. "Livin' Thing"
- D. "Het nieuws van ons land"
- E. "Bend it"

A1 Neneh Cherry / Wolfmother

B1 Dionne Warwick

A2 Miss Etam

B2 Becel

C1 ELO (Electric Light Orchestra)

D1 Mathilde Santing

C2 WNF (geef de aarde door)

D2 Telegraaf

E1 Dave Dee, Dozy, Beaky, Mick & Tich

E2 Kellogs Special K / Rev Milk

8.07 DE LAATSTE (MUZIKALE) EER

ABC

Bepaalde muziek wordt vaak gebruikt bij uitvaarten. Wij hebben vier van deze deuntjes gepakt en ze uitgebeeld. Weet jij de naam van elk lied? Zet deze onder de afbeeldingen.



A Time to say goodbye



B Old and wise



C Tears in heaven / Cry like an angel



D Power of love



8.08 GESCHIEDENIS (IN HET GEHEUGEN GEGRIFT)

ABC

Onderstaande gebeurtenissen in jaartal en één aanwijzing zijn direct of indirect gerelateerd aan muziek. Ze dragen bij tot de hedendaagse (muziek)geschiedenis. Geef aan wat er in dat jaar gebeurde (in maximaal vijf woorden per gebeurtenis formuleren).

A. 1969 -> Bethel

A Woodstock

B. 1980 -> Mark David Chapman (4 x 38-kaliber)

B Moord op John Lennon

C. 1973 -> Norderney in zware storm

C Zendschip Radio Veronica strandt in Scheveningen

D. 2001 -> Hilton A'dam

D Zelfmoord Herman Brood

E. 1970 -> Rien van Wijk/Penny de Jager

E Toppop vanaf 22 september 1970 wekelijks op tv

8.09 BESCHERMDE MUZIEK

Wat hebben onderstaande personen met elkaar gemeen (A)? Geef per persoon ook aan in welk jaar ze debuteerden (B).

1. J. Bartels
2. J. van Os
3. M. Hahn

A Dirigenten Muziekvereniging Sint Cecilia

B1 Jaartal: 1991 (Jan Bartels)

B2 Jaartal: 1982 (Jan van Os)

B3 Jaartal: 2000 (Maurice Hahn)



8.10 (USB) STICK TOGETHER EN ANDERE HITS



Op de usb-stick die bijgesloten zit in de envelop staan tien muziekfragmenten. Luister goed naar de fragmenten en noteer per fragment welke band/artiest het is (A) en wat de titel is (B).

Geluidsfragment 1:

A Rolling stones

B 2000 light years from home

Geluidsfragment 2:

A Armin van Buuren

B Ping pong

Geluidsfragment 3:

A Colplay

B Every teardrop is a waterfall

Geluidsfragment 4:

A Charles Aznavour

B For me... formidable

Geluidsfragment 5:

A Michael Jackson

B Gone too soon

Geluidsfragment 6:

A Tanita Tikaram

B Good tradition

Geluidsfragment 7:

A Nits

B Adieu, sweet bahnhof

Geluidsfragment 8:

A Little Richard

B Long tall Sally

Geluidsfragment 9:

A Luisa Fernandez

B Lay love on you

Geluidsfragment 10:

A Gnarls Barkley

B Crazy



8.11 VIDEOCLIP ('JE MOET JE VRIJ MAKEN' OM JE TEAM TE PROMOTEN)

Voor deze opdracht hebben we acteertalent nodig! En niet zomaar een figurantenrol... je gaat spelen in de wereldberoemde videoclip van Freddie Mercury: 'I want to break free'!



Wat heb je nodig:

- Teamleden die graag in een videoclip acteren;
- (telefoon met) digitale filmcamera;
- Computer waarmee je je gemaakte film op de USB-stick zet;
- Essentiële attributen (o.a. stofzuiger) die je nodig hebt voor de realisatie (van een fragment uit) de videoclip.

Werkwijze:

- Op de bijgeleverde USB vind je onder het mapje 'Muziek' een fragment uit de videoclip 'I want to break free';
- Speel dit fragment zo goed mogelijk na;
- Verkleed één van je teamleden als Freddie Mercury; neem de stofzuiger ter hand;
- Neem de (telefoon met) digitale camera -> filmen maar!
- Zet het eigengemaakte filmpje (fragment) op de USB onder het mapje 'Muziek'.

We leggen de lat hoog maar zijn uiteindelijk de beroerdste niet.

Voor het hoogste aantal punten verwachten we een uitstekend, degelijk stukje acteerwerk van jouw team. Succes!

**09.01** RAAK!

Wiel Peeters werd in 2014 koning van het Sint Antoniusgilde. Hoeveel schoten waren er in totaal voor nodig om de vogel naar beneden te halen?



77 schoten

09.02 KLAAR VOOR DE KLAS

Aan het eind van vorig schooljaar namen twee in Sint Anthonis woonachtige basisschooldocenten afscheid van het onderwijs. Wie zijn deze docenten (A) en hoeveel jaar waren zij samen actief in het basisonderwijs in de gemeente Sint Anthonis (B)?

A Dorry Eling en Jan Nabben



B 72 jaar

09.03 STRIJDLUSTIGE VRIJWILLIGERS

De VVV-winkel in Sint Anthonis is niet meer! De vrijwilligers hebben geprobeerd een 'doorstart' te forceren via een tegenvoorstel richting het college. Welke locatie werd in dit tegenvoorstel genoemd?

Gemeentehuis Sint Anthonis

09.04 VOOR HET GOEDE DOEL

In Bostuin Geldersoord werd in 2014 het festival 'Op de Hoef' georganiseerd. De opbrengst van dit muziekfestival ging naar STOPhersentrumoren.nl. Hoeveel geld is uiteindelijk overgemaakt aan deze stichting?



2.100 euro



09.05 RONKENDE MOTOREN

Dit jaar werd teruggekeken op het wereldbekende evenement Motocross der Azen. Op welke datum werd de laatste wedstrijd gereden op De Hoef?

11 maart 1984

09.06 NIET TE SNEL!

Tourclub Oploo-Sint Anthonis is dit jaar Nederlands Kampioen Toerfietsen geworden. De vooraf opgegeven snelheid van 25 kilometer per uur werd tot op 0,01 km/uur benaderd. Wat was de exacte afstand van deze toertocht?

112 kilometer

09.07 EEN UNIEKE STEM IS NIET MEER!

John Robins was jarenlang dé stem van Peelstar FM. Op 17 juli overleed deze radiomaker na een kort ziekbed. Vanaf welk jaar was Robins werkzaam voor deze Sinttunnisse omroep?



1995

09.08 IN DE PEN

Jan van Goch schrijft als 'JAN' tweewekelijks een column in Omstreeks. Daarvoor schreef hij vijftien jaar lang in de PeelrandWijzer. Toen onder het pseudoniem Pennemans. Dit jaar werd het boek 'Het beste van 15 jaar Pennemans' uitgegeven. Vanaf eind jaren zeventig schreef Van Goch lange tijd columns voor het Boxmeers Weekblad. Onder welk pseudoniem schreef hij deze columns?

Flierefluiter



09.09 SCHOP IN DE GROND

Bij de opening van de Bedrijvenbeurs Land van Cuijk 2014 schonk ondernemer Toon Ebben de vijf gemeenten in het Land van Cuijk ieder een boom. Waar zijn deze vijf bomen geplant?

Toeristische poort Sint Anthonis / parkeerplaats nabij de Heksenboom



09.10 8BB ON AIR

Rock en Roll band 'The Eightballboppers' won in 2014 een voorronde bij een landelijk radioprogramma. Uiteindelijk werd de band vijfde in deze competitie. Met welk nummer deed de band mee?



Huus stât te schudde



09.11 DORSTLESSER

Ferdi en Inge Verberk (Namelok) hebben begin dit jaar een watertank gerealiseerd in Nanyuki in Kenia. Deze watertank heeft een inhoud van 225 m³. Hoeveel gezinnen kunnen hier in droge perioden van leven?

171 gezinnen

09.12 HARD GELOPEN

Fleur Kuijpers uit Ledeacker werd in 2014 vierde op de NK Indoor Atletiek in Apeldoorn. Op welke afstand (A) en in welke tijd (B) liep zij een persoonlijk record?

A 600 meter

B 1.42.89 min.



09.13 SNEL INTERNET?

Halverwege 2014 werd bekend dat de aanleg van breedband in de gemeente Sint Anthonis nog ver weg bleek. Naast een haalbaarheidsonderzoek van € 19.000 bleek het opstellen van het programma van Eisen en het verkrijgen van inzicht in de uitvoeringskosten een brug te ver. Hoe veel zou deze tweede fase gaan kosten? Omcirkel duidelijk het juiste antwoord.

A € 116.000

B € 143.000

C € 172.000

**09.14 KOPPEN DICHT!**

Toneelvereniging Kakelbond vierde het 25-jarig jubileum met het toneelstuk 'Koppen Dicht'. Wie regisseerde dit stuk (A) en voor het hoeveelste jaar (B) stond deze persoon als regisseur voor deze club?

A Joris Brukx

ABC

B Tweede jaar

09.15 BRAND?

Brandweer Sint Anthonis schopte het in 2014 tot aan de gewestelijke vaardigheidswedstrijden. Met welke plek moesten de brandweervrijwilligers uiteindelijk genoeg nemen?



vijfde plaats



10.01 KEN JE PLAATS



Vul een Brabantse/Limburgse plaatsnaam in om een goed lopende zin te maken:

- Shoppen betekent kledingwinkel in en uit. Gelukkig kwamen we als Brabanders thuis met een
- De buurvrouw haalt snel het zodat de lakens nog de wasmachine kunnen.
- De soldaat riep: "..... snel voordat de vijand hem in het vizier krijgt!"
- Het op door de statische electriciteit van de borstel.
- Dat ik voor de en uiteindelijk kies voor een route langs de Maas is gebaseerd op persoonlijk voorkeur.
- Met een gemotoriseerd vliegtuig inclusief drijvers ben ik uiteindelijk blij dat ik op
- Er komt geen einde aan; wat is dat een om de plaats van bestemming te bereiken.
- Ze stelen als! De politie moet er absoluut een onderzoek voor instellen.
- Toen zij zich uit de had zij het geluk dat ze de stroming meehad gehad.
- Door zijn daadkrachtige optreden is hij een kan zich meten aan Nelson Mandela.

A Boxmeer

B Bedaf

C Berghem

D Haarsteeg

E Waalwijk

F Zeeland

G Langeweg

H Ravenstein

I Maashees

J Helden

** Bij deze vraag zijn soms meerdere antwoorden mogelijk. Deze zijn ook goed geteld.*

10.02 DAT BEDOELEN WE TE ZEGGEN



Moeilijk woord waarvan alleen de omschrijving wordt gegeven. Welk woord bedoelen we hier?

- A. Het onvermogen te spreken.

A Afasie (ook goed geteld: mutisme, afonie en chicaneren)

- B. Gekibbel over een kleinigheid.

B Bisbilles

- C. Het samenleven van een man en een vrouw zonder huwelijk.

C Concubinaat

- D. Afwijzen bij stemming.

D Deballoteren / deballotage

- E. Het leven betreffend.

E Zotisch



10.03 TREFFENDE WOORDEN (VISUELE WEERGAVE) ABC

We hebben het allemaal wel eens: een woord dat op het puntje van de tong ligt maar waar we net op dat cruciale moment niet op kunnen komen. We hebben er alle vertrouwen in dat het jullie vanavond wél gaat lukken met onderstaande woordwolken. De woorden per woordwolk vormen een Nederlands of Brabants evenement of activiteit. Welke zijn dit?



A Motocross der Azen



B Elfstedentocht



C Carnaval (ook goed geteld: Raad van elf)



D Glow (ook goed geteld: Dutch Design Week)



10.04 SPREEKWOORDENHUSSEL

ABC

Samenvoeging twee spreekwoorden per regel; welke twee spreekwoorden per regel zijn dit?

A. Geen hemd in een vreemd pakhuys.

A Geen hemd aan je lijf hebben.

Als een kat in een vreemd pakhuys.

B. De tand of iets breken.

B De tand des tijds doorstaan.

Een lans voor iemand of iets breken.

C. Het is huilen met de wolven.

C Het is huilen met de pet op.

Meehuilen met de wolven in het bos.

D. De zon onder de voeten hebben.

D De zon niet in het water kunnen zien schijnen.

vaste grond onder de voeten hebben.

E. In hetzelfde kompas varen.

E In hetzelfde schuitje zitten.

Op iemands kompas varen.

* Bij deze vraag zijn ook andere spreekwoorden met dezelfde trefwoorden ingevuld. Deze zijn ook goed geteld.

10.05 WAT WILLEN WE ZEGGEN

ABC

Los de rebussen op!



-W



S=T



M=H, EN



D=BR

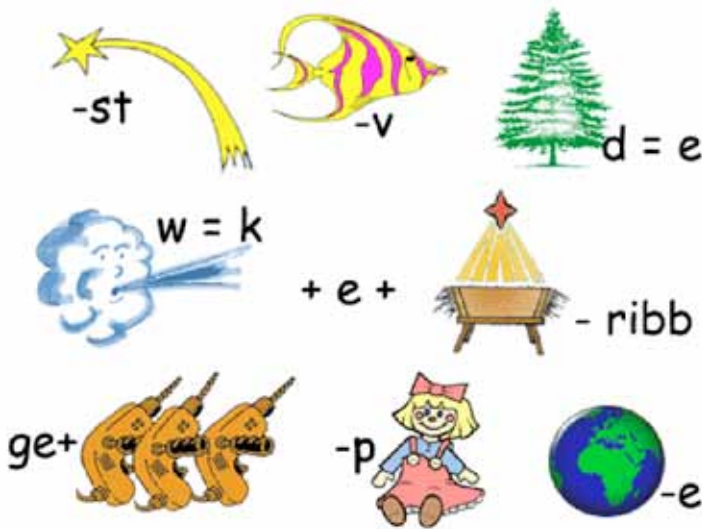
A IJzer met handen breken.



Vervolg van vraag 10.05.



B Jouw hulp komt als mosterd na de maaltijd.



C Er is een kindeke geboren op aard.



D Een paardengek spitst haar oren als zij gehinnik kan horen.



10.06 WAT ZEGT U?



Nieuwe taal: vertaal onderstaande SMS/chat afkortingen en werk ze volledig uit.

A. FFW88

A Effe wachten

B. DIDO

B Dit is dan opgelost

C. ZOTKE

C Zin om te komen eten

D. W817

D Wacht eens even

E. VLEK

E veel liefs en kusjes

F. KNZJ

F Kan niet zonder jou

G. DIEVO

G Dat is een voordeel

H. DINW

H Dat is niet waar

I. Sor vnd nie

I Sorry vandaag niet

J. AJBWIB

J Als je begrijpt wat ik bedoel

10.07 DRIEMAAL RADEN

Kwizzut is mede mogelijk gemaakt door 03 Webdesign. Waar staat 03 voor?

01 = Klanten

02 = Het bedrijf

03 = Eindgebruikers



10.08 WAAR ZIJN WE TERECHT GEKOMEN?



Vertalen van verschillende dialecten naar ABN: geef per regel de vertaling:

A. Hegge 't oavond bèssem

A Ben je vanavond alleen / Heb je vanavond vrij hof

B. Bet ie ak um aai

B Bijt hij als ik hem aai

C. Krok stoewl

C Kinderstoel

D. Ruggels

D Achteruit rijden

E. Hij is franterig

E Hij heeft een slecht humeur / Hij is prikkelbaar

10.09 MOEDERTAALDAG

Elk jaar wordt op 21 februari de Internationale Moedertaaldag gevierd. Deze dag wordt georganiseerd door Unesco en staat in het teken van de taalkundige en culturele diversiteit en de meertaligheid. Met deze dag wil Unesco aandacht vragen voor het belang van het culturele erfgoed. Wanneer noem je een taal je moedertaal? Omcirkel duidelijk het juiste antwoord.

A Als allebei je ouders deze taal spreken.

B Als je deze taal op jonge leeftijd geleerd hebt.

C Als je deze taal vloeiend spreekt.

D Als je die van je moeder geleerd hebt.



10.10 LOGO-TAAL

Bedrijfsnamen worden vaak versterkt door een passend logo. Welk lokaal bedrijf (1) hoort bij de onderstaande (mogelijk gemanipuleerde) GPS coördinaten, wat is het adres (2) en welk logo hoort hierbij (3)? Er staat slechts een gedeelte van het logo afgebeeld. Indien de GPS coördinaten niet geheel juist zijn, dan biedt het logo de doorslaggevende factor om de vraag correct te beantwoorden.



Logo 1



Logo 2



Logo 3



Logo 4



Logo 5




Logo 6



Logo 7

A. GPS 5.86901, 51.62273

1 TARS Visuele Presentatie 

2 't Kempke 3 

3 Logo 7


B. GPS 51.62509, 5.88194

1 Fysiotherapie Ronald Korsten 

2 Zandseveldpad 2 

3 Logo 3


C. GPS 5.63545, 51.84415

1 Hermens vastgoed 

2 De Quayweg 5 

3 Logo 5

D. GPS 5.89704, 51.62205


1 Sommers Installatietechniek 

2 Stevensbeekseweg 1 

3 Logo 6

E. GPS 51.63055, 5.87820

1 Bike Totaal / Theo Aben 

2 Dorpsstraat 3 

3 Logo 1

F. GPS 51. 87568, 5.63437

1 Dubbelbont 

2 Dorpsstraat 16 

3 Logo 2

G. GPS 5.62505, 51.88370

1 Geerts Schoonmaakbedrijf 

2 Lepelstraat 18 

3 Logo 4



10.11 WOORDENHUSSEL



Onderstaande woorden zijn gehusseld. Alleen de eerste en laatste letter van elk woord staat op de juiste plaats. Welke woorden moeten dit zijn?

A. nleaednrds wenroboeodk

A Nederlands woordenboek

B. iimntmdaufctnieeer

B Identificatienummer

C. aehriceevdigeekhiskztbriosrnsndeg

C Arbeidsongeschiktheidsverzekering

D. lirrbgsucsgnureuns

D Inburgeringscursus

E. Hsnoadlle kmeonndapls

E Hollandse klompendans

F. sietpoglileruoisvtk

F Struisvogelpolitiek

G. kmisdrecunmhauent

G Kindermuseumnacht

H. soognistplcllnere

H Spellingscontrole

I. eocntoyiemlrggos

I Etymologiecongres

J. Bbtnaras wsbjrronotedoe

J Brabants worstenbroodje

10.12 VAN TWEE WORD JE BETER

Onderwijs krijgen in twee verschillende talen blijkt een positief effect te hebben. Zo hebben kinderen die tweetalig onderwijs volgen minder moeite met hun eigen moedertaal, maar ook met rekenen. Hoe is dat mogelijk? Omcirkel duidelijk het juiste antwoord.

A De hersenen worden sterker doordat ze actiever worden gebruikt.

B Door het gebruik van twee talen gebruik je meer van je hersenen.

C Je leert meer wanneer je in meer talen kunt lezen en schrijven (het aanbod is groter)

D Je leert ook meer van een andere cultuur en dat is niet alleen goed voor je taalontwikkeling.



11.01 BEROEMD?

ABC

Hoe heten onderstaande mensen, bekend van de TV?



A Carlo Boszhard



B Ivo Niehe



C Philip Freriks



D Herman Emmink



E Jack Spijkerman

11.02 WIE UIT SINTTUNNIS HEEFT DE TV GEHAALD?

Ten behoeve van 19 maart 2014 werd met een lied door een groep vrijwilligers uit de gemeente Sint Anthonis nationale tv-bekendheid bereikt. Wat was dit voor een lied (A) en door welke groep werd het gezongen (B)?

A verkiezingslied

B Sint Anthonis NU

11.03 ZIJ IS NIET ONZE KONINGIN!

Andréa Parisy was een Franse actrice. Zij speelde onder andere in films met Brigitte Bardot en Louis de Funès. Zij overleed in 2014. Wat heeft zij sindsdien gemeen met het Nederlandse koningshuis?

Zij overleed op 27 april, de verjaardag van Koning Willem Alexander



11.04 POPPENSPEL

ABC

Noem de namen (1) van deze afgebeelde bekende poppen van TV en het programma (2) waartoe zij behoren.



A1 Flip

A2 Maya de Bij



B1 Snoespoes

B2 De Fabeltjeskrant



C1 Dodo

C2 Dappere Dodo



D1 Tante Neel

D2 De Bereboot

11.05 GEBOUWELIJK

Bij welk gebouw in Nederland hoort deze foto?



Beeld en Geluid



11.06 VER VOOR HET DIGITALE TIJDPERK

Op onderstaande foto zie je hele oude filmcamera's:



In de filmmakerij werd nog veel meer apparatuur gebruikt, ook vroeger. Wat zijn de namen van de apparaten uit 1937 (A) en 1942 (B) op onderstaande afbeeldingen?



A Filmontwikkeltank



B Filmprojector

11.07 WIE KENT HET NIET?

Wat zie je hier vanuit de lucht afgebeeld?



Sesamstraat (maquette)

11.08 JE HAALT ZE ZO WEER VOOR DE GEEST



Van welke films zie je hier de filmposters?



A Pulp Fiction



B Scarface



C The Exorcist



D The Blues Brothers



E The Matrix



F Silence of the Lambs



G The Godfather



TEAMNUMMER

TEAMNAAM

NAAM

Zie pagina 2 van het kwisboekje voor een toelichting op de geheime opdracht!

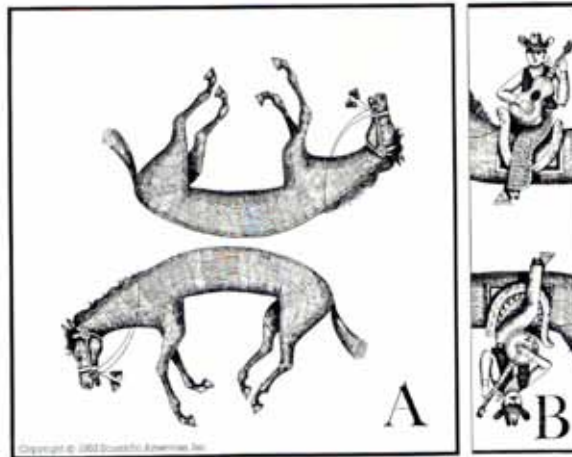
Ik wist het niet (kwizzutnie)

1. Nadat **jouw team**, na het lezen van de **cryptische** omschrijving jou uitverkoren heeft omdat jij als **geschiktste** persoon deze **secrete** opdracht het **allerbeste** zult vervullen, ben jij met het **routeboekje** in je hand als een **razende roeland** naar Ledeacker **geracet**.
2. Over een **accuraat gebreid** en **uitgespreid** rood **tapijt** ben je als een **vippersonage** onder het **toezien** oog van de **borsteloze** Catharina dit **gesacreerde**, gewijde gebouw **binnengescheden** om er een ware **sisyfusarbeid** te verrichten.
3. Je was **wis en waarachtig beretrots** toen je als pionier of **missionaris** uitgezonden werd maar je **betreurt** nu **te elfder** ure dat je als **ex-vmbo-leerling** of **ex-havoër** of **ex-vwo'er** op z'n **janboerenfluitjes** de lessen **Nederlands bijgewoond** hebt.
4. Terwijl je baalt als een stier en je je afvraagt waarom jij je **brein pijnigt** met de niet te volgen **hersensproeiingen** van een **enigszins sadistisch ingesteld** persoon, spreek jij zachtjes maar **hartgrondig** een verwensing uit: "Mogen de **gemeenste wraakgodessen onmiddellijk** hier nederdalen!"
5. Je bent **bijdehand** genoeg om niet "kwizzut" te vervloeken want je bent **ervan overtuigd** dat dit **prijzenswaardige initiatief** een **een- of tweejarige** traditie moet worden, **althoewel** jij **bevreesd** bent **getraumatiseerd** te zijn na dit **satanische dicteetje** dat alle **regionale**, zelfs **continentale** grenzen **overschrijdt**.
6. Met een zucht van verlichting: "Dit heb ik **overleefd!**" en met een **verkramp** handje, schuif jij **afgetobd** je **schrijfgerei terzijde** verlangend naar het **ijsgladde** en besneeuwde **paadje** dat onder een **vollemaan** en **omringd** door nevelige - **het mistte** - weiden een rust **uitstraalt**, goed voor **jouw gestreste** zenuwen.
7. Eén ding heb je vanavond geleerd: **nooit ofte nimmer** nog ooit een geheime opdracht. **Ammenooitniet**, liever nog goed **voorbereid** deelnemen aan Het Groot Dictee van de Gemeente Sint Anthonis.



5.06 KUNST- EN PLAKWERK

De afbeeldingen staan op twee verschillende kaarten: kaart A en Kaart B.
 Zet iedere ruiter op zijn eigen plaats. Knip de afbeeldingen op dit papier uit en plak ze op de juiste wijze op de lege plek in het kwisboekje (vraag 5.07, pagina 28).



5.12 IN DE RATS

Wie zou er in de RATS zitten als dit zou gebeuren (A) en wat stelt het voor (B)?
 Knip de delen hieronder uit en plak ze op de juiste wijze op de lege plek in het kwisboekje (vraag 5.13, pagina 30).

