



5e editie

# KWIZZUT

Westerbeek Oploo

## Kwisboekje 2022

### Antwoorden



Wij zetten de joker in op categorie:

TEAMNR



Empty box for team number.

Platinum sponsors:



Zilveren sponsors:



Bronzen sponsors:




Kwizzut 2022 is mede mogelijk gemaakt door de Oude Heerlijkheid en Café Dinges. Tevens grote dank aan iedereen die Kwizzut op enigerlei wijze met zoveel enthousiasme heeft geholpen.

## Lees onderstaande informatie goed door voordat je aan de kwis begint.

### Wanneer wordt een antwoord goed gerekend?

Simpel: als het antwoord goed is. Daarvoor gelden de volgende geboden:

- Vul de antwoorden in, in de grijze kaders van het vragenboekje.
- Schrijf duidelijk. Aan niet of slecht leesbare antwoorden worden geen punten toegekend.
- Spel correct. Wanneer dit symbool  bij het antwoord vermeld staat, letten wij zeer scherp op de spelling. Staat het symbool in de lichtblauwe balk, dan geldt dit voor de gehele vraag (alle deelantwoorden).  
*Niet goed gespeld = het antwoord fout!*

### De Kwizzut-joker

Wegens succes geprolonged: de joker!!! Je moet als team zelf kiezen welke categorie jullie denken dat je het beste hebt gemaakt. Daar zet je dan de joker op in. De behaalde punten van deze categorie worden dan verdubbeld!

Geef op de voorzijde van het boekje aan voor welke categorie jullie de joker in willen zetten.

Wanneer jullie de joker vergeten in te vullen doen wij dit niet voor je..... Gemiste kans dus!

In elke categorie zijn honderd punten te behalen. (en met de joker dus tweehonderd).



Let op: de joker kan niet voor de geheime opdracht en de extra opdrachten (foto-opdracht en filmopdracht) worden ingezet.

### Tijdsgebonden vragen

Er zijn een aantal vragen waarbij je op een bepaald tijdstip moet luisteren, kijken of aanwezig moet zijn.

Mis je dat moment? Dan kun je deze vragen alleen nog door te gokken goed beantwoorden. **Check deze vragen dus meteen en zorg dat je op tijd bent.**

Dit zijn de tijdsgebonden vragen:

- 9.06 Douze points.
- 11.08 Stipt op tijd.
- Geheime opdracht.

### Geheime opdracht:

De geheime opdracht mag dit jaar niet ontbreken! Dit is categorie 13. Ieder team moet voor deze geheime opdracht één teamlid naar 'De Oude Heerlijkheid' in Oploo sturen. Dit teamlid:

- Moet exact om 21.00 uur aanwezig zijn in 'De Oude Heerlijkheid', Grotestraat 12 in Oploo. (Te laat? Helaas jullie team krijgt 0 punten voor deze opdracht.)
- Komt alleen.
- Zorgt ervoor dat hij/zij het teamnummer en de teamnaam weet!
- Mag zijn/haar mobiele telefoon niet meenemen. (Ook geen tablet of andersoortig device).
- Is verkleed als CLOWN.
- Heeft een opgeblazen BALLON bij zich.
- Heeft te grote schoenen aan en een feestneus op.
- Heeft een LOEP bij zich.
- Is rond 22.00 uur weer terug bij het team.

Wij vertellen nu natuurlijk niet wat de geheime opdracht is, maar we willen jullie wel een tip geven: 'Er zijn er veel verschillende van'.

### Hé, er zit een USB-stick in mijn envelop!

Klopt, deze heb je nodig bij diverse vragen. Wanneer er bij de vraag staat dat je iets op de USB-stick op moet slaan, bijvoorbeeld een filmpje of foto, dan staat er bij de vraag vermeld onder welke naam je dit op moet slaan. In plaats van [teamnr] vul je daar natuurlijk je cijfers van je teamnummer in!

**Categorie 'Buiten 't boekje'**

Bij de categorie 'Buiten 't boekje' moet je op pad. Denk hierbij aan de verkeersregels en de geldende fatsoensnormen. En..... 'Glaasje op, laat je rijden!'

**Hoe en wanneer moet het originele vragenboekje weer worden ingeleverd?**

Stop alle bladzijden van het originele boekje (dus geen kopie) op genummerde volgorde in de bijgeleverde snelhechter en vervolgens in de genummerde envelop. Vergeet niet op de pagina's rechtsbovenin je teamnummer in te vullen als dit nog niet is gedaan. Ook de USB-stick moet in de envelop worden ingeleverd. De bladzijden niet in de juiste volgorde inleveren en geen teamnummer invullen betekent puntenaftrek. Let ook goed op bij het maken van de vragen welke items je nog meer in moet leveren. Lever de envelop (en items) in bij Café Dinges in Westerbeek, tussen 23.00 uur en uiterlijk 23.30 uur.

**Foto's maken**

Elk team maakt tijdens het beantwoorden van de vragen of het maken van de opdrachten zelf foto's. Een aantal van deze foto's wordt gebruikt tijdens de feestavond op 7 januari, waarop de uitslag van Kwizzut bekend wordt gemaakt. **Zet vijf gemaakte foto's op de bijgeleverde USB-stick.** Zorg dat je bij het maken van foto's en filmjes je toestel zoveel mogelijk horizontaal houdt, dan komen deze mooier uit bij de presentatie op 7 januari.

**Hoe laat is het nu eigenlijk precies?**

De 'aftelklok' op onze site [www.kwizzut.nu](http://www.kwizzut.nu) is leidend voor het uiterlijke tijdstip van inleveren van het vragenboekje.

**Wanneer weet ik of mijn team heeft gewonnen?**

Op zaterdagavond 7 januari 2023 wordt de uitslag van Kwizzut 2022 in de Oude Heerlijkheid bekend gemaakt. Op die avond worden ook de prijzen uitgereikt en is er een afsluitende feestavond. Mensen die niet mee hebben gedaan of alleen als hulplijn hebben gefungeerd zijn ook van harte welkom.

**Reglement**

Meer informatie over Kwizzut 2022 is te vinden in het reglement dat op de website [www.kwizzut.nu](http://www.kwizzut.nu) staat.

**Noodnummer**

Alleen in noodgevallen is de organisatie op 27 december 2022 tussen 18.00 uur en 23.30 uur bereikbaar op **06 - 00 00 00 00.**

**1.01 MOORDFILMS EN MOORDSERIES**

Moorden en moordzaken zijn een veelgebruikt onderwerp in series en films. Hieronder staan 5 openingszinnen genoemd van Netflix-series, maar welke Netflix-series zijn dit?

And blessed is the fruit of your womb, Jesus.

**1A** *The sinner*

Well, hello there. Who are you?

**1B** *You*

Here they come. Up the road. After 18 years.

**1C** *Making a murderer*

How is your blog going?

**1D** *Sherlock*

Durham Police this morning are investigating the death of a prominent city resident.

**1E** *The staircase*

**1.02 DIERENLEED**

Ook in Oploo en Westerbeek is Corona de afgelopen 2 jaar aanwezig geweest. Ook onder dieren. Op 17 juli 2020 werd een bedrijf in Westerbeek ontruimd in verband met een Corona-uitbraak. Ruim een week later was een bedrijf in Oploo aan de beurt.

Welke dieren werden gehouden in de bedrijven in Oploo en Westerbeek die moesten worden ontruimd vanwege Corona?

**2A** *Nertsen*

Hoeveel moederdieren bevatte het bedrijf in Oploo ten tijden van de ontruiming?

**2B** *3500 moederdieren*

Hoeveel moederdieren bevatte het bedrijf in Westerbeek ten tijden van de ontruiming?

**2C** *1100 moederdieren*

Hoeveel van de bedrijven met deze dieren raakte in totaal besmet met het Corona-virus?


**2D** *69 bedrijven*

In Nederland was veel commentaar op de ontruiming van deze dieren, maar ook in Denemarken gebeurde dit. Dit had tot gevolg dat een van de ministers aldaar moest opstappen, wie was dit?

**2E** *minister van Landbouw, Mogens Jensen*

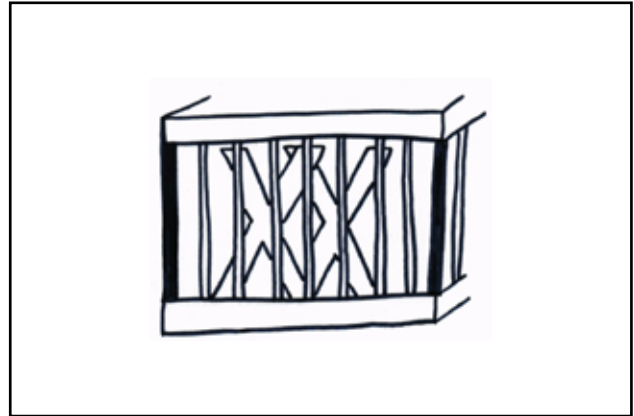
1.03 MOORDBOEK

De volgende vijf afbeeldingen geven allemaal symbolisch of letterlijk een boek of titel van een boek weer. Weten jullie over welke boeken dit gaat? Noem het boek en de schrijver.



3A Titel: *Ragdoll*

Auteur: *Daniel Cole*




3B Titel: *De vrouw in de kooi*

Auteur: *Jussi-Adler Olsen*




3C Titel: *Piep zei de muis*

Auteur: *M.J. Arlidge*



3D Titel: *It*

Auteur: *Stephen King*



3E Titel: *Hex / Heks*

Auteur: *Thomas Olde Heuvelt / Camilla Lackberg*

## 1.04 PUZZEL

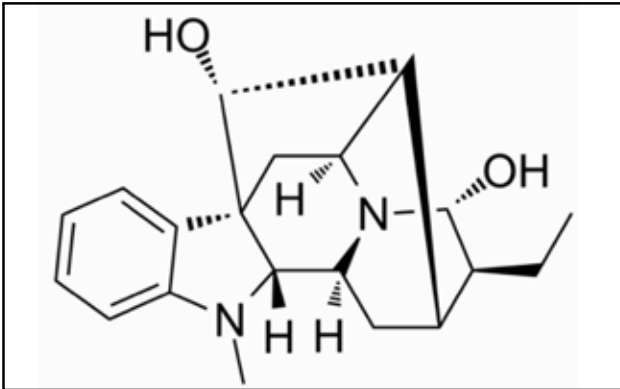
In deze opdracht zijn er 5 moorden gepleegd, aan jou de taak om erachter te komen wie wie heeft vermoord en met welk moordwapen en op welke locatie e.d. Probeer aan de hand van onderstaande hints tot een oplossing te komen (let op, de hints staan in willekeurige volgorde, dus probeer ook regelmatig terug te kijken naar de voorgaande hints). In de eerste kolom vind je dikgedrukt welke categorie in de rij ingevuld moet worden, daaronder staan de termen die ingevuld kunnen worden in cursief. Succes!

	MOORD-WAPEN					MOORD LOCATIE					MOTIEF					SLACHT-OFFER					DATUM MOORD					LAND VAN MOORD					
	Pijl en boog	Mes	Zwaard	Hamer	Naaldhak	Kroeg	School	Park	Strand	Slaapkamer	Per ongeluk	Geld verduisterd	Crime passionel	Vriendin gestolen	Botsing met een auto	Bianca	Adrienne	Rob	Dick	John	9 januari	1 april	19 september	14 mei	11 juni	Nederland	Frankrijk	Curacao	Amerika	Zuid Afrika	
LISA	X								X		X						X						X			X					
RIANNE			X							X		X					X						X				X				
RENEE				X				X					X						X					X					X		
SJAAK					X	X								X						X	X							X			
GIJS		X				X					X				X							X									X

1. Lisa vermoorde niet Bianca, want Bianca werd met een mes vermoord, en Lisa pleegde de moord met pijl en boog.
2. Renee heeft de moord niet gepleegd in de school of in de kroeg, Sjaak daarentegen wel in een van deze twee.
3. Degene die Adrienne vermoord heeft, deed dit ook niet in de school of in de kroeg.
4. Op het strand werd iemand vermoord in Nederland in september, maar dit was niet omdat er geld was verduisterd.
5. Bianca werd vermoord in de kroeg, maar dat was niet in Nederland. Degene die wel in Nederland moordde deed dat niet in het park.
6. Sjaak pleegde een moord niet in de kroeg, maar wel in een land dat niet binnen Europa valt, hij deed dit niet met een zwaard.
7. Degene die moordde op 11 juni, was in Amerika, maar had geen zwaard bij zich.
8. Dick, Bianca en Rob waren niet in de school op het moment dat zij vermoord werden, zij waren wel op (in willekeurige volgorde) het park, het strand en de kroeg.
9. In het park werd iemand met een hamer vermoord omdat een andere man zijn vriendin had afgepakt.
10. Dick werd niet in mei vermoord en dat gebeurde ook niet met een mes of pistool.
11. Gijs vermoordde Bianca op 1 april, maar niet in Curacao.
12. Degene die het geld verduisterde werd op 1 april vermoord, niet in Amerika.
13. In januari werd er niet iemand vermoord in de slaapkamer, maar in januari werd wel vermoord omwille van een botsing. Degene die moordde omwille van een botsing, deed dit niet met een hamer.
14. Lisa en Renee zijn niet degene die Adrienne hebben vermoord, een van hen vermoordde wel Rob.
15. Rianne vermoorde iemand omwille van een "crime passionel", dit was niet toen de 'r' nog in de maand zat.
16. Degene die vanwege een "crime passionel" vermoord werd was Adrienne en dit vond niet plaats in juni of september.
17. Lisa vermoorde per ongeluk iemand.
18. Degene die in het park vermoord werd, werd niet vermoord op 14 mei, maar bijna een maand later in Amerika.
19. Gijs heeft iemand vermoord in Zuid Afrika, maar dit was niet in november.
20. Dick werd niet vermoord in Nederland.

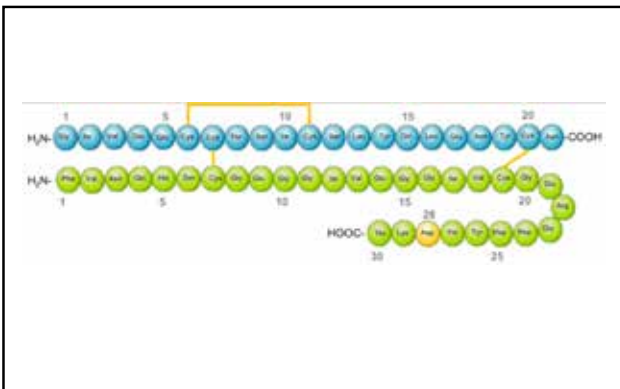
## 1.05 ENGEL DES DOODS

In de geschiedenis zijn er meerdere "Engelen des doods" werkzaam geweest in ziekenhuizen. Met verschillende medicamenten zijn vele moorden gepleegd. Weet jij welk middel gebruikt is en door wie dit middel gebruikt is?



5A Naam: *Niels Hogel*

Medicament: *Ajmalin/ Gilurytmal*



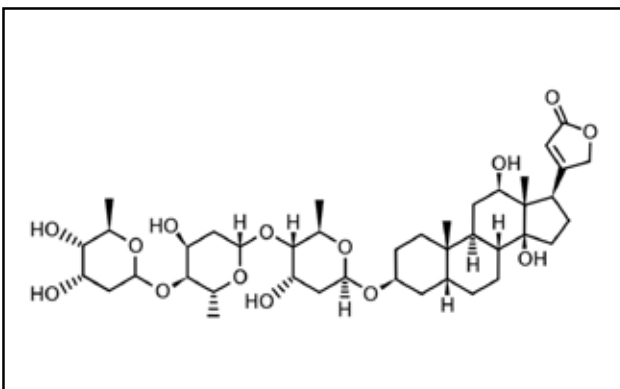
5B Naam: *Elizabeht Wettlaufer*

Naam: *Frans H.*

Naam: *Martha U*

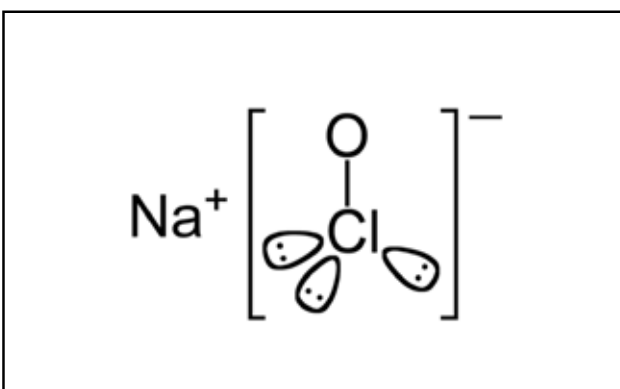
Naam: *Zuster Godfrieda*

Medicament: *Insuline*



5C Naam: *Charles Cullen*

Medicament: *Digoxine*



5D Naam: *Kimberly Clark Saenz*

Medicament: *Bleekmiddel / Natriumhypocloriet*



**1.06 CRIMINELE KLANKEN**

Gebruik voor deze vraag de bijgeleverde USB-stick.  
Welke misdaadserie hoort bij de kenmerkende muziek op de USB stick.

6A *Tatort*6B *CSI*6C *NCIS*6D *Derrick*6E *De Kolderbrigade***1.07 ARE YOU TALKING TO ME?**

Welke bekende quotes uit misdaadfilms en series herken je? Geef de naam van de film en de naam door wie (welk karakter) deze uitspraak is gedaan.

**I want to play a game**7A *Saw - Jigsaw (John)***Say hello to my little friend**7B *Scarface - Tony Montana***Here's Johnny**7C *The Shining - Jack Torrance***I never drink wine**7D *Dracula - Dracula***I'm tired of all the pain I feel and hear in the world every day**7E *The Green mile - John Coffey*

1.08 CRIME SCENE INVESTIGATION

Wie zijn deze mensen en wie hebben deze mensen vermoord?



Wie was deze moordenaar?

8A *Marcus B*

Wie werd vermoord?

*Anneli*



Wie was deze moordenaar?

8B *Mohammed B*

Wie werd vermoord?

*Theo van Gogh*



Wie was deze moordenaar?

8C *Volkert van de G*

Wie werd vermoord?

*Pim Fortuyn*



Wie was deze moordenaar?

8D *Stephan Ernst*

Wie werd vermoord?

*Walter Lubcke*

1.09 BEKENDE CRIMINELEN?

Als uw foto in de krant, op internet of social media verschijnt met een balkje voor uw gezicht of een gedeelte van uw gezicht geblokt wordt u direct aangezien voor een crimineel. Herkent u deze bekende "criminelen"?



9A *Tiny van Mil*



9B *Jan van Riet sr*



9C *Jan Bos*



9D *Ans Smets*



9E *Daan Verberk*



9F *Marjon Rutten*

**1.10 CLUEDO**

Iedereen kent het spelletje Cluedo! Door middel van hints probeer je achter de moordenaar, het moordwapen, de moordlocatie en het slachtoffer te komen. Klinkt simpel toch?

Om het wat ingewikkelder te maken krijgt ieder team een hint. In totaal zijn er 5 hints, verspreid onder de verschillende teams. Dat betekent dat er onderhandeld moet worden met je medeteams en tegenstanders. Zijn jullie het team dat het beste is in onderhandelen of delven jullie het onderspit?

Probeer bij andere teams de juiste hints te verzamelen, alleen met alle 5 de kaartjes kun je de moord oplossen. Let op, er zitten dus kaartjes dubbel in het spel, dus laat niet te vroeg het achterste van je tong zien! Succes!

**10A** Moordenaar: *Jan Janssen***10C** Moordwapen: *Honkbalknuppel***10B** Slachtoffer: *Peter Peters***10D** Moordlocatie: *Het reuzenrad*



2.01 ER ALS DE KIPPEN BIJ ZIJN

Kippen zijn levendige en vriendelijke dieren die bijdragen tot de kleur en de schoonheid in de tuin. Altijd in beweging scharrelen ze zich de dag door. Ook kinderen zijn er dol op. Wisten jullie dat er kippen in ontzettend veel verschillende soorten en maten zijn? Welke kippenrassen zie je op onderstaande foto's?



1A *Brahme*



1B *Leghorn*



1C *Sussex*



1D *Kraaikop*

2.02 PROEVEN ALS EEN KIP ZONDER KOP

Bij het kwisboekje heb je vier zakjes koekkruidels gekregen. Lucky you, want jij mag deze proeven! Vul hieronder de namen in van de koekjes die je proeft.

2A *Janhagel*

2B *Kletsmajors*

2C *Cafe noir*

2D *Bokkenpootje*



2.03 HET GELUID!

Het leukste en spannendste radiospel van Nederland: Het Geluid! Het concept bij Kwizzut is vrij simpel: scan de QR-code en raad het geluid!



3A *Quooker*



3B *Wc doorspoelen*



3C *Deur dichtdoen*




3D *Auto door de wasstraat*

2.04 HEADLESS CHICKEN

Om je te ontspannen kun je lekker bingewatchen als een kip zonder kop. Noteer uit welke serie onderstaande afbeeldingen komen!



4A *The bold type*



4B *Mocro Maffia*




4C *The handmaid's tale*



4D *Absentia*

2.05 WIE?

Topsport is het beoefenen van sport op het hoogste niveau, nationaal of internationaal. Het onderscheidt zich van recreatieve sport en algemene wedstrijd sport doordat de nadruk vrijwel volledig op de prestaties ligt. Welke vier topsporters vind je op de foto?



5A

5B

5A *Lionel Messi*

5B *Eva de Goede*

5C *Lando Norris*

5D *Lieke Wevers*

5C

5D



2.06 KIP IN DE PAN

In de categorie "Kip zonder kop" horen natuurlijk gerechten met kip. Welke gerecht maak je met deze bereidingswijze?

**Bereidingswijze A**

- Plet  $\frac{3}{4}$  van de tenen knoflook. Schil de gember en snijd in grove stukken. Snijd de stengel citroengras in stukken.
- Doe de kip in een grote pan, schenk het water erbij en voeg de knoflook, gember, het citroengras en het bouillonblokje toe. Breng het geheel aan de kook en laat het 45 minuten met de deksel op de pan op laag vuur koken. Breng op smaak met peper en zout.
- Neem de kip uit de pan. Zeef de bouillon zodat je de grote stukken eruit kunt halen. Neem het vel van de kip nadat het wat is afgekoeld en pluk met behulp van twee vorken het vlees eraf. Doe het kippenvlees weer terug in de pan.
- Snijd de rest van de knoflook in plakjes. Verhit de olie en fruit de knoflook goudbruin. Kook de rijst volgens de aanwijzingen op de verpakking. Kook de eieren in circa 8 minuten hard, laat schrikken en pel. Halveer de eieren.
- Doe in elk bord wat rijst, selderij, taugé, knoflook en een ei. Schenk de hete massa erop. Snijd de citroen in partjes. Bestrooi het met de gebakken uitjes en knijp boven elk bord een partje citroen uit.



6A Dit wordt bereid: *Soto Ajam*

**Bereidingswijze B**

- Schil en snijd de winterpeen in plakjes. Snipper de rode ui en snij de knoflook fijn. Snipper 3 sjalotjes en de andere 3 ontdoe je alleen van hun velletje. Maak de champignons schoon en halveer ze. Grote champignons snijd je in kwartjes.
- Bak de spekreepjes uit in een ruime pan zonder extra vet toe te voegen.
- Als de spekreepjes zijn uitgebakken, schep je deze uit de pan en leg je ze op wat keukenpapier. Voeg nu 2 eetlepels roomboter toe aan het vet van de spekreepjes.
- Bestrooi de kippenbouten met versgemalen peper en zeezout en bak ze om en om in een paar minuten goudbruin in de roomboter en het vet van de spekjes. Herhaal dit met kippendijen en voeg hierbij de ontvelde sjalotten toe. Bak deze even mee. Schep de kip en de sjalotten daarna uit de pan en leg deze ook even apart.
- Doe nu de gesnipperde ui, knoflook en wortel in de pan bij het braadvet en bak ze even goed aan tot de geuren vrijkomen en de ui glazig begint te worden. Voeg dan 3 eetlepels bloem toe en bak dit op laag vuur rustig aan. Voeg beetje bij beetje de rode wijn toe tot er een licht gebonden saus ontstaat.
- Voeg dan de gevogeltesfond toe samen met de laurier, tijm, basterdsuiker, versgemalen peper en zeezout. Breng dit aan de kook en voeg dan de kip toe. Zet het vuur laag en laat dit circa 60 minuten zachtjes pruttelen. Na 60 minuten haal je de tijm en laurier uit de pan.
- Neem nu een aparte koekenpan en verhit hierin 2 eetlepels roomboter. Bak de champignons op middelhoog vuur even een paar minuten aan. Haal de champignons uit de pan en voeg ze bij de kip. Ook de spekjes en hele sjalotten gaan er nu bij en laat dit in zijn geheel nog even een paar minuten zachtjes pruttelen.
- Breng op smaak met versgemalen peper en zeezout.  
Bestrooi met wat vers gesneden peterselie.



6B Dit wordt bereid: *Coq au vin*



**Bereidingswijze C**

- Meng de lichtbruine suiker, de teentjes geperste look, de maïzena, de sojasaus, de sesamolie en de rijstazijn voor de saus in een kommetje.
- Verhit een wokpan met daarin een scheutje olijfolie op het vuur. Voeg de blokjes kip toe en laat ze enkele minuten garen. Overgiet vervolgens met de saus. Laat enkele minuten inkoken.
- Werk de kip af met sesamzaadjes en fijngehakte lente-ui. Serveer met broccoli en rijst.

**6C** Dit wordt bereid: *Kip teriyaki*

**Bereidingswijze D**

- Mix de sjalotten, knoflook, rode pepers, kunjit, laos, ketoembar en een flinke scheut olie tot een mooie gladde pasta.
- Fruit de pasta in een scheutje olie 3 minuten op matig vuur. Schenk de ketjap manis en de gulu djawa toe en meng door de pasta.
- Schenk tevens het water en de kokosmelk erbij en breng al roerend tegen de kook.
- Plaats de kipdijfilet of kipfilet in de pan samen met de sereh en de salambladen.
- Laat het vlees nu minimaal 1 uur zachtjes koken met deksel schuin op de pan. Zodra het vlees uit elkaar valt is het goed. Het is een beetje aftasten wat je uiteindelijke kookduur is. Het geheel dient goed ingedikt te zijn. Je kan het ook gerust op laag vuur uren laten stoven.

**6D** Dit wordt bereid: *Ajam Roedjak*

## 2.07 ER KRAAIT GEEN HAAN NAAR

Hieronder lees je de Nederlandse vertaling van het begin van een serie. Schrijf op van welke serie dit het begin is. Let op, soms hebben we belangrijke namen weggelaten. Het moet natuurlijk wel een beetje moeilijk blijven.

***“Geen beweging. Nee. Ik heet (...). Maar zo heette ik niet toen dit verhaal begon. Dat was ik. En dat was de liefde van mijn leven. Ik liet hem achter in een plas bloed. Z’n ogen opengesperd. We voerden vijftien perfecte overvallen uit, maar liefde en zaken zijn niet te combineren.”***

**7A** De serie is: *La casa de papel*

***“Gerald T wil praten over z’n deal. Bel Harvey maar. Ik kan Gerald T best aan. Sorry moet ik openen? Wanneer ruil je Pearson voor een kerel? Ik ruil Jessica in als jij het me vraagt. Vraag meteen een pony aan de Kerstman. Ik laat haar niet vallen.”***

**7B** De serie is: *Suits*

***“Mijn God. Jezus christus. Verdomme. Mijn God. Denk na. Mijn God. Oké kom op kom op. Mijn naam is (...). Aan alle ordehandhavers, dit is geen schuldbekentenis. Ik spreek nu tegen mijn familie. (...), jij bent de liefde van mijn leven, ik hoop dat je dat weet.”***

**7C** De serie is: *Breaking bad*

***“Ons verhaal gaat over een stad een klein stadje. En over de mensen die in dat stadje wonen. Van een afstand lijkt het net als alle andere kleine stadjes. Veilig netjes onschuldig. Maar als je dichterbij komt, zie je de schaduwen die daaronder schuilen.”***

**7D** De serie is: *Riverdale*

2.08 KOPPIE KOPPIE

Als een kip zonder kop heeft jullie quizmaster hier een aantal random vragen voor jullie gemaakt. Er is geen verband tussen de vragen, maar gewoon een random verzameling van leuke wetenswaardigheden.

**Kassiewijle**

In 1980 is er een kwartet gemaakt over de gemeente Oploo ca. Één van de kaartjes in de categorie diversen is autoresport. Welke andere kaartjes behoren tot deze categorie?



8A *Vissen*

8B *Slipjacht*

8C *Kleiduvenschieten*

**Koe zonder kop**


Naast een kip zonder kop komen ook de runderen, kalveren en varkens van dit bedrijf zonder kop te zitten. In 1935 werd onderstaand bedrijf opgericht. Op welk adres konden we dit bedrijf vinden?



8D *Loonseweg 28*

**Duif met kop**

Peter Goossens is een groot duivenliefhebber. Hij bezit duiven die in de lucht prachtige capriolen kunnen uithalen. In 2009 werd hij daarmee Nederlands kampioen. Vervolgens mocht hij meedoen aan de wereldkampioenschappen, met een achtste plaats als gevolg. Welk type duiven heeft hij in zijn bezit?



8E *Birmingham Rollers*

**Hond zonder dak**

In juli 1995 brandde een woonboerderij af op een adres in Westerbeek of Oploo. Naast de bewoners werden de 7 honden helaas ook dakloos. Wat was het adres (straatnaam en huisnummer) van deze woonboerderij?



8F *Siberië 7 Westerbeek*

2.09 BOER ZOEKT VROUW

Vroeger bestonden er in Westerbeek en Oploo meer dan 100 boerderijen. Ondertussen zijn er veel boerderijen verdwenen. Gelukkig hebben we nog een aantal boeren en boerinnen over. Op de foto's zie je een deel van vier boerinnen. Beantwoord de vragen over elke boerin.



Welke boerin zie je op de foto?

9A *Ester Boumans*

Wat is de meisjesnaam van deze vrouw?

*van den Molengraft*

Welke boerin zie je op de foto?

9C *Sandy Nooijen*

Wat is de meisjesnaam van deze vrouw?

*Nooijen*

Welke boerin zie je op de foto?

9B *Yvonne van den Oever*

Wat is de meisjesnaam van deze vrouw?

*Prinsen*

Welke boerin zie je op de foto?

9D *Lonneke Rongen*

Wat is de meisjesnaam van deze vrouw?

*Peeters*





2.10 FEESTEN ALS EEN KIP ZONDER KOP

Een goed feestje houden, dat kunnen we hier in Oploo en Westerbeek wel. Voorbeelden zijn hiervan de carnaval en het de feestavond van Kwizzut.



1  
2A



2  
3B



3  
1D



4  
2B



5  
3A



6  
1B



7  
2C



8  
3E



9  
3C



10  
1C



11

3D

12

2D

13

1A

14

2E

15

1E

Welke foto's en in welke volgorde horen bij de kwizzut feestavond? En wat is de juiste volgorde?

10A 13 - 6 - 10 - 3 - 15

Welke avonden zien we op de overige 2 foto's, en in welk jaar vonden deze feestelijkheden plaats?

10B Feestavond 1: *Sleuteloverdracht*

Jaar: 2016

10C Feestavond 2: *Tuscrematiebal*

Jaar: 2020



**3.01 MAAK JE NIET DRUK**

Hydrauliek is een veelgebruikte energiedrager in de werktuigbouwkunde. Hieronder zie je een schematische weergave van een hydraulisch systeem. Los de vragen op aan de hand van dit schema.

Wat is de maximale druk die de pomp in dit systeem kan leveren?

**1A** Bar: *175 Bar*

Wat is de maximale kracht die uitgeoefend kan worden op de stang van de cilinder onder normale omstandigheden?

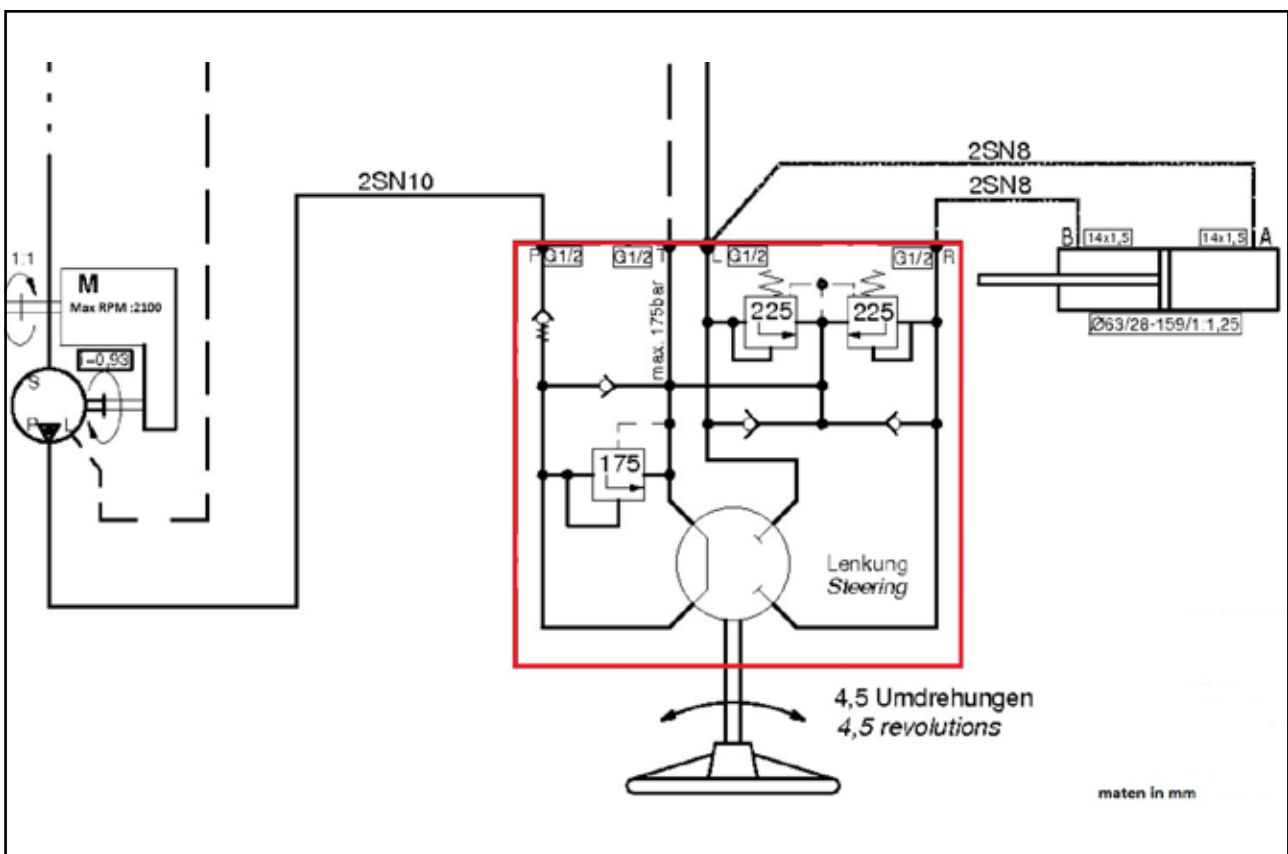
**1B** N:  *$3.15 \times 3.15 \times \pi = 31.17 \text{ cm}^2$*  *Max druk is 225 Bar = 225 kg cm<sup>2</sup>*  
 *$31.17 \times 225 = 7013.25 \text{ kg}$*   *$7013,25 \times 9,8 = 68729,85 \text{ Newton}$*

Wat is de naam van het rood omlijnde component?

**1C** *Orbitrol*

Wat is het maximale toerental van de pomp in dit systeem?

**1D** tmp: *1953 tpm*

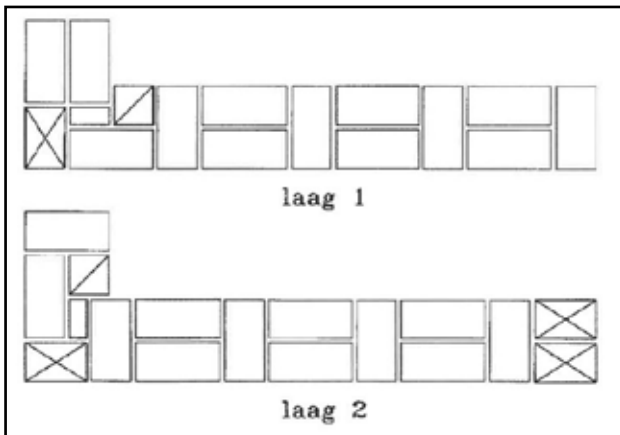
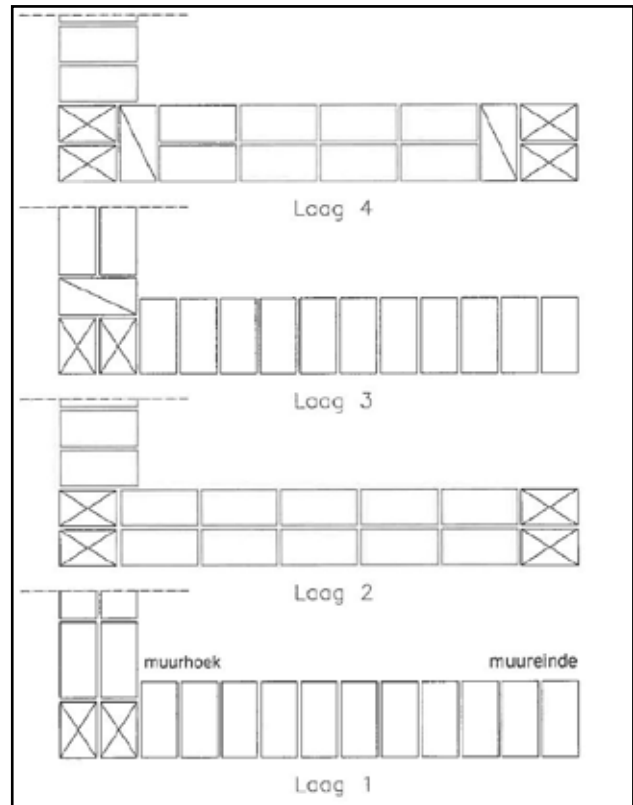




## 3.02 EEN STEENTJE BIJDRAGEN

De meeste huizen worden vandaag de dag nog met bakstenen gebouwd veelal in wildverband, maar af en toe zie je nog huizen met echte ouderwetse verbanden. Hieronder zie je enkele bouwtekeningen waarmee een metselaar het verband kan maken.


Noem de afgebeelde verbanden.


 2A *steens vlaamsverband*

 2B *steens kruisverband*

Wat zijn de vaktermen bij de aangeduide nummers

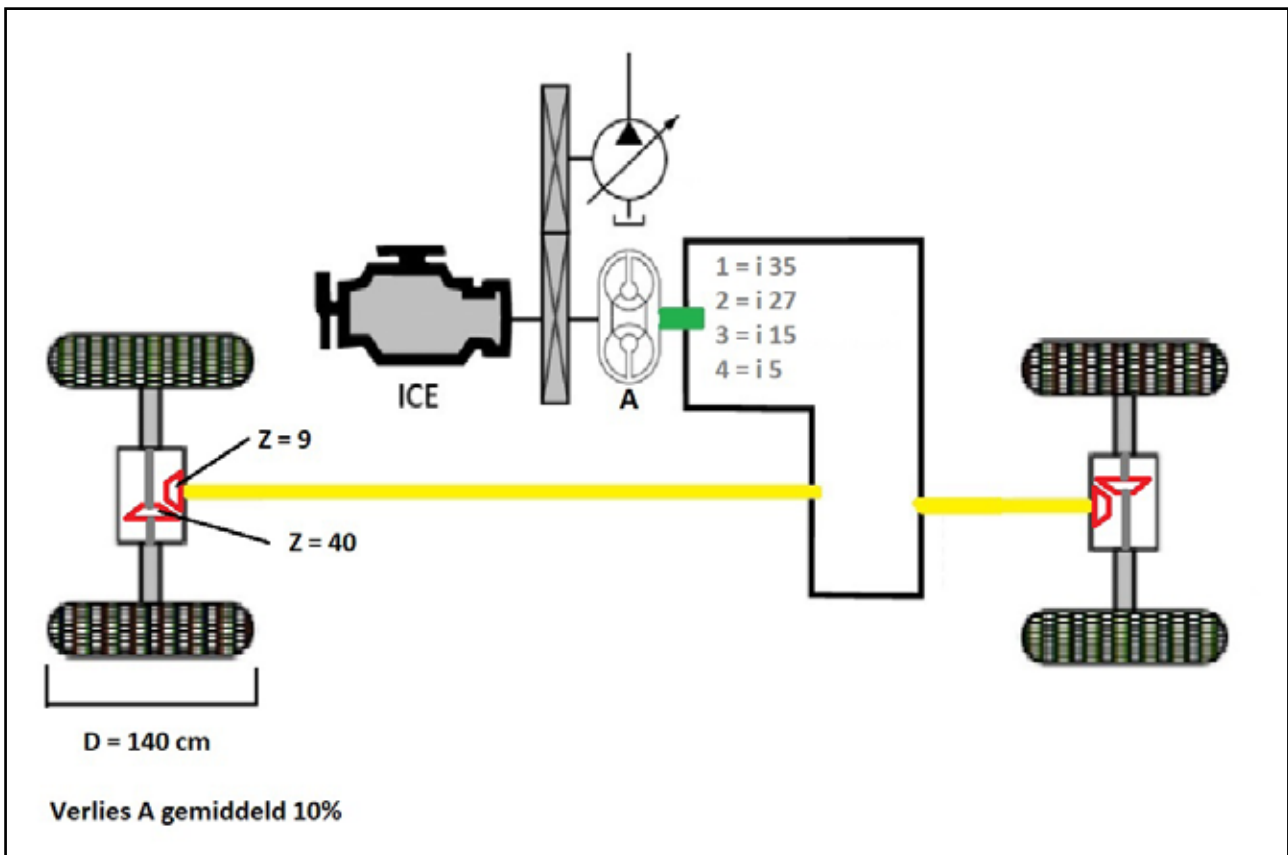
 2C *strek*

 2D *kop*

 2E *platte kant*




## 3.03 DE WIELEN VAN DE ..... GAAN ROND EN ROND



Hierboven zie je een schematische tekening van een aandrijving. Hoe wordt deze aandrijving genoemd?

3A *hydrodynamische aandrijving*

Waar wordt deze aandrijving veel gebruikt?

3B *grondverzet materieel*

Hoe heet component A?

3C *koppelomvormer / torkconverter*

Wat betekent ICE in deze tekening?

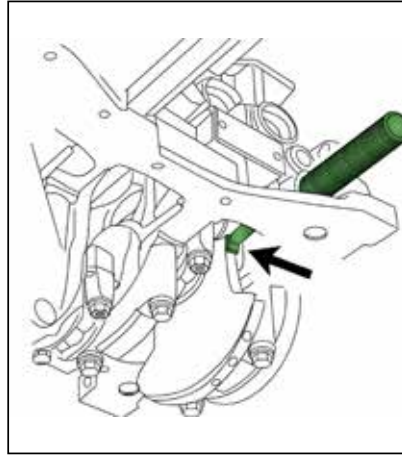
3D *internal combustion engine / verbrandingsmotor*

Bereken de snelheid (km/u) ervan uitgaande dat de nokkenas 1000 tpm draait en hij in de eerste versnelling staat.

3E *3,5 3,05 Km/u*

**3.04 GOED GEREEDSCHAP IS HET HALVE WERK**

Bij bijna elk technisch vak is wel gereedschap uitgevonden om het werk mogelijk te maken of te vereenvoudigen. Herkennen jullie de gereedschappen? Geef de Nederlandse benamingen van de hieronder afgebeelde gereedschappen.


**4A** kruislijn laser

**4B** krukas timing gereedschap

**4C** micromeetklok

**4D** verstelbare moersleutel

**4E** stethoscoop

**4F** plaathamer


## 3.05

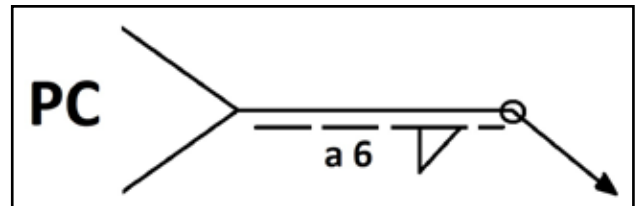
## DAT IS LASTIG

Lassen is een permanente verbinding die we elke dag tegenkomen zoals in je auto en je fiets. Deze verbinding kan op vele manieren gemaakt worden waardoor er een makkelijke manier is bedacht om aan te duiden hoe een bepaalde las gemaakt dient te worden.

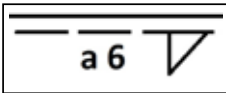
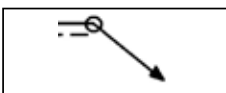
In welke 2 hoofdgroepen kunnen lassen worden ingedeeld?

 5A *stomp en niet stomp*

Verklaar de aanduidingen:



PC

 5B *de positie voor de hand*

 5C *binnenhoek met a van 6 mm*

 5D *Rondom lassen*






**3.07** UIT HET JUISTE HOUT GESNEDEN

Houtverbindingen zijn een van de oudste verbinding die wij nu nog steeds zien.

Ken jij de onderstaande verbindingen?



Benoem de hieronder afgebeelde houtverbindingen.

**7A** *duvelverbinding***7B** *pen gat verbinding***7C** *schroef verbinding***7D** *zwaluwstaart verbinding*



### 3.08 TEGEN DE STROOM IN

Beantwoord de vragen behorend bij het schema op de USB-stick.

Op welke terminals zit J122-LE17-BK16 aangesloten?

8A *Terminal 8*

Wat zit hierop aangesloten?

8B *Ignition coil cyl 10*

Waar komt dit signaal van af? Geef de juiste benaming.

8C *A-c2 primary ecm*

Welk type connector wordt hier gebruikt?

8D *Deutsch connector*

Als we deze motor willen starten, op welke terminal moet dan spanning komen staan?

8E *62*

### 3.09 DE HAMER OP Z'N KOP

Hoe wordt het gereedschap aangeduid met "1" genoemd? Noem beide benamingen.

9A *bilhamer*

*scherp hamer*

Geef twee namen van gebouwen waar dit gereedschap in Westerbeek of Oploo gebruikt is.

9B *De Korenbloem*

*D'n Olliemeulen*

Hoe wordt het gereedschap aangeduid met "1" genoemd als het bot is? En waar wordt het op dat moment voor gebruikt?

9C *Haarhamer*

*Het dun uitslaan van de molensteen om deze vlak te krijgen.*



**3.10 IT'S ALL IN THIS LOGO**

Hieronder zie je een samengesteld logo bestaande uit de logo's van 10 lokale technische bedrijven. Noem de officiële volledige bedrijfsnaam van de hieronder afgebeelde logo's.


**1** *Kocken Speciale Groentechniek*
**2** *AvL Motion*
**3** *Metaaltechniek van Duijnhoven*
**4** *Vogelsangs electro*
**5** *Jos Weerts installatie techniek*
**6** *Autoschade en -Spuitsbedrijf J. v.d. Crujjs*
**7** *Timmer- en Aannemersbedrijf P. Verberk BV*
**8** *J. van Kempen*
**9** *TSW Techniek BV*
**10** *A. van Lankveld Elektrotechniek*





**4.01 MAKE (OR BREAK) YOUR DAY**

TikTok is de afgelopen jaren erg populair geworden onder de Nederlandse jeugd. Met deze videoapp kun je korte dans- en playbackfilmpjes maken van maximaal 60 seconden en delen via Social Media. Diverse artiesten hebben van deze succesvolle app geprofiteerd en zijn hierdoor met hun nummer de hitlijsten binnen gedrongen.

Ook de Kwizzut-organisatie ging de TikTok-uitdaging aan. Op de USB zijn vier dansjes te vinden. Schrijf de naam van de artiest(en) en hun nummer bij het juiste dansje.

## DANSJE A

**1A** Artiest: *Conkarah ft. Shaggy*Nummer: *Banana*

## DANSJE B

**1B** Artiest: *Lil Nas X ft. Billy Ray Cyrus*Nummer: *Old Town Road*

## DANSJE C

**1C** Artiest: *Jason Derulo ft. Jawsh 685*Nummer: *Savage Love*

## DANSJE D

**1D** Artiest: *Master KG ft. Nomcebo Zikode*Nummer: *Jerusalema*

## 4.02 PODIUMPLAATS

Tijdens de laatste Olympische Zomerspelen stonden 34 sporten op het programma waaronder vijf sporten die hun debuut maakten. Wat weet jij over deze nieuwe sporten die we in de toekomst vaker terug gaan zien op de Olympische Spelen?

Wat is het verschil tussen honkbal en softbal? Noem drie belangrijke verschillen.

**2A** 1: *Grootte speelveld*

2: *grootte en zwaarte bal, lengte knuppel*

3: *manier van werpen, loslaten van honk*

De basis van iedere sport wordt aangeleerd door een trainer/coach. Hoe noem je deze persoon bij karate?

**2B** *Sensei*

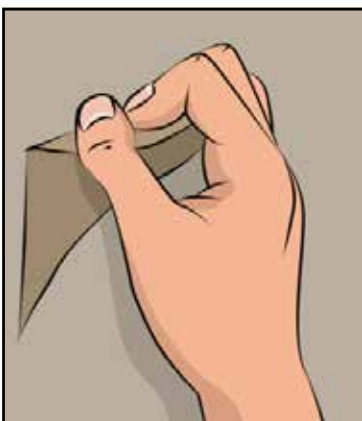
Skateboarden bestaat uit het doen van verschillende tricks. Hoe noem je de trick waarbij je door je knieën buigt, met één voet in het midden van het board staat en zo hard mogelijk met de andere voet op de tail trapt zodat het skateboard van de grond komt?

**2C** *Ollie*

Tijdens het surfen heb je een speciaal koord om je enkel wat ervoor zorgt dat het surfboard niet zomaar weg kan drijven als je in het water valt. Hoe noem je dit koord?

**2D** *Leash*

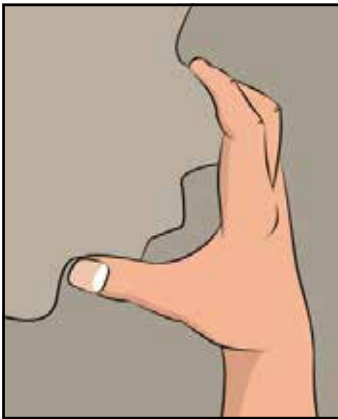
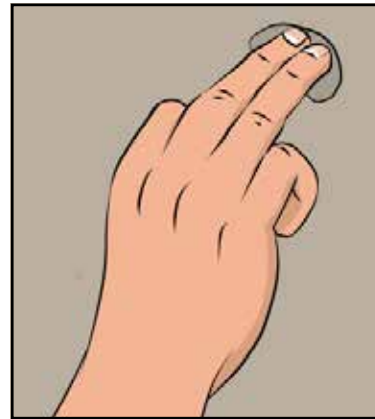
Bij sportklimmen zijn er oneindig veel manieren om een klimgreep te gebruiken. Maar hoe heten onderstaande vier basistypen?



**2E** *Crimp grip / The crimp*



**2F** *Open grip / The open grip*


**2G** *Pinch grip / The pinch*

**2H** *Pocket grip / pockets*

### 4.03 TERUG(?) NAAR DE TOEKOMST

Tijdreizen, een onderwerp waarvan het hart van vele scenarioschrijvers sneller gaat kloppen! Zo ook die van Robert Zemeckis en Bob Gale, de schrijvers van de filmtrilogie 'Back to the future'. Al jaren is vooral de eerste film een echte klassieker. Wat weet jij van deze film?

Een vraag voor onze opletende rekenaars: Hoe laat is het in de eerste seconde tijdens de eerste scène van de film?

**3A** *8.18*

Wie is de eerste gebruiker van de tijdmachine?

**3B** *Hond Einstein*


In de film reist Marty niet naar de toekomst, maar 30 jaar terug naar 1955. Eén van zijn kledingstukken wordt aangezien voor iets anders. Wat is het en wat denken de mensen uit 1955 dat het is?

**3C** *Een bodywarmer wordt aangezien als reddingsvest*

Wat heeft dit tekenfiguur met de film 'Back to the future' te maken?

**3D**

*Dit is Timmy Turner uit 'Fairly Odd Parents'. In 'Fairly Odd Parents' werd tijdens een aflevering gebruikgemaakt van de tijdmachine uit 'Back to the Future'.*



#### 4.04 PRAATJESMAKERS

“Wat wil je later worden als je groot bent?” is de vraag die iedereen als kind wel eens heeft gehoord. Zo ook de kinderen in het geluidsfragment welke op de USB-stick staan. Kun jij raden over welk beroep zij het hebben?

**Ik vind het geweldig om kinderen te vragen wat ze later willen worden, want ik ben zelf nog op zoek naar ideeën.**

**OM**  
DENKEN

4A Fragment 1: *Danseres*

4B Fragment 2: *Fotograaf*

4C Fragment 3: *Dierenarts*

#### 4.05 TROONOPVOLGERS

Waar sommigen op latere leeftijd pas ontdekken wat ze nou écht willen worden, is dat voor anderen al bij de geboorte bepaald. Dat geldt ook voor kroonprinsen en -prinsessen. Van welke koninkrijken zie je hieronder de troonopvolgers?



5A *Saoedi-Arabië*



5B *Monaco*



5C *Nederland*


 5D *Bhutan*

 5E *Spanje*

 5F *Bahrein*

## 4.06 LET THE SUN SHINE

Er wordt steeds meer geïnvesteerd in zonnepanelen, zo ook door de gemeente Land van Cuijk. Zij hebben als doelstelling 1008 terajoule duurzaam op te wekken in het jaar 2030. Dat staat gelijk aan ruim 325 hectare zonne-energie of 19 windmolens van ruim 4 megawatt. Land van Cuijk is dan ook druk bezig om enkele zonneparken in de gemeente te realiseren. Wij zijn benieuwd of deze net zo bijzonder worden als onderstaande zonneparken. In welke landen bevinden zich deze unieke zonneparken (A)? En wat is de naam van dit zonnepark (B)?

 A Land: *Amerika / Verenigde Staten*

 B Naam: *Ivanpah*

 A Land: *China*

 B Naam: *Panda Power Plant*






A Land: *Frankrijk*

B Naam: *Les Mées*

#### 4.07 STIKSTOFPROBLEEM

Iedereen heeft het wel op het nieuws meegekregen; boeren die in het hele land massaal protesteerden tegen de stikstofplannen van het kabinet. Op sommige plekken zullen stallen moeten sluiten en de vee­stapel zal naar verwachting met ongeveer 30% krimpen.

Reden voor het terugdringen van de stikstofuitstoot is dat binnen Europa Nederland verreweg de meeste hoeveelheid stikstof per hectare produceert. Een teveel aan deze stoffen in de bodem verstoort de natuur, waardoor planten- en diersoorten verdwijnen. En een teveel in de lucht is schadelijk voor onze gezondheid.

Een melkveehouder uit Ledeacker heeft totaal 60 hectare land bestaande uit zandgrond. Daarvan is 51 hectare grasland en voldoet dus aan de 80%-eis om mee te doen aan derogatie.

Hoeveel kilogram stikstof mag deze veehouder uitrijden over zijn landbouwgronden?

7A *13.800 kg (60 x 230 kg stikstof)*



4.08 DE RACE NAAR DE TOEKOMST

Hieronder zie je een aantal foto's van de jongeren uit Oploo/ Westerbeek. Zij hebben allen een leeftijd van maximaal 26 jaar. Zoals de categorie het al zegt de jeugd heeft de toekomst. Welke jongeren zorgen ervoor dat de toekomst van enkele verenigingen verzekerd is. Wie zijn zij en van welke vereniging/ stichting/ organisatie maakt hij / zij deel uit?



8A



8B



8D



8C



8E

8A Naam *Britt Verhoeven*

8A Van: *100 jaar Westerbeek*

8B Naam *Timo Cornelissen*

8B Van: *VV Excellent*

8C Naam *Hanna Janssen*

8C Van: *de Spurriebuuken*

8D Naam *Adrienne van der Zanden*

8D Van: *Kwizzut WOP*

8E Naam *Gijs Curvers*

8E Van: *Boezels*

**4.09 DE JEUGD HEEFT DE TOEKOMST**

Naast het kijken naar Youtube, Tiktok, en ontelbare streamingdiensten, wordt er geluisterd naar muziek en podcasts. Er bestaat een podcast met de naam "de jeugd heeft de toekomst"  
Welke lokale clubs kun je linken aan deze podcast?

9A *Vv excellent*

9B *Westerbeekse boys*

In welke aflevering zijn Patrick van Bruggen en Harold Tjaden tafelgasten?

9C *De rol van de ouder is groter dan brengen, ophalen en betalen.*

Hoeveel afleveringen zijn er van deze podcast gemaakt (op 15 november 2022)?

9D *12*

Er wordt door Patrick verteld dat hij een schoolteam met 18 kinderen heeft geleid. Was het aanvankelijk een goed idee alle kinderen een gelijke speeltijd te geven?

9E *ja*

Er werd in de finale niet aan ieder kind evenveel speeltijd gegeven. Wie waren het hier niet mee eens?

9F *De ouders*





**4.10** **WONING VAN DE TOEKOMST**

Momenteel zijn er weinig huizen te koop in de gemeente. Om onze jeugd in de toekomst in de gemeente te houden zijn er nieuwe huizen nodig.

Er zijn twee onderzoeksbureaus welke onderzoek hebben gedaan naar de behoefte aan woningen in de gemeente Sint Anthonis. Welke twee onderzoeksbureaus zijn dit?

**10A** *Atrivé**Primos*

Hoeveel woningen zijn er volgens de provincie Brabant nodig in de gemeente Sint Anthonis om in de behoefte te voorzien tot 2030?

**10B** *335*

Hoeveel woningen is de gemeente Sint Anthonis van plan te bouwen tot 2030?

**10C** *900*

Vanaf 1 januari 2021 is de gemeente Sint Anthonis opgegaan in de gemeente Land van Cuijk. Vanuit welke stad verwacht men in de toekomst veel woningzoekenden die zich in deze nieuwe gemeente gaan vestigen?

**10D** *Nijmegen*

Tussen 12 juli 2021 en 31 mei 2023 kan er vanuit de gemeente een aanvraag worden gedaan voor activiteiten gericht op versnelling van de voorfase van woningbouw in de provincie Noord-Brabant. Wat is het bijdrageplafond voor deze periode?

**10E** *4.637.397 euro*



**5.01 NAAR DE MAAN!**

Wat is de landingsdatum van de 1e bemande maanlanding?

**1A** *20 juli 1969*

Welke astronauten zaten in de eerste raket naar de maan?

**1B** *Michael Collins, Neil Armstrong, (Edwin) Buzz Aldrin*



Welke van bovengenoemde astronauten is niet op de maan geweest tijdens deze bekende missie?

**1C** *Michael Collins*

Wat waren de legendarische woorden van de eerste man op de maan?

**1D** *That's one small step for man, one giant leap for mankind*

De Amerikanen namen voor drie ruimtemissies van de vorige eeuw een maanwagen mee om de maan makkelijker te kunnen verkennen. Wat is er met deze maanwagens gebeurd nadat ze gebruikt zijn voor de verschillende missies?

**1E** *Zijn op de maan achter gelaten*

**5.02 MENSEN IN DE RUIMTE**

Sinds mensenheugenis zijn er ideeën om de ruimte in te gaan!

Welke mens was de eerste persoon in de ruimte die ook echt gewichtloos is geweest. Geef de persoon en jaartal aan.

**2A** Naam: *Joeri Gagarin*

Jaartal: *1961*

De eerste persoon met Nederlands roots die in de ruimte kwam, is officieel niet de eerste Nederlander in de ruimte! Wat is zijn naam en waarom is hij officieel niet de eerste Nederlander in de ruimte?

**2B** *Lodewijk van den Berg. Hij had ten tijde van zijn vlucht in 1985 geen Nederlands paspoort meer.*

In 2021 ging de "oudste mens ter wereld" de ruimte in. Uit welke film/serie is deze oudste mens vooral bekend?

**2C** *Star Trek*

*(acteur William Shatner als Captain Kirk)*

**5.03 ONEINDIG!**

Net zo oneindig als het heelal is, zo oneindig veel vragen kun je maken over het heelal, de ruimte, sterren, planeten enzovoort. Hier nog wat varia vragen, die niet speciaal onder een bepaalde vraag passen.

Op welke 2 planeten in het zonnestelsel zijn ijskappen te vinden?

**3A** *Aarde en Mars*

De zwaartekracht is niet overal hetzelfde in het heelal. Stel dat iemand op aarde 90 kg weegt, wat is dan het gewicht van die persoon op Jupiter?

**3B** *212,7 kg*

Enkele planeten in ons zonnestel zijn Venus, Aarde, Pluto en Mercurius. Zet deze 4 planeten in volgorde van groot naar klein.

**3C** *Aarde (12756 km doorsnede) --> Venus (12104 km doorsnede) --> Mercurius (4878 km doorsnede) --> Pluto (2370 km doorsnede)*

Als je de diameters bij elkaar optelt van de 4 planeten in vraag 3C, wat is dan het totaal aantal kilometers?

**3D** *32.108 km. (tussen 32.050 en 32.140)***5.04 WIE WIL ER NU NIET ASTRONAUT WORDEN ?**

De droom van veel kinderen is astronaut worden. Er zijn maar heel weinig mensen die het uiteindelijk red- den als astronaut. Ongeveer 11 jaar geleden was er een werving voor nieuwe astronauten voor het ESA- programma. Hoeveel mensen solliciteerden destijds ?

**4A** *8413 mensen*

In 2021 en 2022 ging de ESA op zoek naar nieuwe astronauten. Je moet daarvoor aan verschillende crite- ria voldoen.

Wat is de bandbreedte in lengte van een persoon die solliciteert? Antwoord in centimeters.

**4B** *150 - 190 cm (Bandbreedte 40 cm wordt ook goed gerekend)*

Wat is de bandbreedte in BMI van een persoon die solliciteert? Antwoord in kilogram.

**4C** *18,5 - 24,9 BMI*

Stel je bent 129 cm lang. Heeft het dan wel of geen zin om te solliciteren? Motiveer je antwoord.

**4D** *ja het heeft zeker zin. Mensen onder de 130 cm komen in aanmerking voor functie: "Astro- naut with a physical disability"*

Vanwege het vele en harde geluid, en het tegelijkertijd moeten communiceren zal je gehoor goed in orde moeten zijn. Wat is het aantal dB dat je moet kunnen horen?

**4E** *25 dB of beter (per oor)*

**5.05 KLEIN, KLEINER, KLEINST....**

Er zijn organisaties die onderzoek doen naar "deeltjes". Deze organisaties proberen bijvoorbeeld verklaringen te vinden over de fundamentele krachten als zwaartekracht en elektromagnetische kracht.

Wat is de naam van de Europese organisatie die hierboven beschreven onderzoek verricht?

**5A** CERN

ABC

Wat is de naam van het "deeltje" dat zij in 2012 ontdekte?

**5B** Higgs-deeltjes

Met welk apparaat is dit deeltje destijds ontdekt?

**5C** LHC (Large Hadron Collider)

Wat is tevens een ontdekking of ontwikkeling van wetenschappers van deze organisatie, die jullie wellicht helpt om het antwoord op veel vragen in deze quiz te vinden?

**5D** World Wide Web (WWW)**5.06 MARS**

Mars blijft voor onderzoekers nog steeds een hemellichaam met potentie omdat er mogelijk leven op Mars mogelijk is!

In februari 2021 landde marsverkenner Perseverance op Mars. Na de landing duurde het nog "een tijdje" voordat in het controlecentrum ook duidelijk was dat Perseverance goed geland was. Hoe lang duurde het voordat communicatie van Perseverance die geland is op Mars, op de aarde terug was?

**6A** 11 minuten

Mars wordt ook wel de rode planeet genoemd. Maar waarom is Mars rood?

**6B** roestvorming / oxidatie van ijzer in de grond

Hoeveel bedraagt de zwaartekracht op Mars ten opzichte van de zwaartekracht op de aarde?

**6C** 0,379 x de zwaartekracht op Aarde.

Hoe wordt deze krater op Mars ook wel genoemd?

**6D** Happy Face krater / Galle krater,



**5.07** DUISTERE TOESTANDEN

Als we de ruimte in kijken is het vaak erg donker! En wat te denken van zwarte gaten, wat moeten we daar toch allemaal mee? Er is nog veel onduidelijk over dit verschijnsel.

Maansverduisteringen herhalen zich volgens een bepaald patroon of cyclus.

Hoe heet dit patroon / cyclus?

**7A** *Saros Cyclus*

Om de hoeveel tijd herhaalt deze cyclus zich?

**7B** *6585,3 dagen (ca 18 jaar)*

Wanneer was in Oploo en Westerbeek de laatste volledige maansverduistering te zien, waarbij de eclips helemaal zichtbaar was?

**7C** *28 september 2015*

Zwarte gaten zijn heel erg zwaar! Wat is het gewicht (uitgedrukt in kilogram) van een zwart gat met een diameter van 1 cm?

**7D** *3.370.000.000.000.000.000.000 kg (ongeveer de helft vd massa vd aarde)*

**5.08** STERRENBEELDEN

Er zijn mooie apps die je helpen om sterren en sterrenbeelden te zien. Van 1 van de meest bekende apps zie je foto's hieronder met daarop de kerk van Westerbeek en de molen van Oploo. Bij beide gebouwen/ objecten zie je de Ursa Major, oftewel de grote beer!

Wat is de voornaamste overeenkomst tussen de Ursa Major, Ursa Minor, Cassiopeia en Camelopardalis

**8A** *het zijn circumpolaire sterren(beelden), oftewel sterren(beelden) die we het hele jaar door kunnen zien.*

Maak zelf een foto met een app zoals hierboven staat. Op de foto moet dus de kerk van Westerbeek staan inclusief het sterrenbeeld Ursa Major, oftewel de grote beer.



**8B** *Zet de foto op de USB stick onder de naam: "may the force be with you 8B".*

Maak zelf een foto met een app zoals hierboven staat. Op de foto moet dus de molen van Oploo staan inclusief het sterrenbeeld Ursa Major, oftewel de grote beer.

8C


Zet de foto op de USB stick onder de naam: "May the force be with you 8C".



5.09


## RUIMTELIJKE VRAAG

Over de ruimte zijn veel (teken)films gemaakt. Ook zijn er ontzettend veel bedrijven of apparaten die iets met de ruimte van doen hebben. Schrijf bij iedere foto wat dit is.



9A

Nasa



9B

Strip van Kuifje met als titel Raket naar de maan



9C

Lunar Eagle Module van de Apollo 11 missie (1e bemand voertuig op de maan)



9D

Cape Canaveral en specifiek het lanceerplatform van Blue Origin



**9E** *Thunderbirds***5.10** RUIMTETOERISME

We vliegen de hele wereld over om op vakantie te gaan. Maar over een tijdje zal "vakantie" naar de ruimte mogelijk worden voor de multimiljonairs onder ons. Een enorm prestigeproject voor bedrijven om ruimtetoerisme zo snel mogelijk te laten zijn!

Op welke hoogte (in kilometers uitgedrukt) moet je zijn geweest om te kunnen zeggen dat je ook echt een ruimtetoerist bent geweest volgens de meeste bedrijven die ruimtetoerisme mogelijk willen maken?

**10A** *Antwoord 100 km (nasa gaat uit van 80 km)*

Hoe heet de "grens" tussen de aarde en de ruimte?

**10B** *Karmanlijn.*

In 2021 gingen 2 geduchte concurrenten richting/in de ruimte. Noteer hieronder de naam van het bedrijf, naam van de eigenaar en ook op welke datum zij richting/in de ruimte zijn geweest.

**10C** Bedrijf: *Virgin Galactic*Naam: *Richard Branson*Datum: *11 juli 2021***10C** Bedrijf: *Blue Origin*Naam: *Jeff Bezos*Datum: *20 juli 2021*

6.01 UITGESTORVEN BLOEMETJES PLUKKEN



Nederland houdt al jaren een lijst bij met bedreigde planten en dieren in Nederland. Volgens deze "Rode Lijst" komen onderstaande vaatplanten niet meer voor in de Nederlandse natuur.

Wat is de Nederlandse naam van deze planten?



1A *Vlshuttentut*



1B *Zwarte Lathyrus*



1C *Hennepvreter*

6.02 VERDWENEN MAAR NIET VERGETEN?

Nederland heeft een rijke handelshistorie. Welke naam hoort er bij deze Hollandse merken die inmiddels uit het straatbeeld verdwenen zijn?



2A *Overtoom*





2B *AC restaurants*



2C *PTT*

**2D** *Van Gent en Loos***2E** *RVS verzekeringen***6.03** AND THE OSCAR GOES TO...


Wie zijn deze acteurs die, toen ze jonger waren, allemaal een Oscar of Golden Globe gewonnen hebben?

**3A** *Audrey Hepburn***3B** *John Travolta***3C** *Anjelica Huston***3D** *Paul Newman***3E** *Paul Hogan***3F** *Kirstie Alley*



## 6.04 OLYMPISCHE DROOM IN DUIGEN

Tijdens de Olympische Spelen waren deze stadions goed gevuld. In welke stad waren hier de Olympische Spelen? En voor welke sport werden deze gebruikt?

4A Stad: *Rio*Sport: *Zwemmen*4B Stad: *Beijing/Peking*Sport: *BMX*4C Stad: *Atlanta*Sport: *Hockey*4D Stad: *Sarajevo*Sport: *Bobslee/Skeleton*

6.05 SPEL(LETJES)PROGRAMMA'S


Wie kent ze niet, de tv shows van weleer. Wat waren de namen van onderstaande spelshows?



5A *Berend Boudewijn Kwis*



5B *Moordspel*



5C *Uhhh.. Vergeet je tandeborstel niet*



5D *Het Gulden Schot*



5E *Wie Kent Kwis*





6.06 DAAR ZIT MUZIEK IN

Er bestaan vele soorten muziekinstrumenten. Geef de naam van onderstaande, niet veel meer voorkomende muziekinstrumenten.



6A De Japanse Sho



6B Handpan /spacedrum



6C Waterphone / Aquaphone

**6.07 WAAR LIGT DAT OOK AL WEER?**

Vroeger waren er vele benamingen voor gebieden. Deze namen zijn in de loop van de tijd verdwenen. Geef de coördinaten van nevenstaande kaart waar de volgende gebiedsnamen liggen/lagen. De kaart is in een groter formaat op de USB-stick te vinden.  
Als voorbeeld: Het voormalige gemeentehuis heeft als coördinaat T13.

Donderslagsche heide:

**7A** R13

(de) Pest

**7B** een van de coördinaten Q21-22, R20-22 is goed

Kwaaimeer

**7C** G19

De Strijpt

**7D** een van de coördinaten :X15-17, Y15-17,Z15-17 is goed



**6.08 GIFTEN**

Ook in het verleden hielp men elkaar al. Onderstaande teksten komen uit verschillende lokale geschiedenis boeken. Welke locaties worden in onderstaande teksten bedoeld?

Op 16 oktober 1965 overleed kerkmeester Franciscus van den Boomen. Hij werd opgevolgd door de heer Pierre van Lankveld. De Westerbeekse kerk was hard toe aan herstel zowel van binnen als van buiten. In augustus 1965 begonnen ze met het dak. Het smeedijzeren geval op de toren bleek geheel verroest en dreigde naar omlaag te komen. De pastoor van ..... had nog een groot kruis en het prijkt nu op de toren van de kerk van Westerbeek.

Welke plaats moet op de gestippelde lijn ingevuld worden?

**8A** Oploo

Een pastoor, pastoor Schmerling, heeft een aantekening achtergelaten waarin hij verteld dat de pastoor van ..... hem heeft doorgegeven dat er eertijds ..... een kapel was, bestemd voor de bewoners daar. Toen naderhand Oploo zich verder ontwikkelde en een eigen kapel kreeg, werd die van ..... minder belangrijk. Het altaar werd overgebracht naar de kapel in Oploo en dat betekende het einde van de ..... kapel. Men weet niet waar ze gestaan heeft. Waarschijnlijk is het nog een tijde een gewone veldkapel geweest.

Over welke kapel gaat bovenstaande tekst?

**8B** kapel van de Sambeeksche Hoek

## 6.09

## MEDAILLES



Weinigen weten misschien dat er in de regio een bedevaartsoord ligt. Op bovenstaande foto zie je twee medailles liggen, welke met dit bedevaartsoord te maken hebben. Om jullie goed te laten speuren is een deel van de medaille onleesbaar gemaakt.

Wat staat er op de achterzijde van de medailles?

**9A** *Bedevaarts Westerbeek Oploo*

In welk jaar zijn de medailles gemaakt?

**9B** *1948*

Wie staat er op de voorzijde van de medaille?

**9C** *H. Gerardus Majella*

In welke plaats kunnen we dit bedevaartsoord vinden?

**9D** *Westerbeek (in de devotiekapel in de parochiekerk van het H. Hart van Jezus)*

Onder welk bisdom valt dit bedevaartsoord?

**9E** *s-Hertogenbosch*



## 6.10 CARNAVAL

Vergane glorie, dat hebben we ook bij de carnaval. We zijn benieuwd naar jullie kennis over het verleden van het carnaval in Oploo en Westerbeek.

1. Wie was er de prins van Oploo in het jaar 1979?
2. Wie was er jeugdprins van Oploo in het jaar 2008?
3. Hoeveel Westerbeekse prinsessen zijn ook ooit ere-tustèker geweest?
4. Welke kleur heeft de tuskrant uit het jaar 2000?
5. Wie was de 4e Jubileum prins van Oploo?
6. Wat is het geboorte jaar van de Westerbeekse prins uit 1997? 19...
7. Wie was de 1e jubileum prins van Westerbeek?
8. Wie is de vader van de Oploose prins uit 1988?



1.	G	E	R	A	R	D														
2.	M	A	R	T																
3.	D	R	I	E																
4.	B	L	A	U	W															
5.	S	I	E	M																
6.	D	R	I	E	E	N	Z	E	V	E	N	T	I	G						
7.	S	J	E	F																
8.	P	I	E	T																

Van de letters in de gekleurde vakjes kun je een woord maken. Welk woord is dit?

7.01 RODE WANGETJES

Van deze onderstaande hunks krijgt menig vrouw misschien geen rode oortjes, maar het wel erg warm.... Herken jij deze hunks?



1A *Jamie Dornan*



1B *Liam Hemsworth*




1C *David Gandy*



1D *Zayn Malik*



1E *Tom Hiddleston*



## 7.02

## MOOIE OORTJES

Oren zijn er in vele soorten en maten. Ieder met eigen kenmerken.  
Van wie zijn deze mooie oortjes?

2A *Alpaca*2B *Schotse Hooglander*2C *Doodshoofdaapje*2D *Leeuw*2E *Vos*

Welke 2 van deze oren kun je in onze Staatsbossen tegenkomen?

2F *Schotse Hooglander en vos*



**7.03 FIFTY SHADES...**

*Vijftig tinten grijs is een erotische roman van de Britse schrijfster E.L. James. Het boek werd na publicatie in 2011 een internationale bestseller en is het eerste deel van een drieluik. De andere delen heten Vijftig tinten donkerder en Vijftig tinten vrij. Even testen wie ze al gelezen heeft!*

Christian heeft een helikopter. Hoe noemt hij die?

**3A** Charlie Tango

Van welk merk is de auto die Christian koopt voor Ana?

**3B** Audi

Wat is de 2E hobby van Christian?

**3C** Zweefvliegen

Het boek is ook verfilmd. Het nummer in de officiële fifty shades freed trailer is een cover. Van welke band is het origineel en wat is de naam van het nummer?

**3D** INXS - Never tear us apart**7.04 BEDGEHEIMEN**

In welk merk bed worden 1 op de 10 Europese baby's verwekt?

**4A** Ikea bed

Welk vrouwelijk dier gaat dood als het een jaar geen gemeenschap heeft?

**4B** Een vrouwtjes Fred**7.05 IS ER EEN DOKTER IN DE ZAAL?**

Alleen nog slapen en geen bijslaap? Geen nood de dokter schrijft je wel een pilletje voor. Geef de namen van onderstaande pilletjes.

**5A** Levitra**5B** Lovegra**5C** Kamagra soft tabs


**5D** Viagra professional

**5E** Generieke Propecia (Finasteride)

**7.06 WAAR OF NIET WAAR**

Streek het foute antwoord weg.

**6A** Napoleons penis werd er na zijn overlijden afgesneden!

WAAR

~~NIET WAAR~~
**6B** Jaarlijks komen gemiddeld meer dan 250 Nederlanders vast te zitten in hun sexstandje

WAAR

~~NIET WAAR~~
**6C** Mannen van de Walibri-stam uit Australië groeten elkaar door elkaars penis te 'schudden'!

WAAR

~~NIET WAAR~~
**6D** Een gemiddelde vrouw heeft minder seksueel verlangen dan een man!

~~WAAR~~

NIET WAAR

**6E** Honing is het populairste natuurlijke potentie verhogende middel in Zuid Amerika!

WAAR

~~NIET WAAR~~
**6F** Veelvuldig fietsen is slecht voor de mannelijke potentie!

WAAR

~~NIET WAAR~~



7.07 DE SCHOONHEID VAN DE NATUUR

In de plantenwereld hebben alle planten een Latijnse naam. Omdat dit voor veel Nederlanders een nietszeggende naam is, zijn er vertalingen van deze plantennamen. Sommige van deze namen zijn erotisch getint.

Hieronder staan een 7-tal foto's, zet de juiste naam bij de planten.



7A Hooker lips



7C Peniskokerplant



7D Black man's Willy



7B Pijpbloem



7E Peter Penis Peper



7F Condoomplant/  
Horney wonder



7G Vrouwentong

7.08 RODE OORTJES VAN DE TV

Het kan er op tv nogal een "Hard" aan toe gaan. Uit welke films of serie komen de volgende fragmenten



8A Basic instinct



8B From Russia with love



8C 50 shades of Grey



8D Turks fruit



8E Titanic

## 7.09 HOT OR NOT SO HOT?

Hot, sexy, charmant, lekker... uitspraken die je vaak over deze dames hoort. Menig man krijgt rode oortjes van het kijken naar deze dames. Maar deze dames hebben ook vieze gewoontes die ze liever in de openbaarheid zouden hebben, maar wij zijn er toch achter gekomen. Weet jij welke walgelijke gewoontes de onderstaande sexy dames hebben?



9A Naam: *Cameron Diaz*

Vieze gewoonte: *Ruikt niet altijd op haar best*



9B Naam: *Olivia Wilde*

Vieze gewoonte: *Nagels bijten*



9C Naam: *Jennifer Aniston*

Vieze gewoonte: *Slechte adem; halitose; weinig tandenpoetsen*



9D Naam: *Kim Kardashian*

Vieze gewoonte: *Slaapt met make up op; reinigen huid*



9E Naam: *Megan Fox*

Vieze gewoonte: *Spoelt het toilet niet door na grote behoefte*



7.10

SEXBOMMEN

Klassieke Schoonheid, wie kent ze nou niet de "mooiste bommen" uit de jaren '90. Eens kijken of jij weet wie dit zijn.



10A *Monica Bellucci*



10B *Carmen Electra*



10C *Cindy Crawford*



10D *Tatjana Simic*



10E *Pamela Anderson*

8.01

AYAHUASCA



Ayahuasca is een thee, gebrouwen van een mix van verschillende planten, met een lange en rijke historie onder de inheemse bevolking van vooral Zuid-Amerika. Deze wordt al eeuwen gebruikt in religieuze rituelen. Ze zien de drank als een medicijn om bijvoorbeeld in contact te komen met andere (goddelijke) entiteiten.

Wat is de bijnaam voor Ayahuasca en waarom?

**1A** *La Purga: Spaans voor zuivering. Deze bijnaam komt omdat de gebruiker tijdens de roes vaak moet overgeven en diarree heeft.*

Wat zijn de werkzame bestanddelen?

**1B** *DMT dimethyltryptamine en harmine of harmaline*

Noem drie medicijngroepen waarmee Ayahuasca niet samen kan:

**1C** *antidepressiva (SSRI's en TCA's) / amfetamine / serotonerge opiaten / antihistamines / bloeddrukverlagers*





8.02 SPORT

In 2021 waren de zomerspelen. Mathieu van der Poel was topfavoriet bij het mountainbiken. Maar hij miste een hindernis en viel met een rugblessure uit. Maar Mathieu is niet de enige mountainbiker die geregeld een bezoek aan de dokter brengt. Het aantal mountainbikeblessures is explosief toegenomen. Deze stijging is deels te verklaren doordat er sinds de coronapandemie meer mountainbike wordt gereden. Hiermee neemt het risico op een bezoek aan de eerste hulp ook toe. Met het kleurensysteem hoopt wielersportbond NTFU dat de nieuwe beoordeling leidt tot minder ongevallen. Er is voor elke type mountainbiker een geschikte route en moeilijkheidsgraad. Het kleurensysteem draagt bij aan de veiligheid. Welke vier kleuren heeft wielersportbond NTFU geïntroduceerd en voor wie zijn deze routes geschikt? We hebben je een beetje op weg geholpen.

2A kleur: groen

voor wie geschikt: *Geschikt voor beginnende mountainbikers en voor gravelers*

2B kleur: *Blauw*

voor wie geschikt: Route bestemd voor ervaren mountainbikers en ervaren gravelers


2C kleur: rood

voor wie geschikt: *Technische route bestemd voor geoefende mountainbikers*


2D kleur: *Zwart*

voor wie geschikt: Zeer technische routes, bestemd voor technisch geoefende mountainbikers


Wat betekenen de volgende bordjes:



2E *verbindingsroute*



2F *afkortroute*



2G *technische passage risicovol*

**8.03 LACHEN GIEREN BRULLEN**

Komt een man bij de dokter is een populair satirisch tv programma waar in korte sketches alle daagse dingen met humor worden uitgebeeld. 1 keer per jaar worden ook bij ons alle registers opengetrokken om jullie te vermaken in de spurriebuiken residentie en in de plaggehut tijdens de pronkzittingen van onze carnivals verreïngingen. Er worden die avonden veel stukken opgevoerd door mensen uit het dorp.

Door wie werd het karakter Edje opgevoerd ?

**3A** René Bergmans (oploo) en Jan van Kempen (Westerbeek)

In welk jaar is deze voor het eerst opgevoerd?

**3B** 2005 / 2017 / 2018

Wat is Edje zijn hobby?

**3C** Golfen / vaandeldrager

Wie waren er werkeloos ?

**3D** Pronkzitting karakter Edje: Zijn broer en Edje en zoon Dorus.  
Pronkzitting Oploo: Chantal van Dijk, Jolanda Heijligers, Nicole Peeters, Bianca Bongers

Als wat hebben ze uiteindelijk werk gevonden?

**3E** Pronkzitting karakter Edje: Abortuskliniek  
Pronkzitting Oploo: Raam prostituees

In welk jaar is dit stuk gespeeld ?

**3F** Pronkzitting karakter Edje: 2005 / 2013/ 2017 / 2018  
Pronkzitting Oploo: 2015

Op vraag 3D t/m 3F waren twee antwoordmogelijkheden, beide zijn goed.

**8.04 DSM**

In de medische wetenschap wordt heel wat gerekend. Kun jij De Sommen Maken (5) ?  
Schrijf de uitkomst in het antwoordvakje

**Schizofrenie + Anorexia Nervosa =**

**4A**  $295.90 + 307.1 = 603$

**Kleptomanie - Alcoholonttrekkingsyndroom =**

**4B**  $312.32 - 291.81 = 20.51$

**Ongespecificeerd delirium x ongespecificeerde katatonie =**

**4C**  $780.09 \times 293.89 = 229260,65$

**Maligne Neurolepticasyndroom - Bipolaire stoornis ernstig x Stoornis van Gilles de la Tourette =**

**4D**  $333.92 - 296.43 \times 307.23 = -90738,2689$

**8.05 VAN LEVENSREDDENDE BELANG**

Er komen gelukkig steeds meer AED te hangen om er voor te zorgen dat we altijd de mogelijkheid hebben goede zorg te kunnen verlenen voor onze inwoners

Waar hangen de volgende AED's en zijn de eigenaren?



**5A** Waar: *D'n Oploo - Oploo*



**5C** Waar: *De schans - Westerbeek*

**5B** Eigenaar:

*VV Excellent en Fanfare Exelsior*

**5D** Eigenaar:

*Dorpsraad Westerbeek*

Wie is het aanspreekpunt voor deze apparaten in Westerbeek?

**5E** *Suzan van den Oever*

Wie is het aanspreekpunt voor deze apparaten in Oploo?

**5F** *Erna Ermens*



**8.06 MUZIEK ALS REMEDIE**

Muziek als medicijn; Er wordt al jarenlang onderzoek gedaan naar de invloed van muziek op de verbetering van de gezondheidstoestand van mensen. In de afgelopen jaren zijn er diverse liedjes geschreven waarbij de gezondheidszorg op een of andere manier betrokken wordt.

Hieronder staan fragmenten uit teksten, benoem van elke tekst de titel en zanger(es)/ band.

***Je weet alles, papa wist 't allemaal  
heel weinig kennis is gevaarlijk***

**6A** Titel: *It's my life*

Artiest/band: *Dr Alban*

***Zei, als je me baby wilt noemen  
ga je gang nu***

**6B** Titel: *Two princes*

Artiest/band: *Spin Doctors*

***Ik lig hier te beven en te zweten  
visioenen, koorts en kippenvel***

**6C** Titel: *Nachtzuster*

Artiest/band: *Doe Maar*

***He dokter, kun je me iets geven  
Om de pijn te verzachten, om de pijn te verzachten***

**6D** Titel: *Dr. Beat*

Artiest/band: *Gloria Estefan / Miami sound machine*

***Maakt u zich niet zoveel zorgen  
de zuster blijft bij hem***

**6E** Titel: *Dr. Bernhard*

Artiest/band: *Bonnie St. Claire ( en Ron Brandsteder)*



**8.07 KOMT EEN VROUW BIJ DE DOKTER**

Behalve dat mannen wel eens bij dokters komen, komen er ook wel eens vrouwen bij de dokter. Daar wordt dan een boek over geschreven door Kluun; Komt een vrouw bij de dokter.

Volgens welke methode werkt de psychotherapeute?

**7A** *Methode van Carl Simonton*

Hoe heet Carmen met haar achternaam?

**7B** *Van Diepen*

Wat voor een knuffel heeft Luna voor haar verjaardag gekregen?

**7C** *Elmo*

Hoe heet de huisarts van Carmen?

**7D** *Dokter Bakker*

**8.08 D'N HUUSDOKTER**

Huisartsen hebben we allemaal wel een nodig. Gelukkig is er altijd wel een in de buurt zo ook bij ons de huisarts is al sinds jaar en dag gevestigd in Oploo maar niet altijd op de plek waar we hem nu vinden.

Wat zat er voorheen in het pand waar zich nu de huisartspraktijk bevindt?

**8A** *Rabobank*

Hoe heet de dokter die daar begonnen is ?

**8B** *Dr. Mark Curré*

Wat is de naam van het huis waar voorheen de huisartspraktijk was?

**8C** *'t Juffere*

Wat was de naam van de huisarts ?

**8D** *Dr wijnen*

**8.09 RECEPT**

Het organiseren van Kwizzut kost veel kopzorgen. Daarom heeft een van de artsen een speciaal recept geschreven, met tabletten die alle stress tegen zouden moeten gaan. Maar wat is er nu precies uitgeschreven?

Wanneer moeten deze tabletten ingenomen worden?

**9A** *Voor de nacht, na de maaltijd.*

De R/ op een recept betekent natuurlijk recipe in het latijn, dat staat voor recept. Maar weet je ook waar de S/ op het recept voor staat in het latijn?

**9B** *Signa (schrijf)*

Een van de organisatoren reageert te heftig op het medicijn en wil een half tabletje per dag gaan nemen. Mag hij het medicijn doormidden breken om een half tabletje te nemen? Waarom wel of niet?

**9C** *Nee, want het is een medicijn met gereguleerde afgifte.*

De arts schrijft nu voor dat er een keer per dag één tablet genomen mag worden van het medicijn Kwizzut 21, welke afkorting zou de arts gebruiken als hij zou willen zeggen 'gebruik zoveel als nodig is'?

**9D** *q.s. (quantum sufficit)*

Het recept moet met spoed uitgegeven worden door de apotheek. Welke medische term moet de arts op het recept bijschrijven om dit duidelijk te maken aan de apotheek?

**9E** *CITO-(recept)*

Wat mist er op dit recept om het rechtsgeldig te maken?

**9F** *BIG-nummer van de arts*

**Gegevens voorschrijver:**

L.G.H. Cornelissen  
Arts Internationale Gezondheidszorg en Tropengeneeskunde  
Gelre Ziekenhuizen Apeldoorn  
Albert schweitzerlaan 31  
7334 DZ Apeldoorn  
0555818181  
BIG:

28 okt. 2021

R/ Kwizzut 21 MGA, 1dd1, 30 tabs  
S/ 1dd1 stuks a.n., p.c. Met water innemen

**Gegevens patiënt:**

Lisa Cornelissen  
Vosselmanstraat 262D  
7311cL Apeldoorn  
Geboortedatum: 11.05.1993  
Geslacht: Vrouw  
BSN 532685985  
Zilveren Kruis 787995321

**Handtekening voorschrijver:**

## 8.10 PUZZEL

- |   |   |
|---|---|
| 1. slaapstoornis<br>2. covid-19<br>3. anti-bioticum<br>4. waar ga je heen bij gezondheidsklachten | 5. pneumothorax<br>6. gezondheid<br>7. huidaandoening |
|---|---|

1.		I	N	S	O	M	N	I	A <sup>1</sup>					
	2.		C	O	R	O	N	A <sup>1</sup>						
	3.	P	E	N	I	C	I	L	L	I	N	E		
	4.		D	O	K	T	E	R						
	5.		K	L	A <sup>1</sup>	P	L	O	N	G				
	6.	S	A <sup>1</sup>	N	I	T	A <sup>1</sup>	S						
	7.		P	S	O	R	I	A <sup>1</sup>	S	I	S			

**9.01 REISLUSTIGE VOGEL**

Hoe heet de reislustige vogel die een aantal jaar geleden gespot is bij het eiland Texel en binnen een jaar van Rusland (Siberië) via Afrika (Mauritanië) naar Nederland is gevlogen?

**1A** *De Kanoet*

Wat is de bijnaam van deze wereldreiziger?

**1B** *Yellow Green*

Hoe komt hij aan deze bijnaam?

**1C** *Hij draagt gele en groene kleurringen aan zijn poten.*

Hoeveel kilometer heeft hij bij benadering met deze reis afgelegd ?

**1D** *8500 km*



**9.02 WHAT'S IN THE NAME**

Welke kok heeft het recept voor 'Supreme de volaille Rossini' bedacht?

**2A** *Auguste Escoffier*

Aan wie heeft hij dit gerecht opgedragen?

**2B** *Italiaanse componist Rossini*



Hij heeft ook een aantal nagerechten bedacht, zie hieronder. Aan wie heeft hij deze gerechten opgedragen?



**2C**

**2C** *vernoemd naar Koningin Wilhelmina*





2D

2D *vernoemd naar de opera La belle Helene van Jacques Offenbach*



2E

2E *Vernoemd naar Nellie Melba, een Australische zangeres.*

### 9.03 DE TOREN VAN BABEL

Op de USB stick vind je eluidsfragmenten; welke 6 talen hoor je? Zet ze op de goede volgorde van 1 t/m 6. Kies uit: Russisch, Tygrinya, Oigoers, Chinees, Koreaans, Oezbeeks.

1 *Oigoers*

4 *Koreaans*

2 *Chinees*

5 *Russisch*

3 *Oezbeeks*

6 *Tygrinya*

с днем рождения

Tug'ilgan kun muborak bolsin

생일 축하 해요

ደስ ኢሉኩም ዶ ኣብዚ?

生日快樂

توغۇلغان كۈنىڭىزگە مۇبارەك



## 9.04 REALITY-GETALLEN

Een televisiewereld zonder Reality-tv is bijna niet meer voor te stellen. Vaak zijn juist deze programma's 'talk of the town'. Zo ook in deze vraag. Je ziet hieronder een aantal getallen staan. Deze getallen staan voor een aantal Reality-programma's. Ontdek welke Reality-programma's we zoeken.

4A	<i>Temptation Island</i>	19.299819	-69.58517
4B	<i>Expeditie Robinson</i>	6.270384	99.879287
4C	<i>Love Island</i>	27.815967	-15.6166845
4D	<i>B&amp;B Vol Liefde</i>	38.0695769	-8.7468217
4E	<i>The Bachelor</i>	21.0833124	-89.8805358

## 9.05 WERELDSPELEN



Wat was de laatste keer dat er alleen rolstoelers mochten meedoen voor respectievelijk de Paralympische zomerspelen en -winterspelen?

5A Paralympische zomerspelen: 1972

Paralympische winterspelen: 1976 / nooit

Hoeveel categorieën zijn er bij de Paralympische spelen en benoem ze?

**5B** 6 categorieën : *Sporters met een niet progressieve hersenbeschadiging*

*Sporters in een rolstoel; Sporters met een visuele beperking;*

*Sporters met een intellectuele beperking;*

*Sporters genaamd 'les autres' (bijvoorbeeld MS en Dweggroei);*

*Sporters met een amputatie;*

In 1980 vonden de Olympische Spelen plaats in Moskou (toen nog onderdeel van de Sovjet Unie). Wat was de reden dat de Paralympics dat jaar niet plaatsvonden in Moskou, maar in Arnhem?

**5C** *De Sovjet Unie zag zichzelf als een perfecte samenleving. Volgens hen leefden er in een perfecte samenleving geen mensen met een handicap en dus konden zij geen Paralympische Spelen organiseren.*

## 9.06 DOUZE POINTS!

Reizen naar het buitenland was de afgelopen jaren allesbehalve vanzelfsprekend... Gelukkig was er één wereldwijd evenement waarvoor je in 2021 de landsgrenzen niet hoefde te verlaten, omdat het dat jaar juist in Nederland plaatsvond: het Eurovisie Songfestival! **Om 22.15 uur wordt op Omroep Land van Cuijk** een speciale recap van dit evenement uitgezonden. Speciaal voor jullie! In deze recap hoor je acht fragmenten waarin een nummer van het Eurovisie Songfestival 2021 wordt nagespeeld. Herken jij de fragmenten? Geef aan van welk land je het nummer hoort. Let op, geef de antwoorden in dezelfde volgorde als dat je ze in het geluidsfragment hoort!

**1** Land: *Griekenland*

**2** Land: *Oekraïne*

**3** Land: *Azerbeidzjan*

**4** Land: *San Marino*

**5** Land: *Cyprus*

**6** Land: *Frankrijk*

**7** Land: *Australië*

**8** Land: *Italië*



## 9.07 BORDSPELLEN

De wereld is een bron van inspiratie voor verschillende bordspellen. Zo ook voor de spellen die je hieronder ziet. In deze vraag gaat het er niet om of je deze spellen kent, maar vooral of je de bijbehorende spelregels kent! Speel jij spellen volgens de regels? Dan is deze vraag een makkie voor jou!

Hiernaast zie je een uitgespeeld Ticket to Ride spelbord. Welke speelkleur ontvangt 10 bonuspunten?

 7A *geel*


Je speelt met het bord Babylon (A) en hebt hiervan de eerste twee gebouwd. Hiernaast zie je de eindsituatie van een speler van het spel 7 Wonders. Hoeveel punten krijgt de speler voor zijn wetenschapgebouwen?

7B 36



Hiernaast zie je een spelsituatie van Pandemic. Je ziet op de afbeelding maar een fragment van het spelbord. Spelsituaties buiten dit fragment van het spelbord mag je buiten beschouwing laten. Ziektesteentjes worden op de afbeelding aangegeven met groen omliggende vierkantjes.

Er moet een ziektesteentje bijgelegd worden in Bagdad. Hoeveel uitbraken volgen er in totaal?

7C 4





**9.08 WERELDVOEDSEL**

Graan is wereldwijd de belangrijkste voedingsbron voor de mens. De vruchten van eenzaadlobbige cultuurgewassen uit de familie van de grassen worden geteeld om de eetbare bestanddelen, samengesteld uit meellichaam, zemel, kiem en aleuronlaag. Ook in Oploo is graan een belangrijk grondstof. Zo wordt in de molen in het dorp spelt, een oeroude graansoort, verwerkt tot meel en is spelt ook de grondstof van het Matthiasbier van het Schuttersgilde. In 2006 werd het graancirkelproject gestart, niet alleen om bewoners met elkaar in contact te brengen maar ook met de graancirkel-loop is er ook veel kennis te vergaren over de verschillende soorten granen. Wat weten jullie eigenlijk van graansoorten? In de zakjes die bijgeleverd zijn zitten 5 soorten granen. Benoem hieronder welke soorten graan in de zakjes zitten.

**8A** *Emmer tarwe*
**8D** *Spelt*
**8B** *Eenkoorn*
**8E** *Rogge*
**8C** *Boekweit*
**9.09 BIJZONDERE REIZEN**

Een reis kan gemaakt worden voor plezier, maar een reis kan ook een bijzondere plaats aandoen of een bijzonder doel hebben. Hieronder staan 5 foto's van dergelijk bijzondere vakanties of reizen. Weten jullie wat de plaats is wat het einddoel is van deze reis en van wie deze foto van deze reis is?


**9A** Einddoel: *Tarifa Spanje*
*(evt ook North Cape, Norway)*

 Reiziger: *Rene Rutten*

**9B** Einddoel: *Santiago de Compostella*

 Reiziger *Carla van de Weijer*



9C Einddoel: *Lusaka, Zambia*

Reiziger: *Milou Hubers*



9D Einddoel: *Mogolië*

Reiziger *Gijs Verberk*



9E Einddoel: *van Italië naar Noorwegen*

Reiziger *Theo Kuipers*

9.10 LOKALE WERELDREIZIGERS

Ook in Westerbeek en Oploo hebben we wereldreizigers in ons midden. Welke landen zie je aangeduid op de kaart?



10A Land: *Suriname*

10B Land: *Tunisië*

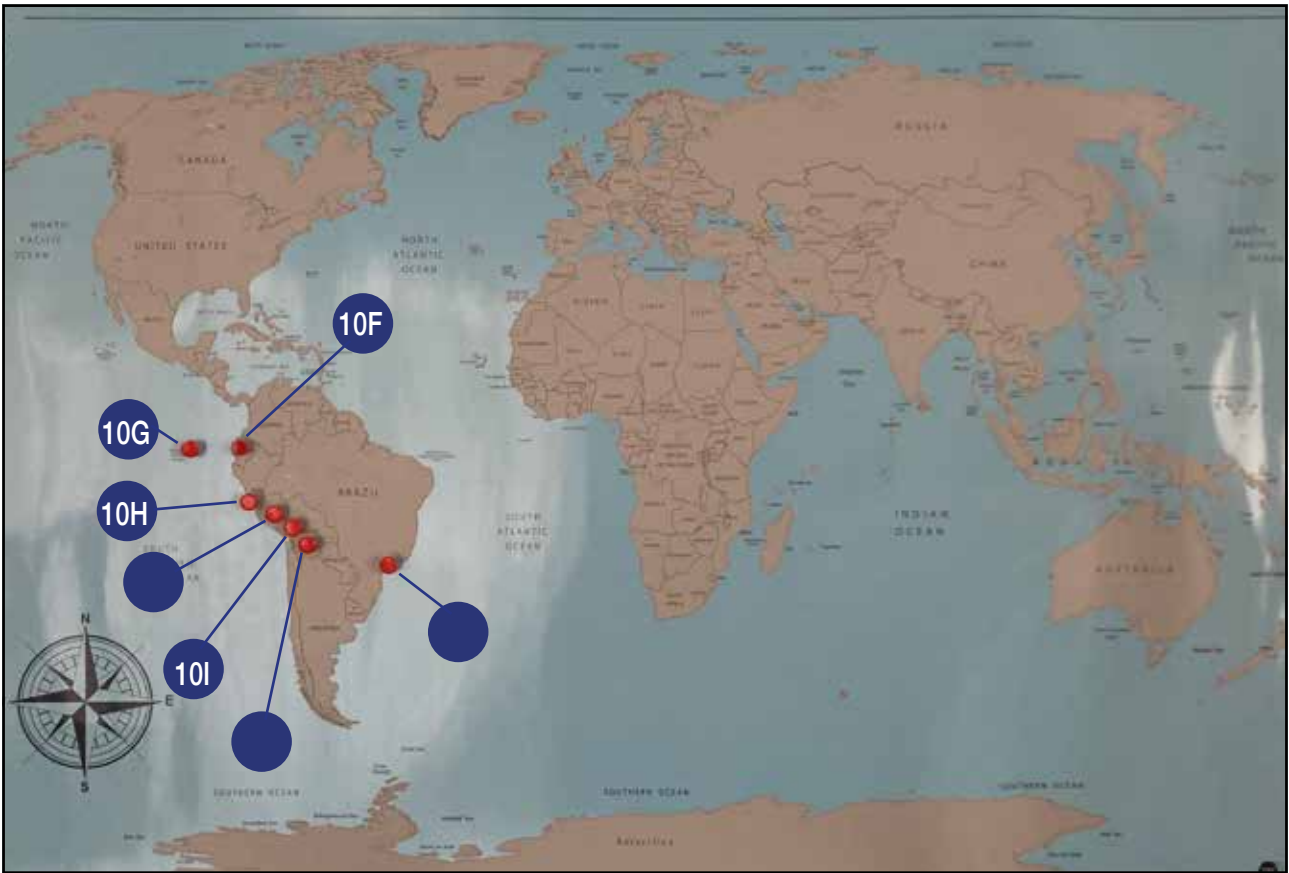
10C Land: *Congo*

10D Land: *Indonesië*

Welke in Oploo geboren heeft op al deze plaatsen ten minste 3 maanden gewoond?

10E *Huib Cornelissen*

Ook in Westerbek bevinden zich wereldreizigers. Welke (ei)landen bevinden zich op de aangegeven plaatsen?



10F Land: *Ecuador*

10G Land: *Santa Cruz (Galapagos)*

10H Land: *Peru*

10I Land: *Bolivia*

Welk Westerbeeks persoon is langs al deze plekken gekomen op zijn of haar rondreis door Zuid Amerika?

10J *Suze van der Ven*





**10.01 WE ARE THE CHAMPIONS**

Wie zijn de winnaars van de kwizzut versie van de afgelopen jaren:

**1A** 2016: *kwizzutwel kwizzutnie*

**1C** 2018: *kwizzutwel kwizzutnie*

**1B** 2017: *Cobbussenclub*

**1D** 2019: *Cobbussenclub*

**10.02 AND THE WINNER IS ...**

Wie zijn de unieke winnaars van de geheime opdracht van de afgelopen jaren.  
Omschrijf kort de geheime opdracht. Natuurlijk bij het juiste jaartal!

**2A** 2016: *Joost Cornelissen (rijexamen)*

**2B** 2017: *Mieke Pannenkoek (Inburgeringscursus)*

**2C** 2018: *niemand (spreekje) (dvt&co, quizerable)*

**2D** 2019: *Jacqueline Cornelissen (schoolexamen)*

**10.03 DE OPRICHTERS**

Wie zaten er in de organisatie van kwizzut in het eerste jaar?

**3A** *Appie Toonen, Sjaak Cornelissen, Geert Thomassen, Jos Zegers, Jasper Pannenkoek, Rene Bergmans, Vincent Achten, Willem Schepers*

**10.04 GOUDEN HOEFIJZERS**

Hoeveel hoefijzers waren er in het jaar 2018 te verdienen voordat de quiz van start ging.

**4A** *10 stuks*

Waar was het eerste hoefijzer gevonden?

**4B** *Staatsbossen bij boswachter Lange*

Waar zijn de laatste 2 hoefijzers uitgedeeld?

**4C** *In Westerbeek bij Dinges. Bij het uitdelen van het boekje*

Wat moesten jullie daarvoor doen? 2 dingen!

**4D** *Rekenopdracht oplossen en zo snel mogelijk het gevonden telefoonnummer bellen.*

**10.05 IN THE PICTURE**

Wat was de foto-opdracht in 2017?

**5A** *De Filmposter*

Wat was foto-opdracht 12.01 in 2016?

**5B** *Staat het er op?*

Wat moest er staan op de juiste foto?

**5C** *Groene kabouter*

Wat was foto-opdracht 12.02 in 2016?

**5D** *Met je team op de plee!*

Wat waren de minimale eisen voor de foto? (3 stuks)

**5E** *Maak een wc-rol van de Omstreeks  
Ga met minimaal 10 personen in een toiletruimte  
Teamnaam moet in beeld zijn.*

**10.06 FILMTALENTEN**

Wat was de Filmopdracht in 2016?

**6A** *Roodkapje*

Wat was de Filmopdracht in 2018?

**6B** *De Lipdub*

**10.07 INLEVEREN**

Wat moest er in 2018 allemaal op USB worden ingeleverd?

**7A**

*Foodfotografie  
Selfie met molen  
Fotomomentje  
Jan steen  
Lipdub*

*Du Pain, du Vin, du Boursin  
Hoor de wind  
Schuupe foto momentje "de groene kabouter"  
foto opdracht  
Filmopdracht*



Welke dingen moest je verder nog inleveren bij het boekje?

**7B** *In elkaar gezette kubus. Gemaakt van 7 andere figuren*

*Ouwe levensmiddelen*

## 10.08 BEZINT EER GE BEGINT

Lees onderstaande informatie goed door voordat je aan de kwis begint. Hiermee opent altijd het kwisboekje. Te lezen op de bladzijde "Hoe werkt het?"

In welke jaar stond hier een duidelijk nieuw onderdeel vernoemd t.o.v. van de voorgaande jaren?

**8A** *2017*

Wat was deze verandering t.o.v. de voorgaande jaren?

**8B** *Geen wegstreepcategorie meer, maar de jokercategorie (dubbele punten)*

## 10.09 WIE WAT BEWAART, DIE HEEFT WAT!

Wat was de naam van de eerste categorie in het boekje van 2016?

**9A** *Best wel ingewikkeld*

Wat was de naam van de vijfde categorie in het boekje van 2017?

**9B** *Gezond & Ongezond*

Wat was de naam van de achtste categorie in het boekje van 2018?

**9C** *Dat klinkt als muziek in de oren*

Wat was de naam van de elfde categorie in het boekje van 2019?

**9D** *Schuupe*

## 10.10 NIEUWE KANSEN, NIEUWE PRIJZEN!

Hoeveel teams hebben in 2019 deelgenomen aan de kwis?

**10A** *20*

Welke teams vielen in 2019 het eerste af?

**10B** *HRG-team, VGZN, De Beekant en Samen gezellig met gezond verstand*





Welk team eindigde in 2019 op de 3e plaats?

10C *Westerloo*

Welk team eindigde in 2019 op de 2e plaats?

10D *Dubbelgelikt*



**11.01 RONDJE LANGS DE VELDEN**

Op 21 november 2022 hebben we rondje langs de velden gemaakt. Dit keer niet langs de voetbalvelden, maar een rondje langs velden waar gewassen staan te groeien in 2022. Maar welk gewas stond op 21 november 2022 in een straal van 10 meter van onderstaande GPS locaties?

**GPS locatie 51.580606, 5.830131**

**1A** *Vruchtbomen*

**GPS locatie 51.579679, 5.887768**

**1B** *Tagetes / Afrikaantjes*

**GPS locatie 51.575537, 5.854294**

**1C** *Graszoden*

**GPS locatie 51.603184, 5.853530**

**1D** *Waspeen / Wortelen*

**GPS locatie 51.595987, 5.880528**

**1E** *Braak. Dit is een strikvraag. Op het perceel stonden lelies, maar op 21 november was dit perceel deels gerooid, ook de gps locatie.*

**11.02 WINDWIJZER**

Op welk adres (straat, huisnummer, woonplaats) zijn deze windwijzers te vinden ?



**2A** *Vloetweg 4, Oploo*



**2B** *Beeksenhof 18, Oploo*



2C *Het Zand 5, Westerbeek*



2D *van Haandelstraat 34, Westerbeek*

### 11.03 BENKSKES

Ben je lekker aan het wandelen in buitengebied van Oploo en Westerbeek, dan is het ook wel ff lekker om te rusten op een bankje. Je kijkt eens lekker om je heen naar de mooie omgeving. Maar het bankje kritisch bekijken ho maar! Herken jij de bankjes van de foto's die in Oploo en/of Westerbeek staan? Beschrijf de locatie van het bankje zo nauwkeurig mogelijk zodat de organisatie weet dat jij ook echt weet waar het bankje staat.



3A *Gemertseweg 17, Oploo*



3B *Heitje Westerbeek*



**3C** *Zandpad tussen Deurneseweg en Broekstraat, Westerbeek*



**3D** *De biezen, Oploo*

Langs het bankje van foto 3D staat een bord met wat informatie. Welke titel staat bovenaan op dit bord?

**3E** *Turen in de natuur*

## 11.04 BLUB BLUB...

Op de hoek Stevensstraat / Nieuweweg staat een witte aanhanger boven op de sloot. Wat wordt gemeten door/in deze aanhanger?

**4A** *meststoffen*

Wat is de naam van het project waarvoor deze aanhanger gebruikt wordt?

**4B** *Sensorgestuurd Boeren*

Ergens langs deze beek staat een mooi bord met informatie over het project. Maak een foto van dit bord, met daarop 1 teamlid en je teamnummer en sla die op op de USB stick met als omschrijving: "Buiten het Boekje 4C".

**4C** *Zet de foto op de USB stick onder de naam: "Buiten het Boekje 4C"*

**11.05 BOLLETJES EN PIJLTJES**

In de "rally" sport en in Parijs-Dakar word vaak gebruik van de bolletje-pijltjes route om te navigeren. Hieronder vind je een dergelijke bolletje-pijltje route. Volg de route.

Startpunt van de bolletjes en pijltjes route is: 51.604277, 5.868922 rij vanuit hier in Z/W richting om de route te beginnen. Tijdens het rijden van de route kom je verschillende "klinkers" tegen.

**Ga naar het startpunt : 51.604227,5.868922. rij vanuit hier in Z/W richting om de route te beginnen.**

1 	2 	3 	4 	5 
6 	7 	8 	9 	10 
11 	12 	13 	14 	15 
16 	17 	18 	19 	20 
21 	22 	23 	24 	25 
26 	27 	28 	29 	30 
31 	32 	33 	34 	35 . Vul het volledige antwoord in het boek in.



Welke klinkers ben je onderweg tegen gekomen?

5A *a, o, u, e, u, i*

Wat is het eindpunt van de route?

5B *grasveldje tussen Rob v.d. Oever en Conny Verhoeven / van Handelstraat Westerbeek*

**11.06 SPIEGELTJE SPIEGELTJE**

Maar dit keer geen spiegeltje spiegeltje aan de wand, maar een autospiegel, en een omgeving.

Omschrijf per foto waar deze foto gemaakt is. Omschrijf het zo secuur mogelijk! Ook noteren van een gps locatie is mogelijk (deze moet zich dan binnen een straal van 100 meter van de locatie van de foto bevinden).



6A *Inrit motorcross terrein duivenbos  
Oploseweg*



6B *Spekklef Oploo*



6C *Brugstraat Oploo*



6D *Watermolenstraat Oploo*



6E *Nieuweweg, Westerbeek*

## 11.07 VOGELTELLING

In de omgeving zie je steeds meer vogelhuisjes hangen, bijv voor betere omgeving voor vogels die je buxusmot aan kunnen pakken. Maar waar hangen die vogelhuisjes? Je ziet ze waarschijnlijk wel eens hangen, maar weet je dat nu ook?

Waar hangen de vogelhuisjes op de foto's. omschrijf zo secuur mogelijk waar je deze vogelhuisjes ziet hangen. Invullen van een gps locatie mag, wederom een locatie die binnen straal van 100 meter van de desbetreffende foto ligt.



7A *Gemertseweg 17, Oploo*



7B *Den Hoek 16C, Oploo*



**11.08 STIPT OP TIJD!**

Herinneren jullie je vraag 5 nog? Daar was je op een eindpunt gekomen. Op dit eindpunt van de route zullen wij exact op 22:30 uur nog meer letters laten zien. Met deze letters die je daar ziet, in combinatie met de letters van vraag 5, kun je onderstaand woord compleet maken. Vul alle letters in op de lijntjes hieronder. Let op: de letters zullen we **exact om 22:30 uur** laten zien gedurende 1 minuut.

P	A	R	C	O	U	R	S
---	---	---	---	---	---	---	---

D	E
---	---

Q	U	I	Z
---	---	---	---

**11.09 ZOEK DE VERSCHILLEN**

Je komt er zo vaak, maar van boven is het toch weer anders! We hebben wat foto's gemaakt met een drone. De foto's zijn achteraf wel wat "gefotoshopt". Vind in foto's op de volgende pagina in totaal 5 dingen die niet kloppen. Omcirkel op de foto wat niet klopt en schrijf onder iedere foto wat er dan niet klopt. Let op: in totaal over beide foto's kloppen 5 dingen niet, op de 1e foto zitten 3 fouten, op de 2e foto zitten dus 2 fouten.



- Extra glijbaan (bovenste)

- Extra evenwichtsbalk (onderste)

- Speeltoestel in het zand is verdwenen (staat in de foto van Oploo)

9B



- Speeltoestel (van speelplaats Westerbeek) in de zandvlakte

- 2 Extra stenen rechts van het huis (de 2 onderste)

## 11.10 FIETS UM DER IN

Lekker ontspannen de omgeving verkennen op de fiets! Er zijn verschillende routes in de omgeving gemaakt. Er is een route die zowel door Oploo als Westerbeek gaat. De knooppunten van deze route zijn: 98 – 97 – 96 – 95 – 27 – 33 – 34 – 35 – 60 – 43 – 51 – 52 – 53 – 36 – 31 – 23.

Wat is de naam van deze route?

10A *Bos en Peelroute*

Wie heeft deze route gemaakt?

10B *Natuurlijk Sint Anthonis of Toeristisch Platform Natuurlijk Sint Anthonis*

Wat is de lengte van deze route?

10C *35 km*





## 12.01 FOTO-OPDRACHT

## "MIND MYSTERY"

Siebrandt Jacob van Moelberen, een man met een miljoen ideeën, een passie voor uitvindingen, en oplossingen die altijd net een beetje anders waren. Na jaren van experimenteren had hij uiteindelijk ontdekt hoe hij door middel van optische illusies het waarnemen voor de gek kon houden. Vervolgens wilde hij de gravitatie overwinnen, door objecten te laten zweven, in de lucht te laten vallen en naar de grond duwen. Op het moment dat hij bij zijn laatste experiment zijn laatste ingrediënt aan zijn formule toevoegde, ontstond er een enorme knal. Zijn huis belande na deze knal op zijn kop. Zijn proef was gelukt want sindsdien vallen er objecten naar boven.



Graag willen we dat jullie een "Mind Mystery" creëren. Maak een foto van deze optische illusie welke aan de volgende eisen voldoet:

- Minimaal 4 personen.
- Een huisdier.
- Een bord met een dubbele boterham.
- Een stuk fruit.
- Minimaal 4 meubelstukken.
- De kaft van het quizboekje.
- Teamnaam of teamnummer moet zichtbaar zijn.
- Originaliteit en creativiteit zijn natuurlijk het allerbelangrijkste.
- De foto moeten we terug kunnen vinden op de USB stick onder vermelding van Mind Mysterie en teamnummer.

Succes!

Zet de foto op de USB stick onder de naam: "Mind Mysterie [teamnr]"





13.01 FILMOPDRACHT - GREASE



Iedereen kent het nummer "greased lightning" uit de film Grease. De stoere Danny probeert de brave Sandy voor zich te winnen. Zie deze youtube link <https://www.youtube.com/watch?v=wK63eUyk-iM>. Dit is de scene met de auto in de werkplaats. Speel deze scene zo goed mogelijk na. Enkele criteria die we graag terug willen zien in het filmpje:

- Filmpje moet minimaal 1 minuut bedragen, en maximaal 1,5 minuut.
- Er moet 1 auto in te zien zijn.
- Er moet minimaal 1 refrein in zitten met de welbekende dans, uitgevoerd door minimaal 5 personen (incl Danny Zuko).
- Het karakteristieke kapsel van Danny moet zo goed mogelijk nagebootst worden.
- Originaliteit wordt zeker beloond!

Zet het filmpje op de USB stick onder de naam: "Filmopdracht [teamnr]"



